



ВСЕРОССИЙСКАЯ ОЛИМПИАДА ШКОЛЬНИКОВ
ПО ОБЖ. 2019–2020 уч. г.
МУНИЦИПАЛЬНЫЙ ЭТАП.
7–8 КЛАССЫ

Уважаемый участник!

При выполнении заданий Вам предстоит выполнить определённую работу, которую лучше организовать следующим образом:

- внимательно прочитайте задание;
- если Вы отвечаете на теоретический вопрос или решаете ситуационную задачу, обдумайте и сформулируйте конкретный ответ (ответ должен быть кратким, и его содержание следует вписать в отведённое поле; пишите чётко и разборчиво);
- при ответе на тестовые задания определите верный ответ и обведите кружком букву (буквы), соответствующую(-ие) выбранному Вами ответу.

За каждый правильный ответ Вы можете получить определённое членами жюри количество баллов, не выше указанной максимальной оценки.

Сумма набранных баллов за все решённые вопросы в двух форматах – итог Вашей работы. **Максимальное количество баллов – 100.**

Задания считаются выполненными, если Вы вовремя сдали их членам жюри.


Желаем успеха!



ТЕСТОВЫЕ ЗАДАНИЯ

*Определите один правильный ответ.
За правильный ответ начисляется 2 балла.*


- 1 **Что является пожаром?**
 - а) неконтролируемое горение, причиняющее материальный ущерб, вред жизни и здоровью граждан, интересам общества и государства
 - б) возгорание в результате умышленных или неосторожных действий
 - в) начало горения под действием источника зажигания
 - г) сложный физико-химический процесс превращения компонентов горючей смеси в продукты сгорания с выделением теплового излучения, света и лучистой энергии
- 2 **В чём заключается опасность бейскламбинга?**
 - а) в ограниченном времени на раскрытие парашюта
 - б) в подъёме на большую высоту без страховки
 - в) в погружении в затопленную пещеру
 - г) в сложных и опасных трюках
- 3 **При запуске бумажных фонариков, натянутых на деревянный каркас, в нижней части которых закрепляется горелка, расстояние до леса должно быть не менее**
 - а) 200 м
 - б) 85 м
 - в) 100 м
 - г) 95 м
- 4 **Какое цветовое обозначение соответствует уровню опасности от погодных факторов «Наблюдаются или ожидаются в прогностический период некоторые опасности для отдельных видов деятельности. Для населения опасности не наблюдаются и не ожидаются»?**
 - а) оранжевый
 - б) жёлтый
 - в) зелёный
 - г) красный
- 5 **Дезинфекция применяется для**
 - а) удаления радиоактивных веществ
 - б) обезвреживания токсичных и опасных химических веществ
 - в) уничтожения насекомых и клещей
 - г) уничтожения возбудителей инфекционных болезней



- 6 **Защитное сооружение гражданской обороны, предназначенное для защиты укываемых от воздействия поражающих факторов ядерного, химического оружия и обычных средств поражения, биологических средств и поражающих концентраций аварийно химически опасных веществ, а также от высоких температур и продуктов горения при пожарах, является**
- а) убежищем
 - б) противорадиационным укрытием
 - в) укрытием
 - г) заглублённым убежищем
- 7 **Укажите цветовое обозначение «повышенного» уровня террористической опасности.**
- а) синий
 - б) зелёный
 - в) жёлтый
 - г) голубой
- 8 **Верны ли следующие суждения об асептике?**
- А. Асептика – это комплекс мероприятий, направленных на предупреждение попадания возбудителей инфекции в рану или организм человека.
- Б. Асептика – это комплекс мероприятий, направленных на борьбу с инфекцией в организме человека.
- а) верно только А
 - б) верно только Б
 - в) верны оба суждения
 - г) оба суждения неверны
- 9 **Какая повязка изображена на рисунке?**
- а) пращевидная
 - б) шапочка Гиппократа
 - в) косыночная
 - г) чепец



- 10 **У пострадавшего в результате термического ожога предплечья возникла боль на месте повреждения – покраснение, отёк, пузыри с прозрачным содержимым. Какой степени ожога соответствуют описанные признаки?**
- а) I
 - б) II
 - в) III
 - г) IV



Определите все правильные ответы.

За каждый правильный ответ начисляется 2 балла.

11 **Что обозначает и к какой группе относится изображённый знак безопасности?**

- а) «Опасно. Едкие и коррозионные вещества»
- б) предупреждающие
- в) запрещающие
- г) предписывающие
- д) «Опасно. Ядовитые вещества»



12 **Какое значение имеет визуальный сигнал и к какому типу он относится?**

- а) «земля–воздух»
- б) отрицательно – «нет»
- в) утвердительно – «да»
- г) «воздух–земля»
- д) «необходима медицинская помощь»



13 **По какому номеру можно позвонить в экстренную службу города Москвы с мобильного телефона?**


- а) 112
- б) 912
- в) 113
- г) 105
- д) 911

14 **Определите признаки ветра тихой силы**

- а) на море рябь, пены на гребнях нет
- б) зеркально–гладкое море
- в) дым поднимается вертикально
- г) короткие волны, гребни не опрокидываются и кажутся стекловидными
- д) направление ветра заметно по отношению дыма, но не по флюгеру

15 **Опасными гидрологическими явлениями считаются**


- а) ветровой нагон
- б) оползень
- в) обвал
- г) шторм
- д) зажор



- 16 **Определите поражающие факторы гололёда**
а) гравитационный
б) динамический
в) аэродинамический
г) гидродинамический
д) физический
- 17 **По каким признакам возможно предположить, что предмет может являться взрывным устройством?**
а) по наличию небольших антенн
б) по исходящему запаху горького миндаля
в) по наличию блестящих застёжек
г) по исходящему запаху имбиря
д) по наличию целлофановой обёртки
- 18 **Покрывало спасательное изотермическое накладывается серебристой стороной внутрь (к пострадавшему) при**
а) тепловом ударе
б) травматическом шоке
в) переохлаждении
г) солнечном ударе
д) значительном повышении температуры тела при инфекционных заболеваниях
- 19 **Какие признаки характерны для ушиба конечности?**
а) кровоизлияние
б) деформация пострадавшей части конечности
в) отёк в месте повреждения
г) укорочение пострадавшей части конечности
д) костный хруст
- 20 **Какие действия необходимо выполнить для оказания первой помощи при укусе гадюки в ногу?**
а) наложить жгут выше места укуса
б) наложить давящую повязку
в) сделать надрез в месте укуса
г) прижечь место укуса
д) выполнить иммобилизацию пострадавшей конечности

Максимум за тестовые задания – 60 баллов.

Не забудьте перенести Ваши ответы в таблицу на титульном листе!



ТЕОРЕТИЧЕСКИЕ ЗАДАНИЯ

Задание 1

Светофор – устройство для подачи световых сигналов, регулирующих движение на улицах и автомобильных дорогах.

Соотнесите цвет и смысловое значение сигналов светофора. Ответ запишите в таблицу.


	Цвет сигнала светофора		Смысловое значение сигналов светофора
А	зелёный сигнал	1	Запрещает движение, кроме случаев, предусмотренных пунктом 6.14 Правил, и предупреждает о предстоящей смене сигналов
Б	зелёный мигающий сигнал	2	Разрешает движение и информирует о наличии нерегулируемого перекрёстка или пешеходного перехода, предупреждает об опасности
В	жёлтый сигнал	3	Разрешает движение
Г	жёлтый мигающий сигнал	4	Запрещает движение
Д	красный сигнал, в том числе мигающий	5	Разрешает движение и информирует, что время его действия истекает и вскоре будет включён запрещающий сигнал (для информирования водителей о времени в секундах, остающемся до конца горения зелёного сигнала, могут применяться цифровые табло)

Ответ:

А	Б	В	Г	Д

Максимум за задание – 10 баллов.

Не забудьте перенести Ваши ответы в бланк работы!



Задание 2

Опасное метеорологическое явление – природные процессы и явления, возникающие в атмосфере под действием различных природных факторов или их сочетаний, оказывающие или могущие оказать поражающее воздействие на людей, сельскохозяйственных животных и растения, объекты экономики и окружающую природную среду.

Соотнесите опасное метеорологическое явление и его описание. Ответ запишите в таблицу.


	Опасное метеорологическое явление		Описание опасного метеорологического явления
А	сильный ветер	1	Атмосферное образование с вращательным движением воздуха вокруг вертикальной или наклонной оси
Б	вихрь	2	Ветер разрушительной силы и значительной продолжительности, скорость которого превышает 32 м/с
В	ураган	3	Сильный маломасштабный атмосферный вихрь диаметром до 1000 м, в котором воздух вращается со скоростью до 100 м/с, обладающий большой разрушительной силой
Г	смерч	4	Резкое кратковременное усиление ветра до 20–30 м/с и выше, сопровождающееся изменением его направления, связанное с конвективными процессами
Д	шквал	5	Движение воздуха относительно земной поверхности или горизонтальной составляющей со скоростью свыше 14 м/с

Ответ:

А	Б	В	Г	Д

Максимум за задание – 10 баллов.

Не забудьте перенести Ваши ответы в бланк работы!



Задание 3


Средство индивидуальной защиты – средство индивидуального пользования для предотвращения или уменьшения воздействия на человека вредных и (или) опасных факторов, а также для защиты от загрязнения.

Установите соответствие между средством индивидуальной защиты и группой, к которой это средство относится. Соответствие отметьте знаком «+».

А Средства индивидуальной защиты органов дыхания	Б Наименование средства индивидуальной защиты	В Средства индивидуальной защиты кожи
	камера защитная детская	
	защитные очки	
	противогаз	
	одежда специальная защитная	
	респиратор	

Максимум за задание – 10 баллов.

Не забудьте перенести Ваши ответы в бланк работы!



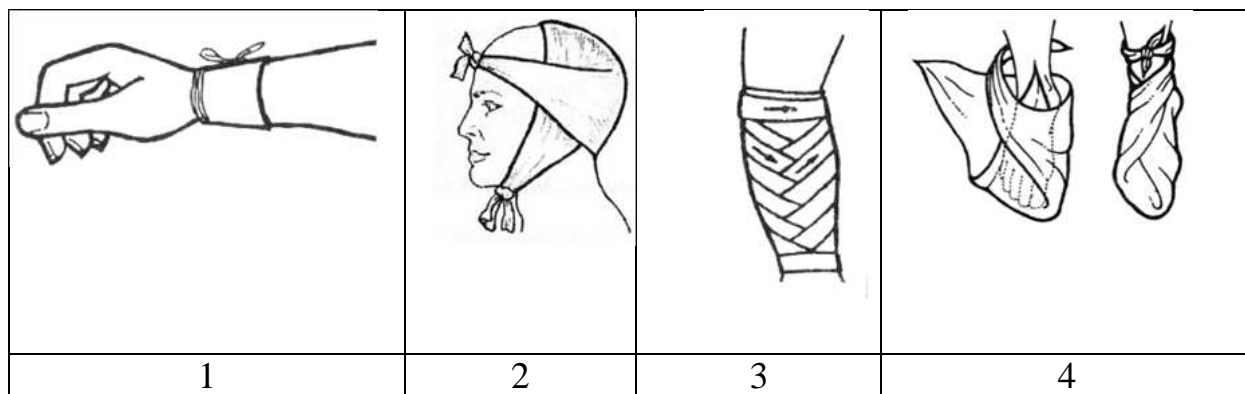
Задание 4

Установите соответствие между наименованием повязки и её изображением: для каждой позиции, обозначенной буквой, подберите соответствующую позицию, обозначенную цифрой. Результаты внесите в таблицу.

Наименование повязки

- А. пращевидная повязка
- Б. циркулярная повязка
- В. косыночная повязка
- Г. спиральная повязка

Изображение повязки



Ответ:

А	Б	В	Г

Максимум за задание – 10 баллов.

Не забудьте перенести Ваши ответы в бланк работы!

Максимум за работу – 100 баллов.





ВСЕРОССИЙСКАЯ ОЛИМПИАДА ШКОЛЬНИКОВ
ПО ОБЖ. 2019–2020 уч. г.
МУНИЦИПАЛЬНЫЙ ЭТАП.
9 КЛАСС

Уважаемый участник!

При выполнении заданий Вам предстоит выполнить определённую работу, которую лучше организовать следующим образом:

- внимательно прочитайте задание;
- если Вы отвечаете на теоретический вопрос или решаете ситуационную задачу, обдумайте и сформулируйте конкретный ответ (ответ должен быть кратким, и его содержание следует вписать в отведённое поле; пишите чётко и разборчиво);
- при ответе на тестовые задания определите верный ответ и обведите кружком букву (буквы), соответствующую(-ие) выбранному Вами ответу.

За каждый правильный ответ Вы можете получить определённое членами жюри количество баллов, не выше указанной максимальной оценки.

Сумма набранных баллов за все решённые вопросы в двух форматах – итог Вашей работы. **Максимальное количество баллов – 100.**

Задания считаются выполненными, если Вы вовремя сдали их членам жюри.

Желаем успеха!



ТЕСТОВЫЕ ЗАДАНИЯ

*Определите один правильный ответ.
За правильный ответ начисляется 2 балла.*

1 **К какому классу пожара относится изображённый символ?**

- а) А
- б) В
- в) С
- г) D



2 **Какое молодёжное увлечение наиболее опасно для жизни?**

- а) диггерство
- б) сталкерство
- в) зацепинг
- г) планкинг

3 **Со сколько лет можно покупать пиротехнические изделия (если производителем не установлено возрастное ограничение)?**

- а) с 17 лет
- б) с 14 лет
- в) с 16 лет
- г) с 15 лет

4 **Определите признаки штормового ветра.**


- а) небольшие повреждения; ветер срывает дымовые колпаки и черепицу
- б) направление ветра заметно по отношению дыма, но не по флюгеру
- в) ветер ломает сучья деревьев, идти против ветра очень трудно
- г) качаются стволы деревьев, идти против ветра трудно

5 **Дезактивация применяется для**

- а) удаления радиоактивных веществ
- б) уничтожения возбудителей инфекционных и паразитарных болезней
- в) уничтожения насекомых и клещей
- г) обезвреживания токсичных и опасных химических веществ

6 **Сколько существует сигналов оповещения гражданской обороны?**

- а) 4
- б) 1
- в) 3
- г) 5




- 7 **Укажите цветное обозначение «высокого» уровня террористической опасности.**
- а) красный
 - б) жёлтый
 - в) оранжевый
 - г) фиолетовый
- 8 **Каким путём реализуется трансмиссивный механизм передачи инфекции?**
- а) водным
 - б) пищевым
 - в) контактным
 - г) через укус кровососущего членистоногого
- 9 **Какое оптимальное положение тела необходимо придать пострадавшему с затруднением дыхания (одышкой)?**
- а) возвышенное положение верхней части тела
 - б) возвышенное положение нижней части тела
 - в) устойчивое боковое положение
 - г) горизонтальное положение
- 10 **Какое описание повреждения соответствует ожогу III степени?**
- а) некроз (омертвление) всех слоёв кожи
 - б) поражение не только кожи, но и глубже лежащих тканей (подкожной клетчатки, мышц, сухожилий, костей)
 - в) повреждение эпидермиса, характеризующееся покраснением и отёком
 - г) отслойка эпидермиса с образованием пузырей





Определите все правильные ответы.

За каждый правильный ответ начисляется 2 балла.


- 11 **Какую геометрическую форму и сигнальный цвет имеют запрещающие знаки безопасности?**
а) круг с поперечной полосой
б) жёлтый цвет
в) треугольник
г) красный цвет
д) квадрат или прямоугольник
- 12 **Какое значение имеет визуальный сигнал и к какому типу он относится?**
а) «заберите нас – самолёт покинут»
б) «земля–воздух»
в) «воздух–земля»
г) «необходима медицинская помощь»
д) отрицательно – «нет»
- 
- 13 **Какие виды наказания предусмотрены для несовершеннолетних?**
а) арест
б) штраф
в) обязательные работы
г) принудительные работы
д) заключение под стражу
- 14 **Какой уровень опасности и цветовое обозначение соответствует описанию «Опасности от гидрометеорологических явлений, комплексов метеорологических явлений не наблюдаются и в прогностический период не ожидаются»?**
а) зелёный
б) оранжевый
в) первый
г) второй
д) жёлтый
- 15 **Убежища по месту расположения классифицируются на**
а) встроенные
б) примыкающие
в) углублённые
г) подвальные
д) отдельно стоящие



- 16 **Опасными метеорологическими явлениями считаются**
а) цунами
б) сильный ветер
в) шторм
г) затор
д) сель
- 17 **Какие из указанных организаций являются террористическими?**
а) Союз молодёжи Южного Дагестана
б) «Ахульго»
в) Фонд социально-экономического развития «Гази-Кумух»
г) «Исламская группа»
д) Общество социальных реформ
- 18 **Какие профилактические прививки включены в Национальный календарь профилактических прививок?**
а) против вирусного гепатита В
б) против вирусного гепатита А
в) против туберкулёза
г) против бешенства
д) против клещевого вирусного энцефалита
- 19 **На изображении представлен способ переноски пострадавшего в одиночку на плече. При каких травмах пострадавшего данный способ переноски запрещён?**
а) травма верхних конечностей
б) травма нижних конечностей
в) травма груди, живота
г) травма позвоночника
д) травма головы
- 
- 20 **При каких травмах пострадавшему придают оптимальное положение тела, изображённое на рисунке?**
а) травма головы
б) травма груди
в) травма позвоночника
г) травма живота
д) травма таза
- 

Максимум за тестовые задания – 60 баллов.

Не забудьте перенести Ваши ответы в таблицу на титульном листе!



ТЕОРЕТИЧЕСКИЕ ЗАДАНИЯ

Задание 1

Укажите, где должны либо могут передвигаться пешеходы согласно Правилам дорожного движения Российской Федерации.

Максимум за задание – 10 баллов.

Задание 2


Поражающие факторы источников техногенных ЧС по механизму действия подразделяют на факторы физического и химического действия.

Установите соответствие между описанием поражающего фактора и поражающими факторами физического и химического действия. Соответствие отметьте знаком «+».

А Поражающие факторы физического действия	Б Описание поражающего фактора	В Поражающие факторы химического действия
	воздушная ударная волна	
	токсическое действие опасных химических веществ	
	экстремальный нагрев среды	
	тепловое излучение	
	ионизирующее излучение	

Максимум за задание – 10 баллов.

Не забудьте перенести Ваши ответы в бланк работы!



Задание 3


Защитное сооружение гражданской обороны – специальное сооружение, предназначенное для защиты населения, личного состава сил гражданской обороны, а также техники и имущества гражданской обороны от воздействия средств нападения противника.

Установите соответствие между защитным сооружением ГО и категорией граждан, для которых это сооружение создаётся. Соответствие отметьте знаком «+».

А Убежище	Б Категория граждан	В ПРУ
	Работники наибольшей работающей смены организаций, отнесённых к категориям по ГО	
	Все категории населения, находящиеся в зонах возможного радиоактивного загрязнения, за пределами зон возможных разрушений и возможных сильных разрушений	
	Служащие организаций, обеспечивающих функционирование и жизнедеятельность атомных станций	
	Персонал, обеспечивающий функционирование и жизнедеятельность атомных станций, сооружений и комплексов с промышленными, экспериментальными и исследовательскими ядерными реакторами	
	Личный состав воинских и подразделений пожарной охраны, обеспечивающих функционирование и жизнедеятельность комплексов для производства, использования, переработки ядерного топлива и ядерных материалов	

Максимум за задание – 10 баллов.

Не забудьте перенести Ваши ответы в бланк работы!



Задание 4

Соотнесите наименование химического соединения (вещества), содержащегося в табачном дыме, с последствием воздействия его на организм человека.

Для каждой позиции столбца, обозначенного буквой, подберите соответствующую позицию из столбца, обозначенного цифрой.

Ответ внесите в таблицу.


Химическое соединение (вещество)		Последствия воздействия на организм человека	
А	угарный газ	1	Органический растворитель, способный вызвать несколько видов рака, включая лейкемию
Б	никотин	2	Токсичное вещество, способное накапливаться в костях и вызывать их разрушение
В	бензол	3	Способен связываться с гемоглобином крови и препятствовать доставке кислорода к клеткам организма
Г	формальдегид	4	В низкой концентрации возбуждает ЦНС, в высокой – угнетает
Д	свинец	5	Водный раствор применяют для консервации анатомических препаратов, является сильным канцерогеном

А	Б	В	Г	Д

Максимум за задание – 10 баллов.

Не забудьте перенести Ваши ответы в бланк работы!

Максимум за работу – 100 баллов.





**ВСЕРОССИЙСКАЯ ОЛИМПИАДА ШКОЛЬНИКОВ
ПО ОБЖ. 2019–2020 уч. г.
МУНИЦИПАЛЬНЫЙ ЭТАП.
10–11 КЛАССЫ**

Уважаемый участник!

При выполнении заданий Вам предстоит выполнить определённую работу, которую лучше организовать следующим образом:

- внимательно прочитайте задание;
- если Вы отвечаете на теоретический вопрос или решаете ситуационную задачу, обдумайте и сформулируйте конкретный ответ (ответ должен быть кратким, и его содержание следует вписать в отведённое поле; пишите чётко и разборчиво);
- при ответе на тестовые задания определите верный ответ и обведите кружком букву (буквы), соответствующую(-ие) выбранному Вами ответу.

За каждый правильный ответ Вы можете получить определённое членами жюри количество баллов, не выше указанной максимальной оценки.

Сумма набранных баллов за все решённые вопросы в двух форматах – итог Вашей работы. Максимальное количество баллов – 100.

Задания считаются выполненными, если Вы вовремя сдали их членам жюри.

Желаем успеха!



ТЕСТОВЫЕ ЗАДАНИЯ

*Определите один правильный ответ.
За правильный ответ начисляется 2 балла.*

- 1 **Горение каких веществ относится к пожару класса В?**
 - а) твёрдых
 - б) газообразных
 - в) жидких
 - г) металлов

- 2 **Каким молодёжным увлечением НЕЛЬЗЯ заниматься ни при каких условиях?**
 - а) бейскламбинг
 - б) паркур
 - в) бейсджампинг
 - г) айсклаймбинг

- 3 **Укажите краткую характеристику землетрясения в 2 балла.**
 - а) отмечается только сейсмическими приборами
 - б) распознаётся по лёгкому дребезжанию и колебанию предметов, посуды и оконных стёкол, скрипу дверей и стен. Внутри здания сотрясение ощущает большинство людей
 - в) ощущается всеми. Многие в испуге выбегают на улицу. Картины падают со стен. Отдельные куски штукатурки откалываются
 - г) отмечается сейсмическими приборами. Ощущается только отдельными людьми, находящимися в состоянии полного покоя на верхних этажах зданий, и очень чуткими домашними животными

- 4 **Дезгазация применяется для**
 - а) уничтожения возбудителей инфекционных болезней
 - б) удаления радиоактивных веществ
 - в) обезвреживания токсичных и опасных химических веществ
 - г) уничтожения насекомых и клещей

- 5 **Укажите цветовое обозначение «критического» уровня террористической опасности**
 - а) оранжевый
 - б) жёлтый
 - в) алый
 - г) красный





- 6 **Какой витамин предупреждает развитие рахита у детей раннего возраста и остеопороза у пожилых людей?**
а) А
б) В
в) С
г) D
- 7 **Характерным признаком тяжёлой черепно-мозговой травмы является**
а) бледность кожи
б) головокружение
в) однократная рвота
г) выделение кровянистой жидкости из ушей, носа
- 8 **Война, в которой преследуются ограниченные военно-политические цели, военные действия ведутся в границах противоборствующих государств, и которая затрагивает преимущественно интересы только этих государств, –**
а) локальная война
б) региональная война
в) военный конфликт
г) вооружённый конфликт
- 9 **Категория годности «Б» гражданина к военной службе обозначает**
а) годен к военной службе с незначительными ограничениями
б) ограниченно годен к военной службе
в) временно не годен к военной службе
г) не годен к военной службе
- 10 **Каков радиус убойного действия осколков ручной гранаты РГН?**
а) 8,7 м
б) 16,5 м
в) 25 м
г) 6,5 м



Определите все правильные ответы.

За каждый правильный ответ начисляется 2 балла.

- 11 **Какие группы знаков безопасности имеют геометрическую форму квадрата или прямоугольника?**
- а) предписывающие
 - б) пожарной безопасности
 - в) эвакуационные и медицинского и санитарного назначения
 - г) предупреждающие
 - д) запрещающие
- 12 **Какое значение имеет визуальный сигнал и к какому типу он относится?**
- а) «воздух–земля»
 - б) отрицательно – «нет»
 - в) «земля–воздух»
 - г) «необходима медицинская помощь»
 - д) утвердительно – «да»
- 
- 13 **Какой уровень опасности и цветовое обозначение соответствует описанию «Наблюдаются или ожидаются в прогностический период негативные последствия для всех видов деятельности и жизнедеятельности населения»?**
- а) красный
 - б) оранжевый
 - в) второй
 - г) третий
 - д) жёлтый
- 14 **Противорадиационные укрытия создаются для**
- а) населения, не отнесенного к категориям по гражданской обороне, расположенных в зоне возможного радиоактивного заражения
 - б) для работников наибольшей работающей смены организаций, отнесённых к категориям по гражданской обороне
 - в) населения, проживающего на территориях, отнесённых к группам по гражданской обороне, находящихся за пределами зон возможного радиоактивного заражения
 - г) для работников дежурной смены, расположенных за пределами зон возможного радиоактивного заражения
 - д) работников организаций, не отнесённых к категориям по гражданской обороне, расположенных в зоне возможного радиоактивного заражения
- 15 **Какие из указанных организаций являются террористическими?**
- а) Коммунистический союз молодёжи
 - б) «Ахульго»
 - в) «Джебхат ан-Нусра»
 - г) «Лашкаре-Тайба»
 - д) «Харон»



- 16 **В каких случаях у человека происходит формирование активного приобретённого иммунитета?**
- а) после перенесённого инфекционного заболевания
 - б) вследствие закаливания организма
 - в) вследствие применения витаминов
 - г) в результате занятий физической культурой
 - д) после профилактических прививок
- 17 **Какие из перечисленных признаков являются характерными для инсульта?**
- а) боль за грудиной
 - б) одышка
 - в) нарушение речи
 - г) кашель
 - д) асимметрия лица
- 18 **Какие рода войск входят в состав Сухопутных войск РФ?**
- а) береговые войска
 - б) войска ПВО-ПРО
 - в) инженерные войска
 - г) войска противовоздушной обороны
 - д) воздушно-десантные войска
- 19 **От призыва на военную службу в мирное время освобождаются граждане,**
- а) признанные годными к военной службе с незначительными ограничениями по состоянию здоровья
 - б) признанные ограниченно годными к военной службе по состоянию здоровья
 - в) прошедшие альтернативную гражданскую службу
 - г) прошедшие военную службу в любом другом государстве
 - д) имеющие учёную степень
- 20 **Военнослужащий держит снятый головной убор**
- а) в левой свободно опущенной руке
 - б) кокардой назад
 - в) в правой свободно опущенной руке
 - г) кокардой вниз
 - д) кокардой вперёд

Максимум за тестовые задания – 60 баллов.

Не забудьте перенести Ваши ответы в таблицу на титульном листе!



Задание 2

По воздействию на организм человека АХОВ можно разделить на группы.

Соотнесите название вещества и группы, к которой это вещество относится.


Ответ запишите в таблицу.

	Название вещества		Группа
А	хлор, фосген	1	Вещества общедовитого действия
Б	оксид углерода, синильная кислота	2	Нейротропные яды, т.е. вещества, воздействующие на генерацию и передачу нервного импульса
В	сернистый ангидрид, сероводород	3	Вещества, обладающие удушающим и общедовитым действием
Г	оксид этилена, сероуглерод	4	Вещества с преимущественно удушающим действием
Д	аммиак, ацетонитрил	5	Вещества, обладающие удушающим и нейротропным действием

А	Б	В	Г	Д






Максимум за задание – 10 баллов.

Не забудьте перенести Ваши ответы в бланк работы!




Задание 3

Укажите название стрелкового оружия Вооружённых Сил Российской Федерации.

А Изображение стрелкового оружия	Б Название
1. 	
2. 	
3. 	
4. 	
5. 	

Максимум за задание – 10 баллов.

Не забудьте перенести Ваши ответы в бланк работы!



Задание 4

Вы идёте по улице с другом и видите лежащего человека без явных признаков жизни (признаки биологической смерти отсутствуют).

А. Впишите пропущенные слова и цифры.

1) проверить наличие признаков жизни, к которым относятся:

а) наличие (отсутствие) _____;

б) наличие (отсутствие) _____;

в) наличие (отсутствие) _____;

2) при отсутствии признаков жизни приступить к проведению сердечно-лёгочной реанимации, т.е. выполнить:

3) искусственное дыхание (_____ вдоха), предварительно обеспечив проходимость дыхательных путей;

4) при появлении признаков жизни после проведения сердечно-лёгочной реанимации или при первоначальном их наличии у пострадавшего перевести пострадавшего в _____ положение;

5) _____ давлений на грудину пострадавшего;

6) оценить обстановку, обеспечить безопасные условия для оказания первой помощи;

7) контролировать признаки жизни до приезда скорой медицинской помощи;

8) попросить друга вызвать скорую медицинскую помощь.

В бланк работы перенесите только вставленные слова и цифры.

Б. Расположите действия по оказанию первой помощи в порядке их выполнения. Запишите цифры, которыми обозначены действия, в правильной последовательности.

Максимум за задание – 10 баллов.

Не забудьте перенести Ваши ответы в бланк работы!

Максимум за работу – 100 баллов.

