



ВСЕРОССИЙСКАЯ ОЛИМПИАДА ШКОЛЬНИКОВ  
ПО ОБЩЕСТВОЗНАНИЮ. 2019–2020 уч. г.  
МУНИЦИПАЛЬНЫЙ ЭТАП. 7 КЛАСС

***Уважаемый участник!***

При выполнении работы внимательно читайте текст заданий.

Содержание ответа вписывайте в отведённые поля, записи ведите чётко и разборчиво.

За каждый правильный ответ вы можете получить определённое членами жюри количество баллов, не выше указанной максимальной оценки.

Сумма набранных баллов за все решённые вопросы – итог вашей работы. Максимальное количество баллов – 80.

Задания считаются выполненными, если вы вовремя сдали их членам жюри.

Время на выполнение работы – 180 минут (3 часа).

***Желаем успеха!***

**1.** Установите истинность или ложность суждения. Обозначьте «да» истинные суждения; «нет» – ложные суждения. Ответы внесите в таблицу.

**1.1.** Амортизация – это затраты на ремонт материально-технической базы предприятия.

**1.2.** Для заключения трудового договора с 14-летним работником требуется согласие одного из родителей.

**1.3.** День Конституции Российской Федерации отмечается 12 июня.

**1.4.** Этические нормы регулируют вопросы морали и нравственности.

**1.5.** Личность и индивидуальность являются тождественными понятиями.

**Ответ:**

1.1	1.2	1.3	1.4	1.5

**Максимум за задание – 10 баллов.**

**2.** Предложите минимальное по объёму обобщающее понятие, вбирающее в себя все нижеперечисленные:

*Одобрение друзей, словесная похвала, жест «большой палец вверх», аплодисменты.*

**Ответ:** \_\_\_\_\_

**Максимум за задание – 3 балла.**

**3.** Дайте краткое обоснование ряда (что объединяет перечисленные элементы) и укажите, какой из элементов является лишним по данному основанию.

*Ботинки, токарный станок, килограмм белых грибов, стрижка пуделя, железнодорожный вагон.*

**Ответ:** \_\_\_\_\_

**Максимум за задание – 4 балла.**

**4.** Решите логическую задачу. Во время урока учитель Владимир Святославович раздал школьникам самостоятельные работы. Один из школьников, Артур, оказался выставленной ему оценкой. Он обратился к учителю, чтобы оспорить оценку, на что тот резонно заметил, что во фрагменте рассуждений, представленным учеником в его работе, пропущена посылка, которую теперь нужно восстановить. Вот этот фрагмент.

Все политики борются за власть.

Следовательно, все политики имеют активную гражданскую позицию.

«При этом помните, что в любом вашем суждении имеются части – логическое подлежащее и логическое сказуемое. Логическое подлежащее (субъект) – это

то, о чем идет речь в суждении; логическое сказуемое (предикат) – это то, что говорится о логическом подлежащем», – сказал учитель. «А ещё связь между логическим подлежащим и логическим сказуемым заключения обосновывается в посылках», – подхватил Артур. «Теперь вы легко всё приведёте в правильный вид», – отметил учитель.

Какую посылку пропустил Артур в своём рассуждении?

**Ответ:** \_\_\_\_\_

---

**Максимум за задание – 4 балла.**

**5.** Решите правовую задачу.

На детской международной конференции участникам необходимо было дать краткую характеристику страны, от которой они выступают. Выйдя на сцену, Петров с гордостью заявил, что он выступает от России, но правильнее её называть Российской Федерация, ведь это её официальное название. Далее мальчик отметил, что по форме государства Россия является смешанной республикой, по территориальному устройству Россия является унитарным государством. В России присутствует разделение властей на исполнительную, законодательную и федеративную. Главой государства является председатель правительства. А органом, возглавляющим систему исполнительной власти в России, является Федеральное Собрание.

Правильно ли мальчик охарактеризовал наше государство? Найдите ошибки в высказываниях Петрова.

**Ответ:** \_\_\_\_\_

\_\_\_\_\_

\_\_\_\_\_

\_\_\_\_\_

\_\_\_\_\_

\_\_\_\_\_

\_\_\_\_\_

\_\_\_\_\_

\_\_\_\_\_

\_\_\_\_\_

\_\_\_\_\_

\_\_\_\_\_

---

---

---

---

---

---

**Максимум за задание – 6 баллов.**

**6.** Решите экономическую задачу.

Алёнка очень любит любые конфеты. Придя в магазин, она увидела карамельные конфеты в упаковке 250 г за 170 рублей, шоколадные конфеты в упаковке 450 г за 300 рублей и сливочные помадки в упаковке 1 кг за 650 рублей. Какую упаковку выгоднее всего купить Алёнке? Приведите решение. Ответ поясните.

**Ответ:** \_\_\_\_\_

---

---

---

---

---

---

---

**Максимум за задание – 5 баллов.**

**7.** Ознакомьтесь с представленными материалами и выполните задания.

В связи с увеличением количества автомобилей и других видов городского транспорта, использующих невозобновляемые источники энергии, возникают такие проблемы, как перегрузка городской дорожной сети (транспортные пробки в дорожном движении), ухудшение безопасности дорожного движения, загрязнение окружающей среды (доля автомобильного транспорта в суммарных выбросах загрязняющих веществ в атмосферу всеми техногенными источниками достигает 80 %), негативное влияние на людей шума от автотранспорта и т. д.

Для решения этих проблем требуется развитие других видов транспорта, как правило, лишённых недостатков автотранспорта и обладающих особыми преимуществами перед ним. Один из них – велотранспорт. Велосипед – самый распространённый, доступный и дешёвый представитель велотранспорта. Как полноценное транспортное средство в городе велосипед, несмотря на известные недостатки (сезонность, зависимость от погоды и др.), решает проблемы, связанные с экологичностью, транспортной доступностью. <...>

Велосипед, имеющий, как правило, одну колею движения, может стать эффективным транспортным средством городской транспортной сети лишь при

условии обеспечения его сохранности в местах, которые посещает велосипедист. Поэтому одновременно с проектированием сети велодорожек проектируются велопарковки, велогаражи, пункты велопроката, велохостелы и другие объекты велотранспортной инфраструктуры.

(Сова А.Н. и др. Велотранспорт для городов России // Транспорт Российской Федерации. Журнал о науке, практике, экономике. 2013. № 4 (47))

Вам представлены данные социологического опроса. В опросе принимали участие совершеннолетние россияне. Метод опроса – личное интервью на дому у респондента. Для данной выборки максимальный размер ошибки с вероятностью 95 % не превышает 3,4 %.

**Таблица 1**

<i>Есть ли у вас лично...?</i>										
	Всего	Пол		Возраст				Потребительский статус		
		М	Ж	18–24	25–39	40–54	55+	Едва хватает на еду	Хватает на одежду	Можем позволить себе ТДП
Велосипед	27	33	21	44	31	25	21	23	26	32
Роликовые коньки	5	5	5	18	5	5	2	3	4	9
Мотоцикл	3	5	1	5	4	3	1	3	2	4
Самокат	4	5	4	11	6	3	2	3	3	8
Мопед	1	2	1	5	1	2	1	1	1	3
Скейтборд	2	2	2	7	1	2	1	2	1	3
Нет ничего из перечисленного	67	60	72	41	61	69	77	73	67	59
Затрудняюсь ответить	3	2	3	3	3	3	2	2	3	3

*Примечание. ТДП – товары длительного пользования.*

**Таблица 2**

	Всего	Пол		Возраст			
		М	Ж	18–24	25–39	40–54	55+
<i>За последние 12 месяцев как часто вы пользовались велосипедом для поездок на учёбу или работу?</i>							
Несколько раз в неделю или чаще	19	25	13	19	18	22	19
Раз в неделю	8	8	8	10	9	6	9
2–3 раза в месяц	4	4	4	9	3	3	2
Раз в месяц	3	2	3	5	2	4	1
Раз в 2–3 месяца	2	3	1	1	2	2	3
Раз в год и реже	4	5	2	4	4	5	2
Никогда	61	54	69	53	63	59	64

Всероссийская олимпиада школьников по обществознанию. 2019–2020 уч. г.  
Муниципальный этап. 7 класс

<i>За последние 12 месяцев как часто вы пользовались велосипедом для поездок по делам?</i>							
Несколько раз в неделю или чаще	21	24	18	16	20	22	24
Раз в неделю	13	13	12	17	13	10	12
2–3 раза в месяц	6	6	6	11	6	6	4
Раз в месяц	3	4	2	4	1	6	3
Раз в 2–3 месяца	3	3	2	1	2	3	4
Раз в год и реже	5	4	7	8	5	4	4
Никогда	50	47	53	42	53	49	49
<i>За последние 12 месяцев как часто вы пользовались велосипедом для занятий спортом или отдыха?</i>							
Несколько раз в неделю или чаще	30	32	27	44	30	24	27
Раз в неделю	18	19	17	19	21	17	13
2–3 раза в месяц	14	14	14	15	17	12	11
Раз в месяц	5	4	7	8	4	7	4
Раз в 2–3 месяца	3	3	3	3	3	3	4
Раз в год и реже	5	5	5	2	4	5	7
Никогда	26	24	28	10	21	32	34

**Таблица 3**

<i>Что из перечисленного могло бы подтолкнуть вас чаще использовать велосипед в качестве средства передвижения?</i>	
Появление удобных велостоянок там, где вы живете	20
Появление велосипедных дорожек и дорожной разметки там, где вы живёте	57
Возможность провоза велосипеда в общественном транспорте, когда это нужно	14
Появление велопроката там, где вы живёте	10
Повышение безопасности дорожного движения там, где вы живёте	31
Больше веломастерских там, где вы живёте	6
Ничего из перечисленного	19
Другое	5
Затрудняюсь ответить	3

**7.1.** Какие негативные аспекты транспортной и экологической ситуации в городах, по мнению автора, требуют развития велотранспорта? Приведите четыре аспекта.

**Ответ:** \_\_\_\_\_

\_\_\_\_\_

\_\_\_\_\_

\_\_\_\_\_

**7.2.** При каком условии, по мнению автора, велосипед может стать эффективным транспортным средством городской транспортной сети? Назовите две предложенные автором меры, нацеленные на реализацию этого условия.

**Ответ:** \_\_\_\_\_

\_\_\_\_\_

\_\_\_\_\_

\_\_\_\_\_

**7.3.** Какие условия использования велотранспорта называют респонденты? Назовите два наиболее значимых условия. Свой ответ подкрепите данными таблиц.

**Ответ:** \_\_\_\_\_

\_\_\_\_\_

\_\_\_\_\_

\_\_\_\_\_

**7.4.** Какое влияние оказывают на наличие велосипеда у человека его возраст, пол и материальный достаток? Какой из этих факторов оказывает наибольшее влияние? Ответы аргументируйте данными таблиц. Приведите объяснение влияния установленного вами фактора на наличие велосипеда у человека.

**Ответ:** \_\_\_\_\_

\_\_\_\_\_

\_\_\_\_\_

\_\_\_\_\_

\_\_\_\_\_

\_\_\_\_\_

\_\_\_\_\_

\_\_\_\_\_

---

---

---

---

---

---

---

**7.5.** На основании данных таблицы 2 определите, какая цель использования велосипеда в наибольшей степени зависит от половой принадлежности респондента. Ответ подтвердите данными таблицы.

**Ответ:** \_\_\_\_\_

---

---

---

---

---

---

---

---

---

---

---

---

---

---

---

---

---

---

---

---

---

---

---

---

**7.6.** Проанализируйте данные таблицы 2. Какая цель поездок на велосипеде гораздо более распространена среди молодёжи в сравнении с населением в среднем? Ответ аргументируйте данными таблицы.

**Ответ:** \_\_\_\_\_

---

---

---

---

---

**Максимум за задание – 22 балла.**



8. Вам представлены изображения, которые иллюстрируют одно обществоведческое понятие и его составляющие. Назовите это понятие и подпишите каждое изображение составляющей частью этого понятия.



**Ответ.**

Понятие: \_\_\_\_\_.

Изображение А: \_\_\_\_\_.

Изображение Б: \_\_\_\_\_.

Изображение В: \_\_\_\_\_.

Изображение Г: \_\_\_\_\_.

**Максимум за задание – 5 баллов.**

**9. Прочитайте текст и ответьте на вопросы.**

Моральные мотивы занимают особое место в регулировании человеческого поведения. Моральные мотивы не находятся в одном ряду с практическими мотивами, проистекающими из природных потребностей индивида, обстоятельств его жизни. Моральные мотивы по отношению к практическим мотивам являются мотивами высшего уровня. Практические мотивы сами по себе вполне достаточны для того, чтобы понять, почему человек совершает те или иные действия. Моральные мотивы в этом смысле могут казаться излишними.

Более конкретно характеризуя роль моральных мотивов по отношению к практическим мотивам, их можно было бы сравнить с отделом технического контроля (контроля качества) на производстве. Как отдел технического контроля проверяет уже готовую продукцию с точки зрения её соответствия принятым стандартам, так и мораль осуществляет контроль над другими мотивами, могут ли они считаться добрыми, справедливыми. Это доказывается тем, что в своих сознательных намерениях и самооценках люди всегда ориентированы на добро. Даже самый отъявленный преступник стремится выдать своё зло за добро.

Возникает вопрос: как действует в человеке «отдел» морального контроля, как осуществляется моральная проверка всех прочих мотивов, готовых перейти в поступок? Это происходит в форме предварительного рассуждения и не может происходить иначе, ибо речь идёт о проверке конкретных мотивов до того, как они стали поступками. Осуществить такое рассуждение в реальном режиме означало бы совершить соответствующие поступки, но это равнозначно тому, что они совершаются без моральной проверки, как если бы готовую продукцию выпускали на рынок, минуя отдел контроля качества.

(По А.А. Гусейнову)

**9.1.** Как, по мнению автора, соотносятся моральные и практические мотивы? В чём источник практических мотивов?

**Ответ:** \_\_\_\_\_

\_\_\_\_\_

\_\_\_\_\_

\_\_\_\_\_

\_\_\_\_\_

**9.2.** Иллюстрацией какой авторской мысли служит в тексте пример технического контроля на производстве? Приведите собственный пример, иллюстрирующий эту же мысль.

**Ответ:** \_\_\_\_\_

---

---

---

---

---

---

---

---

---

---

**9.3.** Каким способом осуществляется «моральная проверка»? Что подвергается проверке? Как автор объясняет необходимость именно этого способа?

**Ответ:** \_\_\_\_\_

---

---

---

---

---

---

---

---

---

---

**Максимум за задание – 21 балл.**



ВСЕРОССИЙСКАЯ ОЛИМПИАДА ШКОЛЬНИКОВ  
ПО ОБЩЕСТВОЗНАНИЮ. 2019–2020 уч. г.  
МУНИЦИПАЛЬНЫЙ ЭТАП. 8 КЛАСС

***Уважаемый участник!***

При выполнении работы внимательно читайте текст заданий.

Содержание ответа вписывайте в отведённые поля, записи ведите чётко и разборчиво.

За каждый правильный ответ вы можете получить определённое членами жюри количество баллов, не выше указанной максимальной оценки.

Сумма набранных баллов за все решённые вопросы – итог вашей работы. Максимальное количество баллов – 90.

Задания считаются выполненными, если вы вовремя сдали их членам жюри.

Время на выполнение работы – 180 минут (3 часа).

***Желаем успеха!***

**1.** Установите истинность или ложность суждения. Обозначьте «да» истинные суждения; «нет» – ложные суждения. Ответы внесите в таблицу.

**1.1.** При повышении дохода спрос на товары низшей категории падает.

**1.2.** Стандартная продолжительность рабочей недели в соответствии с Трудовым кодексом РФ – 45 часов в неделю.

**1.3.** Правительство РФ издаёт постановления и распоряжения.

**1.4.** Демократическому политическому режиму свойствен политический плюрализм.

**1.5.** Потребность в безопасности является физиологической потребностью в соответствии с пирамидой Маслоу.

**Ответ.**

1.1	1.2	1.3	1.4	1.5

**Максимум за задание – 10 баллов.**

**2.** Предложите минимальное по объёму обобщающее понятие, вбирающее в себя все нижеперечисленные.

*Формальная определённость, обеспечение принудительной силой государства, письменная фиксация, общеобязательность.*

**Ответ:** \_\_\_\_\_

**Максимум за задание – 3 балла.**

**3.** Дайте краткое обоснование ряда (что объединяет перечисленные элементы) и укажите, какой из элементов является лишним по данному основанию.

*Педагогический коллектив школы № 1, жители Энской области, семья Ивановых, поисковый отряд «Юный следопыт», студенческий строительный отряд.*

**Ответ:** \_\_\_\_\_

**Максимум за задание – 4 балла.**

**4.** Решите логическую задачу. Во время урока учитель Владимир Святославович раздал школьникам самостоятельные работы. Один из школьников, Бертран, оказался озадачен выставленной ему оценкой. Он обратился к учителю, чтобы оспорить оценку, на что тот резонно заметил, что во фрагменте рассуждений, представленных Бертраном в его работе, пропущена посылка, которую теперь нужно восстановить. Вот этот фрагмент.

Каждый разумный человек адекватно оценивает свои способности.

Следовательно, ни один разумный человек не верит в неизбежность судьбы.

«При этом помните, что в любом вашем суждении имеются части – логическое подлежащее и логическое сказуемое. Логическое подлежащее (субъект) – это то, о чем идет речь в суждении; логическое сказуемое (предикат) – это то, что говорится о логическом подлежащем», – сказал учитель. «А ещё связь между логическим подлежащим и логическим сказуемым заключения обосновывается в посылках», – подхватил Бертран. «Теперь вы легко всё приведёте в правильный вид», – отметил учитель.

Какую посылку пропустил Бертран в своём рассуждении?

**Ответ:** \_\_\_\_\_

\_\_\_\_\_

---

**Максимум за задание – 4 балла.**

**5.** Решите правовую задачу.

Между двумя пенсионерами во время прогулки в парке завязался спор о том, какой нормативный акт имеет бóльшую силу, а какой меньшую. Афанасий Арсеньевич утверждал, что главный в нашей стране президент, а значит, его указы самые главные. Второй участник спора, Лев Дмитриевич, говорил о том, что так не бывает, что сначала люди должны подчиняться Конституции, а потом уже всем нормативным актам, но он был согласен, что указы президента очень важны и что они занимают второе место по важности.

Кто прав в данной ситуации? Объясните почему.

**Ответ:** \_\_\_\_\_

\_\_\_\_\_

\_\_\_\_\_

\_\_\_\_\_

\_\_\_\_\_

---

**Максимум за задание – 5 баллов.**

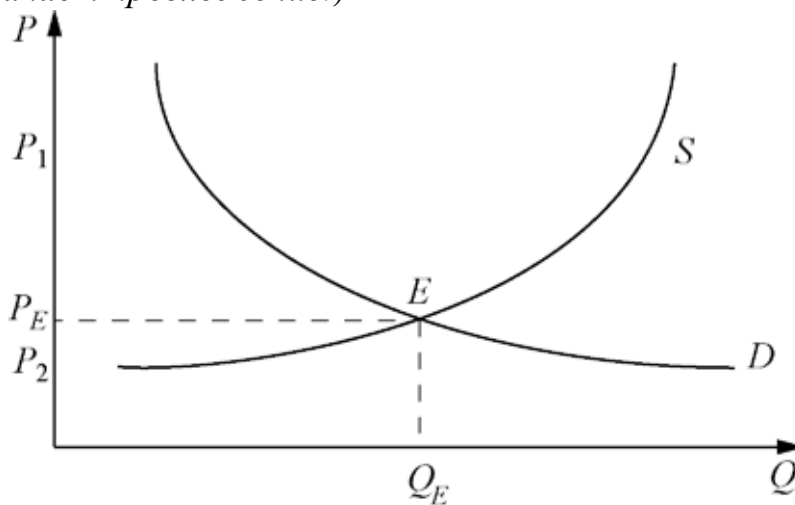
**6.** Решите экономическую задачу.

На графике изображены спрос и предложение на рынке мандримонов.

Какие действия государства будут способствовать установлению цены на уровне P1? Какая ситуация сложится на рынке в этом случае? С какой целью государство может предпринимать действия по установлению цен на уровне P1? Какие действия государства будут способствовать установлению цены на уровне P2? Назовите рыночную ситуацию, вызванную этими действиями.

С какой целью государство может предпринимать действия по установлению цен на уровне  $P_2$ ?

(Шкала  $P$  обозначает цену, шкала  $Q$  – количество, кривая  $S$  обозначает спрос, кривая  $D$  обозначает предложение.)



**Ответ:** \_\_\_\_\_

---



---



---



---



---



---



---



---



---



---



---



---



---



---



---



---



---



---



---



---



---



---



---



---



---



---

**Максимум за задание – 6 баллов.**

## 7. Ознакомьтесь с представленными материалами и выполните задания.

Различные исследования показывают, что большинство представителей молодого поколения слушают музыку по несколько часов в день. Поэтому вполне можно утверждать, что влияние современных музыкальных направлений на молодёжь сопоставимо с влиянием телевидения и других средств массовой информации.

Столь большое внимание к музыке во многом объясняется её цифровизацией и распространением портативных аудиовоспроизводящих устройств, что существенно упрощает доступ к музыкальному материалу. Практически повсеместно можно встретить молодых людей, слушающих музыку через наушники с телефонов или аудиоплееров, которые сейчас есть преимущественно у всех.

Практически неограниченный доступ к множеству аудиофайлов предоставляет интернет. Он же создаёт среду для формирования всё новых и новых музыкальных направлений благодаря возможности свободной публикации новых произведений. Достаточно сказать, что уже немалое число исполнителей завоевали популярность благодаря распространению видеоклипов через популярный портал YouTube.com. <...>

Из наиболее популярной у молодёжи музыки обычно выделяют такие направления, как рок, поп и рэп, каждое из которых имеет множество подстилей. По сути дела, эти музыкальные стили создали соответствующие им разновидности субкультур, распространённых в большинстве стран мира. <...>

В настоящее время имеет место ориентация молодёжи на лёгкие музыкальные жанры, являющиеся частью массовой культуры. Высокая классическая и народная музыкальная культура, имеющие огромное значение в формировании общечеловеческих ценностей, молодёжью слабо востребованы. В функциональном отношении музыка для неё в большей степени является фоном ментальной ориентированности на гедонистические ценности. Это объясняет склонность молодёжи к поп-музыке как инструменту развлечения, что формирует групповые стереотипы, темы, сюжеты, образы, музыкальные жанры и язык.

*(Таниева Г.М. Музыка как фактор формирования социальной идентичности у молодёжи // СИСП. 2014. № 3 (35))*

Вам представлены данные социологического опроса. В опросе принимали участие совершеннолетние россияне. Метод опроса – личное интервью на дому у респондента. Для данной выборки максимальный размер ошибки с вероятностью 95 % не превышает 3,4 %.



**Таблица 1.**

<i>Как часто вы слушаете музыку?</i>					
	В целом по выборке	Возраст			
		18–24 года	25–39 лет	40–54 года	55 лет и старше
Ежедневно / почти ежедневно	51	75	61	47	38
2–3 раза в неделю	17	15	18	17	17
1 раз в неделю	9	5	7	10	12
1–3 раза в месяц	6	1	5	10	7
Реже, чем 1 раз в месяц	5	1	2	6	7
Практически никогда / никогда	11	3	5	10	18
Затруднились ответить	1	<1	1	1	1

**Таблица 2.**

<i>Музыку каких жанров вы слушаете?</i>				
	Возраст			
	18–24 года	25–39 лет	40–54 года	55 лет и старше
Российская / зарубежная поп-музыка	42	40	38	28
Советская эстрада	6	20	34	47
Русский шансон	11	29	33	33
Классическая музыка	24	25	25	22
Народные песни, фолк	12	11	16	32
Танцевальная музыка, техно	30	26	16	10
Русский / зарубежный рок	22	24	15	5
Лёгкая музыка, для релаксации	15	15	12	11
Хип-хоп, рэп	33	19	6	1
Бардовская песня	4	7	10	11
Джаз	12	9	6	5
Блюз	8	6	7	4
R&B и соул	13	8	2	1
Кантри	3	6	3	4
Латиноамериканская музыка	3	6	5	2
Авангард и экспериментальная музыка	5	3	2	1
Другое	1	4	4	4
Затруднились ответить	4	3	6	8

**7.1.** Почему, по мнению автора текста, музыка стала играть в жизни молодёжи роль, сопоставимую с ролью СМИ? Приведите две причины, названные в тексте.

**Ответ:** \_\_\_\_\_  
\_\_\_\_\_  
\_\_\_\_\_

**7.2.** Проанализируйте таблицу 1. Как меняется частота слушания музыки в зависимости от возраста? На основании данных таблицы приведите два подтверждения. На основании ваших знаний и социального опыта приведите два объяснения отмеченной вами тенденции.

**Ответ:** \_\_\_\_\_  
\_\_\_\_\_  
\_\_\_\_\_  
\_\_\_\_\_  
\_\_\_\_\_  
\_\_\_\_\_  
\_\_\_\_\_  
\_\_\_\_\_  
\_\_\_\_\_  
\_\_\_\_\_  
\_\_\_\_\_  
\_\_\_\_\_  
\_\_\_\_\_

**7.3.** Проанализируйте таблицу 2. Какие музыкальные стили считает самыми популярными у молодёжи автор текста? На основе анализа таблицы определите, прав ли автор. Ответ аргументируйте конкретными цифрами. Используя обществоведческие знания и содержание текста, объясните музыкальные предпочтения молодого поколения.

**Ответ:** \_\_\_\_\_  
\_\_\_\_\_  
\_\_\_\_\_  
\_\_\_\_\_

---

---

---

---

---

---

**7.4.** Автор текста утверждает, что высокая классическая музыка, имеющая огромное значение в формировании общечеловеческих ценностей, молодёжью слабо востребована. Можно ли подтвердить утверждение автора данными таблиц? Свой ответ аргументируйте. Приведите два аргумента.

**Ответ:** \_\_\_\_\_

---

---

---

---

---

---

---

---

---

---

---

---

---

---

---

---

---

---

---

---

**7.5.** Назовите музыкальное направление, уровень которого является практически консенсусным для всех возрастных групп, но существенно отличается у молодёжной аудитории. Свой ответ аргументируйте данными.

**Ответ:** \_\_\_\_\_

---

---

---

---

---

---

---

---

---

---

---

---

---

---

---

---







---

---

---

**Максимум за задание – 24 балла.**

8. Представленные изображения иллюстрируют две разновидности одного социального явления. Назовите это явление. Распределите изображения на две равные группы и назовите каждую из этих групп. Запишите буквенные обозначения соответствующих объектов рядом с названием каждой группы.

<p>А</p> 	<p>Б</p> 
<p>В</p> 	<p>Г</p> 
<p>Д</p> 	<p>Е</p> 

Ответ.

Явление \_\_\_\_\_.

Группа 1: \_\_\_\_\_.

Изображения: \_\_\_\_\_.

Группа 2: \_\_\_\_\_.

Изображения: \_\_\_\_\_.

**Максимум за задание – 9 баллов.**

**9. Прочитайте текст и ответьте на вопросы.**

Ясно, что ценности могут сталкиваться, именно поэтому цивилизации несовместимы. Несовместимы могут быть культуры, и группы внутри культуры, и мы с вами. Вы верите, что правду надо говорить всегда, независимо от обстоятельств; я считаю, что правда бывает слишком обидной и разрушительной. Мы вольны обсуждать наши точки зрения, но в конце концов может оказаться, что ваши цели не совпадают с целями, которым я посвятил свою жизнь. Ценности могут сталкиваться даже в одном и том же сердце, но из этого не следует, что одни из них верные, а другие – нет. Суровая справедливость – абсолютная ценность для многих, но она несовместима с милосердием, которое в конкретных случаях не менее ценно для тех же самых людей.

Свобода и равенство – первичные цели, к которым веками стремились люди; но абсолютная свобода для волков – это смерть для овец. Полная свобода для сильных и одарённых несовместима с тем правом на достойное существование, которое имеют слабые и менее способные. Чтобы создать свой шедевр, художник может вести такую жизнь, что его семья будет нищей и несчастной. Мы вправе осудить его и решить, что шедевром надо было пожертвовать; вправе и принять его сторону. В обоих случаях мы воплощаем ценности, которые абсолютны для многих и понятны тем, у кого есть воображение, или понимание, или сочувствие. Равенство может ограничить свободу тех, кто стремится властвовать. Свободу (а без неё нет выбора и, значит, нет возможности остаться людьми) – да, саму свободу иногда надо ограничить, чтобы накормить голодных, одеть не одетых и приютить бездомных; чтобы не посягать на свободу других; чтобы осуществлять справедливость.

Столкновения ценностей – самая сущность того, каковы мы и каковы другие. Мир, в котором нет конфликта между ценностями, – за пределами нашего понимания. Принципы, которые гармонично соединены в этом мире, – не те принципы, с которыми мы знакомы в повседневной жизни, они изменены каким-то неведомым способом. Но мы живём на земле, здесь нам приходится верить и действовать.

*(И. Берлин. «Стремление к идеалу»)*

**9.1.** Можно ли, по мнению автора, как-либо достичь соглашения по поводу различных ценностей. Как автор аргументирует свою точку зрения?

**Ответ:** \_\_\_\_\_

---

---

---

---

**9.2.** Автор пишет, что «несовместимы могут быть культуры, и группы внутри культуры, и мы с вами». Приведите аргументы, опровергающие авторскую точку зрения по каждому из трёх содержащихся в утверждении тезисов.

**Ответ:** \_\_\_\_\_

---

---

---

---

---

---

---

---

**9.3.** Автор утверждает, что суровая справедливость несовместима с милосердием. Используя обществоведческие знания и личный социальный опыт приведите пример, подтверждающий авторскую мысль, который иллюстрировал бы эту мысль. Приведите пример способа снять отмеченное противоречие.

**Ответ:** \_\_\_\_\_

---

---

---

---

---

---

---

---

**9.4.** Автор утверждает, что свободу надо ограничивать во имя равенства. Используя обществоведческие знания и личный социальный опыт, приведите два примера, иллюстрирующие такое ограничение.

**Ответ:** \_\_\_\_\_

\_\_\_\_\_

\_\_\_\_\_

\_\_\_\_\_

\_\_\_\_\_

\_\_\_\_\_

\_\_\_\_\_

\_\_\_\_\_

\_\_\_\_\_

\_\_\_\_\_

\_\_\_\_\_

\_\_\_\_\_

\_\_\_\_\_

\_\_\_\_\_

\_\_\_\_\_

\_\_\_\_\_

**Максимум за задание – 25 баллов.**



ВСЕРОССИЙСКАЯ ОЛИМПИАДА ШКОЛЬНИКОВ  
ПО ОБЩЕСТВОЗНАНИЮ. 2019–2020 уч. г.  
МУНИЦИПАЛЬНЫЙ ЭТАП. 9 КЛАСС

***Уважаемый участник!***

При выполнении работы внимательно читайте текст заданий.

Содержание ответа вписывайте в отведённые поля, записи ведите чётко и разборчиво.

За каждый правильный ответ вы можете получить определённое членами жюри количество баллов, не выше указанной максимальной оценки.

Сумма набранных баллов за все решённые вопросы – итог вашей работы. Максимальное количество баллов – 125.

Задания считаются выполненными, если вы вовремя сдали их членам жюри.

Время на выполнение работы – 240 минут (4 часа).

***Желаем успеха!***



**1.** Установите истинность или ложность суждения. Обозначьте «да» истинные суждения; «нет» – ложные суждения. Ответы внесите в таблицу.

**1.1.** Закон убывающей предельной полезности предполагает, что издержки на производство каждой последующей единицы товара равномерно растут.

**1.2.** Если Николай Д. в возрасте 6 лет, участвующий в съёмках сериала, будет привлечён к работе в ночное время, то его работодатель может быть привлечён к административной ответственности.

**1.3.** Гражданин Российской Федерации может быть лишён гражданства Российской Федерации указом Президента Российской Федерации.

**1.4.** Лютеранство – это конфессия, относящаяся к авраамической религии.

**1.5.** Гносеология – это раздел философии, изучающий познание.

**Ответ.**

1.1	1.2	1.3	1.4	1.5

**Максимум за задание – 5 баллов.**

**2.** Предложите минимальное по объёму обобщающее понятие, вбирающее в себя все нижеперечисленные.

*Налоги на прибыль, государственные пошлины, штрафы, санкции, возмещения ущерба, административные платежи и сборы.*

**Ответ:** \_\_\_\_\_

**Максимум за задание – 3 балла.**

**3.** Дайте краткое обоснование ряда (что объединяет перечисленные элементы) и укажите, какой из элементов является лишним по данному основанию.

*Обязательство соблюдать Конституцию Российской Федерации, обладание недвижимостью на территории России, наличие законного источника средств к существованию, владение русским языком.*

**Ответ:** \_\_\_\_\_

**Максимум за задание – 3 балла.**

**4.** Решите логическую задачу. Во время урока учитель Владимир Святославович раздал школьникам самостоятельные работы. Один из школьников, Бертран, оказался озадачен выставленной ему оценкой. Он обратился к учителю, чтобы оспорить оценку, на что тот резонно заметил, что во фрагменте рассуждений, представленных Бертраном в его работе, пропущена посылка, которую теперь нужно восстановить. Вот этот фрагмент.

Ни один преступник не соблюдает закон, так как все соблюдающие закон – порядочные люди.

«При этом помните, что в любом вашем суждении имеются части – логическое подлежащее и логическое сказуемое. Логическое подлежащее (субъект) – это то, о чем идет речь в суждении; логическое сказуемое (предикат) – это то, что говорится о логическом подлежащем», – сказал учитель. «А ещё связь между логическим подлежащим и логическим сказуемым заключения обосновывается в посылках», – подхватил Бертран. «Теперь вы легко всё приведёте в правильный вид», – отметил учитель.

Какую посылку пропустил Бертран в своём рассуждении? Ответ обоснуйте. Приведите цепочку рассуждений.

**Ответ:** \_\_\_\_\_

---

---

---

---

---

---

---

---

---

---

---

---

---

---

---

---

---

---

---

---

---

---

---

---

**Максимум за задание – 5 баллов.**

**5. Решите правовую задачу**

Девятнадцатилетний Евгений и шестнадцатилетняя Анна решили пожениться. Евгений говорил Анне, что он разбирается в этом деле, поскольку он уже вступал в брак с другой девушкой, но они не сошлись характерами, разъехались, уже полгода живут в разных квартирах и не общаются. Анна поверила Евгению, и они подали заявление о регистрации брака в органы ЗАГС. Поскольку молодым людям не терпелось стать друг для друга мужем и женой, они попросили сотрудницу ЗАГС назначить им дату регистрации брака через 10 дней. На удивление Анны и Евгения сотрудница ЗАГС отказала в назначении даты регистрации, указав, что существует множество препятствий к тому, чтобы их брак был зарегистрирован через 10 дней. Укажите данные препятствия.

**Ответ:** \_\_\_\_\_

\_\_\_\_\_

\_\_\_\_\_

\_\_\_\_\_

\_\_\_\_\_

\_\_\_\_\_

\_\_\_\_\_

\_\_\_\_\_

\_\_\_\_\_

\_\_\_\_\_

\_\_\_\_\_

\_\_\_\_\_

\_\_\_\_\_

\_\_\_\_\_

\_\_\_\_\_

\_\_\_\_\_

\_\_\_\_\_

\_\_\_\_\_

\_\_\_\_\_

\_\_\_\_\_

\_\_\_\_\_

\_\_\_\_\_

**Максимум за задание – 6 баллов.**

**6. Решите экономическую задачу.**

Ольга Григорьевна печёт пирожки и продаёт их по 100 рублей. В месяц она продаёт в среднем 3000 пирожков. Производство каждого пирожка обходится ей в 50 рублей. С новой скалкой «Мечта любой хозяйки» производство каждого пирожка станет дешевле на 20 %. Ольга Григорьевна планирует заниматься данным бизнесом ещё месяц. Сколько она готова заплатить за новую скалку? Приведите необходимые расчеты.

**Ответ:** \_\_\_\_\_

\_\_\_\_\_

\_\_\_\_\_

\_\_\_\_\_

---

---

---

---

---

---

---

---

---

---

---

---

---

---

---

---

---

---

---

---

---

---

---

---

**Максимум за задание – 5 баллов.**

7. Ознакомьтесь с представленными материалами и выполните задания.

Различные исследования показывают, что большинство представителей молодого поколения слушают музыку по несколько часов в день. Поэтому вполне можно утверждать, что влияние современных музыкальных направлений на молодёжь сопоставимо с влиянием телевидения и других средств массовой информации.

Столь большое внимание к музыке во многом объясняется её цифровизацией и распространением портативных аудиовоспроизводящих устройств, что существенно упрощает доступ к музыкальному материалу. Практически повсеместно можно встретить молодых людей, слушающих музыку через наушники с телефонов или аудиоплееров, которые сейчас есть преимущественно у всех.

Практически неограниченный доступ к множеству аудиофайлов предоставляет интернет. Он же создаёт среду для формирования всё новых и новых музыкальных направлений благодаря возможности свободной публикации новых произведений. Достаточно сказать, что уже немалое число исполнителей завоевали популярность благодаря распространению видеоклипов через популярный портал YouTube.com. <...>

Из наиболее популярной у молодёжи музыки обычно выделяют такие направления, как рок, поп и рэп, каждое из которых имеет множество подстилей. По сути дела, эти музыкальные стили создали соответствующие им разновидности субкультур, распространённых в большинстве стран мира. <...>

В настоящее время имеет место ориентация молодёжи на лёгкие музыкальные жанры, являющиеся частью массовой культуры. Высокая классическая и народная музыкальная культура, имеющие огромное значение в формировании общечеловеческих ценностей, молодёжью слабо востребованы. В функциональном отношении музыка для неё в большей степени является

фоном ментальной ориентированности на гедонистические ценности. Это объясняет склонность молодёжи к поп-музыке как инструменту развлечения, что формирует групповые стереотипы, темы, сюжеты, образы, музыкальные жанры и язык.

*(Таниева Г. М. Музыка как фактор формирования социальной идентичности у молодёжи // СИСП. 2014. № 3 (35))*

Вам представлены данные социологического опроса. В опросе принимали участие совершеннолетние россияне. Метод опроса – личное интервью на дому у респондента. Для данной выборки максимальный размер ошибки с вероятностью 95 % не превышает 3,4 %.

**Таблица 1**

<i>Как часто вы слушаете музыку?</i>					
	В целом по выборке	Возраст			
		18–24 года	25–39 лет	40–54 года	55 лет и старше
Ежедневно / почти ежедневно	51	75	61	47	38
2–3 раза в неделю	17	15	18	17	17
1 раз в неделю	9	5	7	10	12
1–3 раза в месяц	6	1	5	10	7
Реже чем 1 раз в месяц	5	1	2	6	7
Практически никогда / никогда	11	3	5	10	18
Затруднились ответить	1	<1	1	1	1

**Таблица 2**

<i>Музыку каких жанров вы слушаете?</i>				
	Возраст			
	18–24 года	25–39 лет	40–54 года	55 лет и старше
Российская / зарубежная поп-музыка	42	40	38	28
Советская эстрада	6	20	34	47
Русский шансон	11	29	33	33
Классическая музыка	24	25	25	22
Народные песни, фолк	12	11	16	32
Танцевальная музыка, техно	30	26	16	10
Русский / зарубежный рок	22	24	15	5
Лёгкая музыка, для релаксации	15	15	12	11
Хип-хоп, рэп	33	19	6	1

Бардовская песня	4	7	10	11
Джаз	12	9	6	5
Блюз	8	6	7	4
R&B и соул	13	8	2	1
Кантри	3	6	3	4
Латиноамериканская музыка	3	6	5	2
Авангард и экспериментальная музыка	5	3	2	1
Другое	1	4	4	4
Затруднились ответить	4	3	6	8

**Таблица 3**

**Десять наиболее любимых исполнителей и групп по возрасту**

	18–24 года	25–39 лет	40–54 года	55+ лет
1	Егор Крид	Дима Билян	Филипп Киркоров	Филипп Киркоров
2	Тимати	Филипп Киркоров	Стас Михайлов	Алла Пугачёва
3	Николай Басков	Стас Михайлов	Григорий Лепс	Лев Лещенко
4	Филипп Киркоров	Егор Крид	Алла Пугачёва	Николай Басков
5	Би2	Григорий Лепс	Любэ	София Ротару
6	Дима Билян	Руки Вверх	Михаил Круг	Стас Михайлов
7	Нюша	Михаил Круг	Владимир Высоцкий	Иосиф Кобзон
8	Король и Шут	Сергей Лазарев	Михаил Шуфутинский	Олег Газманов
9	Linkin Park / Imagine Dragons /	Би2 / Светлана Лобода /	Лев Лещенко	Муслим Магомаев
10	Александр Градский	Валерия / Алла Пугачёва	София Ротару	Григорий Лепс

**7.1.** Почему, по мнению автора текста, музыка стала играть в жизни молодёжи роль, сопоставимую с ролью СМИ? Приведите две причины, названные в тексте.

**Ответ:** \_\_\_\_\_

\_\_\_\_\_

\_\_\_\_\_

**7.2.** Проанализируйте таблицу 1. Как меняется частота слушания музыки в зависимости от возраста? На основании данных таблицы приведите два

подтверждения. На основании ваших знаний и социального опыта приведите два объяснения отмеченной вами тенденции.

**Ответ:**

---

---

---

---

---

---

---

---

---

---

---

---

---

---

---

---

---

---

---

---

---

---

---

**7.3.** Проанализируйте таблицу 2. Какие музыкальные стили считает самыми популярными у молодёжи автор текста? На основе анализа таблицы определите, прав ли автор. Ответ аргументируйте конкретными цифрами. Используя обществоведческие знания и содержание текста, объясните музыкальные предпочтения молодого поколения.

**Ответ:**

---

---

---

---

---

---

---

---

---

---

---

---

---

---

---

---

---

---

---

---

---

---

---

---

**7.4.** Автор текста утверждает, что высокая классическая музыка, имеющая огромное значение в формировании общечеловеческих ценностей, молодёжью слабо востребована. Можно ли подтвердить утверждение автора данными таблиц? Свой ответ аргументируйте. Приведите два аргумента.

**Ответ:** \_\_\_\_\_

---

---

---

---

---

---

---

---

---

---

---

---

---

**7.5.** Назовите музыкальное направление, уровень которого является практически консенсусным для всех возрастных групп, но существенно отличается у молодёжной аудитории. Свой ответ аргументируйте данными.

**Ответ:** \_\_\_\_\_

---

---

---

---

---

---

---

---

---

---

---

**7.6.** Проанализируйте таблицу 3. Какие три исполнителя популярны у представителей всех возрастных групп? Можно ли сказать, что существует исполнитель, популярный независимо от возраста слушателей? Ответ аргументируйте.

**Ответ:** \_\_\_\_\_

---

---

---

---

---

---

---



---

---

---

---

---

**Максимум за задание – 30 баллов.**

**8.** Вам представлены изображения, которые иллюстрируют разные формы социального взаимодействия. Распределите изображения на три равные группы и назовите каждую из этих групп.

<p><b>А</b></p> 	<p><b>Б</b></p> 
<p><b>В</b></p> 	<p><b>Г</b></p> 



**Ответ.**

Группа 1: \_\_\_\_\_.

Изображения: \_\_\_\_\_.

Группа 2: \_\_\_\_\_.

Изображения: \_\_\_\_\_.

Группа 3: \_\_\_\_\_.

Изображения: \_\_\_\_\_.

**Максимум за задание – 9 баллов.**

**9. Прочитайте текст и ответьте на вопросы.**

Одно из чувств, которое усваивается учёным с самого начала его профессионального обучения, связано с чистотой науки. Наука не должна позволить себе стать служанкой теологии, экономики или государства. Функция этого чувства соответственно состоит в том, чтобы оберегать автономию науки. Ибо в случае принятия таких вненаучных критериев ценности науки, как предполагаемое согласие с религиозными доктринами, экономическая полезность или политическая благонадёжность, наука начинает допускаться лишь в той мере, в какой она отвечает этим критериям.

Технологический критерий научного достижения, разумеется, тоже имеет для науки позитивную социальную функцию. Возрастающие удобства и преимущества, источником которых является технология и в конечном счёте наука, призывают к социальной поддержке научных исследований. Кроме того, они удостоверяют чистоту помыслов учёного, поскольку абстрактные и сложные теории, которые не могут быть поняты и оценены обывателем, предположительно обретают доказательство, понятное для всех, а именно – своё технологическое применение. Готовность к признанию авторитета науки в значительной степени опирается на повседневную демонстрацию её

могущества. Не будь таких косвенных доказательств, устойчивая социальная поддержка науки, остающейся интеллектуально непостижимой для публики, вряд ли смогла бы подпитываться одной лишь верой в неё.

В то же время значимость, придаваемая чистоте науки, имела и другие последствия, которые скорее угрожают социальной оценке науки, нежели её оберегают. То тут, то там приходится слышать мнение, что учёные в ходе своих изысканий должны игнорировать какие бы то ни было соображения, за исключением развития знания. Внимание должно быть сосредоточено исключительно на научной значимости работы, невзирая на то, какие практические применения она может получить и какими будут её социальные последствия вообще. Обычное оправдание этого принципа – который имеет отчасти фактические корни и который в любом случае выполняет определённые социальные функции, как мы с вами только что увидели, – гласит, что отказ следовать этому предписанию будет чинить препятствия исследованию, повышая возможность предвзятости и ошибки. Однако это методологическое воззрение оставляет без внимания социальные результаты такой установки. Объективные последствия этой установки заложили ещё одно основание для бунта против науки – зарождающегося бунта, который можно найти практически в каждом обществе, где наука достигла высокой стадии развития. В силу того, что учёный не контролирует или не может проконтролировать направление, в котором будут применены его открытия, он становится объектом упреков и ещё более несдержанных реакций в той мере, в какой эти применения порицаются властными органами или группами давления. Антипатия к технологическим продуктам проецируется на саму науку. Так, например, когда новоизобретённые газы или взрывчатые вещества находят применение в военном деле, те, чьи гуманистические чувства оказываются при этом попорчены, подвергают цензуре химию в целом. Наука признается в значительной степени ответственной за допущение тех орудий уничтожения людей, которые, как говорится, могут обрушить нашу цивилизацию в вечную ночь и хаос».

*(Р. Мертон. «Социальная теория и социальная структура»)*

**9.1.** На основе каких трёх вненаучных критериев ценности науки, выделяемых Р. Мертоном, может осуществляться контроль над научными исследованиями? Используя обществоведческие знания и личный социальный опыт, приведите примеры, иллюстрирующие негативные последствия такого контроля, на основе каждого критерия.

**Ответ:** \_\_\_\_\_

\_\_\_\_\_

\_\_\_\_\_

\_\_\_\_\_

\_\_\_\_\_



**9.4.** В чём автор видит основу для «бунта против науки»? Укажите противоречие, содержащееся в авторских рассуждениях об источниках социальной поддержки науки и основе бунта против науки.

**Ответ:** \_\_\_\_\_

\_\_\_\_\_

\_\_\_\_\_

\_\_\_\_\_

\_\_\_\_\_

\_\_\_\_\_

\_\_\_\_\_

\_\_\_\_\_

\_\_\_\_\_

\_\_\_\_\_

\_\_\_\_\_

**Максимум за задание – 32 балла.**

**10.** Перед вами высказывания известных отечественных и зарубежных мыслителей. Выберите то из них, которое станет темой вашего сочинения-эссе. Ваша задача – сформулировать проблему, поднимаемую автором, развёрнуто сформулировать своё собственное отношение к проблеме, поднятой в данном утверждении, и обосновать его теми аргументами, которые представляются вам наиболее существенными. Выбрав тему, обязательно укажите, с позиции какой базовой науки (культурологии, политологии, социологии, философии, экономики, юриспруденции) Вы будете её рассматривать.

1. На рынке люди меняют яблоки на апельсины, а в политике – соглашаются платить налоги в обмен на блага, необходимые всем и каждому: от местной пожарной охраны до суда. (Дж. Бьюкенен)
2. Править – бессмысленно, а управлять – мудро. Правят, следовательно, потому, что не умеют управлять. (И. Зейме)
3. Желать свободы себе – значит желать свободы другим. (С. Бовуар)
4. Если бы то, чего человеку достаточно, удовлетворило его, он был бы вполне обеспечен. (Луциллий Гай)
5. Цивилизованная дикость – самая худшая из всех дикостей. (К. Вебер)
6. Нет ничего более разрушительного, как рациональная политика инвестиций в наш иррациональный мир. (Дж. М. Кейнс)
7. Оставлять богатство детям? Умны будут – без него обойдутся; а глупому сыну не в помощь богатство. Наличные деньги – не наличные достоинства. Золотой болван – всё болван. (Д.И. Фонвизин)

**Максимум за задание – 28 баллов.**













ВСЕРОССИЙСКАЯ ОЛИМПИАДА ШКОЛЬНИКОВ  
ПО ОБЩЕСТВОЗНАНИЮ. 2019–2020 уч. г.  
МУНИЦИПАЛЬНЫЙ ЭТАП. 10 КЛАСС

***Уважаемый участник!***

При выполнении работы внимательно читайте текст заданий.

Содержание ответа вписывайте в отведённые поля, записи ведите чётко и разборчиво.

За каждый правильный ответ вы можете получить определённое членами жюри количество баллов, не выше указанной максимальной оценки.

Сумма набранных баллов за все решённые вопросы – итог вашей работы. Максимальное количество баллов – 125.

Задания считаются выполненными, если вы вовремя сдали их членам жюри.

Время на выполнение работы – 240 минут (4 часа).

***Желаем успеха!***

1. Установите истинность или ложность суждения. Обозначьте «да» истинные суждения; «нет» – ложные суждения. Ответы внесите в таблицу.

1.1. Чистый национальный продукт является макроэкономическим показателем.

1.2. Для правовых государств характерно преобладание политических лидеров авторитарного типа.

1.3. На территории Российской Федерации государственная форма собственности защищается более строго, чем иные формы собственности.

1.4. Социальные нормы обеспечивают устойчивость общества во времени.

1.5. Любая человеческая деятельность направлена на приобретение власти.

Ответ.

1.1	1.2	1.3	1.4	1.5

Максимум за задание – 5 баллов.

2. Предложите минимальное по объёму обобщающее понятие, вбирающее в себя все нижеперечисленные.

*Оплата аренды помещения; процент по ссуде, полученной в банке; отчисления на амортизацию; заработная плата управляющего персонала.*

Ответ: \_\_\_\_\_

Максимум за задание – 2 балла.

3. Дайте краткое обоснование ряда (что объединяет перечисленные элементы) и укажите, какой из элементов является лишним по данному основанию.

*Создание парового двигателя, превращение науки в решающий фактор общественного развития, активная урбанизация, распространение всеобщего избирательного права, возникновение массовой культуры*

Ответ: \_\_\_\_\_

---

Максимум за задание – 3 балла.

4. Решите логическую задачу. Во время урока учитель Владимир Святославович раздал школьникам самостоятельные работы. Один из школьников, Бертран, оказался озадачен выставленной ему оценкой. Он обратился к учителю, чтобы оспорить оценку, на что тот резонно заметил, что во фрагменте рассуждений, представленных Бертраном в его работе, пропущено заключение, которое теперь нужно восстановить. Вот этот фрагмент.

Все преступники являются безнравственными людьми.

Ни один из безнравственных людей не способен понять другого человека.

«При этом помните, что в любом вашем суждении имеются части – логическое подлежащее и логическое сказуемое. Логическое подлежащее (субъект) – это то, о чём идёт речь в суждении; логическое сказуемое (предикат) – это то, что говорится о логическом подлежащем», – сказал учитель. «А ещё связь между логическим подлежащим и логическим сказуемым заключения обосновывается в посылках», – подхватил Бертран. «Именно так. И, как я понял из контекста остальной вашей работы, в вашем заключении речь должна идти о тех, кто способен понять другого человека», – отметил учитель, с чем согласился ученик.

Какое заключение должен восстановить Бертран в своём рассуждении? Ответ обоснуйте. Приведите цепочку рассуждений.

**Ответ:** \_\_\_\_\_

---

---

---

---

---

---

---

---

---

---

---

---

---

---

---

---

---

---

---

---

---

---

---

---

---

---

---

---

---

---

**Максимум за задание – 6 баллов.**

**5. Решите правовую задачу.**

Михаил Петрович долго и упорно спорил со своим внуком Арсением, студентом второго курса юридического факультета, какие отрасли являются материальными, а какие процессуальными. Он утверждал, что материальные отрасли права – это те отрасли, которые связаны с деньгами, например, право, которое используется в суде, чтобы понять, кто кому должен деньги. А процессуальные отрасли – это те отрасли, которые связаны с процессами в обществе, например, право, которое регулирует процесс взаимодействия работника и работодателя.

Прав ли Михаил Петрович? Свой ответ обоснуйте.

Как называются отрасли права, которые Михаил Петрович приводил для примера Арсению?

**Ответ:** \_\_\_\_\_

---

---

---

---

---

---

---

---

---

---

---

---

---

---

---

---

---

---

---

---

---

---

---

---

---

**Максимум за задание – 7 баллов.**

**6. Решите экономическую задачу.**

Государственная газета Иксландии утверждает, что номинальный ВВП за прошедший год удвоился, и полагает, что это означает улучшение жизни граждан Иксландии. Почему рост номинального ВВП не обязательно говорит о повышении качества жизни? Приведите три причины.

**Ответ:** \_\_\_\_\_

\_\_\_\_\_  
\_\_\_\_\_  
\_\_\_\_\_  
\_\_\_\_\_  
\_\_\_\_\_  
\_\_\_\_\_  
\_\_\_\_\_  
\_\_\_\_\_  
\_\_\_\_\_  
\_\_\_\_\_  
\_\_\_\_\_  
\_\_\_\_\_  
\_\_\_\_\_  
\_\_\_\_\_  
\_\_\_\_\_  
\_\_\_\_\_  
\_\_\_\_\_  
\_\_\_\_\_  
\_\_\_\_\_  
\_\_\_\_\_  
\_\_\_\_\_

**Максимум за задание – 6 баллов.**

**7.** Ознакомьтесь с представленными материалами и выполните задания.

Проблема исторической памяти становится всё более актуальной для нашей страны, поскольку является основой для исторической преемственности поколений и формирования патриотизма и чувства национальной гордости россиян. В сознании современных молодых людей восприятие и оценка удалённого по времени исторического события теряет личностный смысл, поэтому затрудняет формирование личной исторической памяти и нуждается в целенаправленном воздействии со стороны основных институтов социализации личности (семьи, образования, культуры, государства, средств массовой информации). <...>

В современном российском обществе ослабевают семейные традиции совместного празднования Дня Победы и поминания погибших членов семьи. С уходом из жизни поколения победителей (которыми в равной мере можно считать и тружеников тыла) сокращается возможность передачи исторической правды о войне от близких родственников из уст в уста. Без живого и доверительного общения с очевидцами и участниками Великой Отечественной

войны, без семейного воспроизводства воспоминаний об этом героическом периоде затрудняется историческая социализация молодежи.

*(Воронин Б.А. и др. Великая Отечественная война в оценках студентов Уральского государственного аграрного университета // АВУ. 2015. №6 (136))*

В таблицах ниже представлены данные социологических опросов, проведённых ВЦИОМ (Всероссийским центром изучения общественного мнения) в разные годы. Статистическая погрешность не превышает 2,5 %. Метод опроса в 2018 году – телефонное интервью. В 2004–2014 гг. проводились квартирные опросы.

**Таблица 1**

<i>Знаете ли вы точную дату начала Великой Отечественной войны?</i>		
	<b>2007 г.</b>	<b>2018 г.</b>
22 июня 1941 года	65	69
Другая дата	29	25
Не знаю	0	3
Затрудняюсь ответить	6	3

**Таблица 2. Данные опроса за 2018 год**

<i>Знаете ли вы точную дату начала Великой Отечественной войны? (2018 г.)</i>					
	18–24 года	25–34 года	35–44 года	45–59 лет	60 лет и старше
22 июня 1941 года	40	46	70	83	80
Другая дата	43	42	22	15	19
Не знаю	12	5	3	1	0
Затрудняюсь ответить	5	7	5	1	1

**Таблица 3**

<i>Были ли среди ваших родственников участники Великой Отечественной войны? Если были, то знаете ли вы подробности их жизни в годы войны?</i>						
	<b>2004 г.</b>	<b>2005 г.</b>	<b>2007 г.</b>	<b>2010 г.</b>	<b>2014 г.</b>	<b>2018 г.</b>
Да, я много знаю об этом из рассказов моих близких, семейных архивов	50	46	45	34	42	35
Я знаю, что родственники воевали, но подробности мне неизвестны	31	31	32	32	31	37

Среди моих родственников были участники войны, но они погибли или пропали без вести, и о них мне ничего неизвестно	10	12	14	17	15	18
Никто из моих родственников не участвовал в войне	4	6	6	8	6	7
Я не знаю, участвовали кто-то из родственников в войне или нет	4	4	3	6	6	2
Затрудняюсь ответить	1	1	0	3	0	1

**Таблица 4**

<i>Доля опрошенных, которые в течение последнего года совершали это действие</i>			
	<b>2010 г.</b>	<b>2014 г.</b>	<b>2018 г.</b>
Смотрели фильмы о Великой Отечественной войне	85	86	88
Встречались с ветеранами	34	35	45
Читали книги о Великой Отечественной войне	32	30	23
Посещали места боевой славы, музеи, мемориалы	29	30	61
Посещали кладбища, захоронения погибших воинов	27	28	51

Источник: <https://wciom.ru/index.php?id=236&uid=9176>

**7.1.** Какие обстоятельства, по мнению автора текста, осложняют передачу исторической памяти о Великой Отечественной войне современной молодёжи? Назовите два обстоятельства. Используя личный социальный опыт и обществоведческие знания, назовите одно обстоятельство, не указанное в тексте.

**Ответ:** \_\_\_\_\_

\_\_\_\_\_

\_\_\_\_\_

\_\_\_\_\_

\_\_\_\_\_

\_\_\_\_\_

\_\_\_\_\_



---

---

---

**7.2.** Проанализируйте данные таблицы 1 и таблицы 2. Подтверждают ли они авторский тезис о росте актуальности проблемы исторической памяти для нашей страны? Ответ аргументируйте конкретными цифрами.

**Ответ:** \_\_\_\_\_

---

---

---

---

---

---

---

---

---

---

---

---

**7.3.** Проанализируйте данные таблиц 1 и 2. Какая из групп населения наиболее репрезентативно отражает всё население в целом? Ответ аргументируйте конкретными цифрами.

**Ответ:** \_\_\_\_\_

---

---

---

---

---

---

---

---

---

---

---

---

**7.4.** Опираясь на данные таблицы 3, определите хронологическую динамику долей респондентов, выбирающих тот или иной ответ о своих воевавших родственниках. Ответ аргументируйте данными таблицы.

**Ответ:** \_\_\_\_\_

\_\_\_\_\_

\_\_\_\_\_

\_\_\_\_\_

\_\_\_\_\_

\_\_\_\_\_

\_\_\_\_\_

\_\_\_\_\_

\_\_\_\_\_

\_\_\_\_\_

\_\_\_\_\_

\_\_\_\_\_

\_\_\_\_\_

\_\_\_\_\_

\_\_\_\_\_

\_\_\_\_\_

\_\_\_\_\_

\_\_\_\_\_

**7.5.** Опираясь на текст и ваш анализ в предыдущем пункте, объясните причину наблюдаемой динамики. Какая из всероссийских акций может повлиять на эту динамику?

**Ответ:** \_\_\_\_\_

\_\_\_\_\_

\_\_\_\_\_

\_\_\_\_\_

\_\_\_\_\_

\_\_\_\_\_

\_\_\_\_\_

\_\_\_\_\_

\_\_\_\_\_

\_\_\_\_\_

\_\_\_\_\_

\_\_\_\_\_

\_\_\_\_\_

\_\_\_\_\_

\_\_\_\_\_

\_\_\_\_\_

\_\_\_\_\_

\_\_\_\_\_

**7.6.** Используя данные таблицы 4, укажите, роль каких средств и способов передачи исторической памяти о Великой Отечественной войне выросла за последние годы. Дайте объяснение данным фактам.

Ответ: \_\_\_\_\_

\_\_\_\_\_

\_\_\_\_\_

\_\_\_\_\_

\_\_\_\_\_


\_\_\_\_\_

\_\_\_\_\_

Максимум за задание – 31 балл.

8. Представленные изображения иллюстрируют одно обществоведческое понятие. Назовите это понятие. Разделите представленные изображения на две группы и назовите эти группы.

<p>А</p> 	<p>Б</p> 
<p>В</p> 	<p>Г</p> 



**Ответ.**

Обобщающее понятие: \_\_\_\_\_.

Группа 1: \_\_\_\_\_.

Изображения: \_\_\_\_\_.

Группа 2: \_\_\_\_\_.

Изображения: \_\_\_\_\_.

**Максимум за задание – 9 баллов.**

**9.** Ознакомьтесь с представленными материалами и выполните задания.

Я утверждаю, что непрерывный рост является существенным для рационального и эмпирического характера научного знания и, если наука перестаёт расти, она теряет этот характер. Именно способ роста делает науку рациональной и эмпирической. На его основе учёные проводят различия между существующими теориями и выбирают лучшую из них или (если нет удовлетворительной теории) выдвигают основания для отклонения всех имеющихся теорий, формулируя некоторые условия, которым должна удовлетворять приемлемая теория.

Когда я говорю о росте научного знания, я имею в виду не накопление наблюдений, а повторяющееся ниспровержение научных теорий и их замену лучшими и более удовлетворительными теориями. Между прочим, этот процесс представляет интерес даже для тех, кто видит наиболее важный аспект роста научного знания в новых экспериментах и наблюдениях. Критическое рассмотрение теорий приводит нас к попытке проверить и ниспровергнуть их, а это, в свою очередь, ведёт нас к экспериментам и наблюдениям такого рода,

которые не пришли бы никому в голову без стимулирующего и руководящего влияния со стороны наших теорий и нашей критики этих теорий. Наиболее интересные эксперименты и наблюдения предназначаются нами как раз для проверки наших теорий, в особенности – новых теорий.

Даже до того, как теория будет проверена, мы можем знать, что она будет лучше некоторой другой теории, если выдержит определённые проверки. У нас есть критерий относительной приемлемости, или потенциальной прогрессивности, который можно применить к теории даже до того, как мы узнаем с помощью некоторых решающих проверок, оказалась ли она действительно удовлетворительной. Этот критерий отдаёт предпочтение той теории, которая сообщает нам больше, т. е. содержит большее количество эмпирической информации, или обладает большим содержанием; которая является логически более строгой; которая обладает большей объяснительной и предсказательной силой; которая, следовательно, может быть более строго проверена посредством сравнения предсказанных фактов с наблюдениями. Короче говоря, интересную, смелую и высокоинформативную теорию мы предпочитаем тривиальной теории. Все эти свойства, наличия которых мы требуем у теории, равнозначны, как можно показать, одному – более высокой степени эмпирического содержания теории, или её проверяемости.

Наука начинается с проблем, а не с наблюдений, хотя наблюдения могут породить проблему, если они являются неожиданными, т. е. если они приходят в столкновение с нашими ожиданиями или теориями. Осознанной задачей, стоящей перед ученым, всегда является решение некоторой проблемы с помощью построения теории, которая решает эту проблему путём, например, объяснения неожиданных или ранее не объяснённых наблюдений. Вместе с тем каждая интересная новая теория порождает новые проблемы – проблемы согласования её с имеющимися теориями, проблемы, связанные с проведением новых и ранее не мыслимых проверок наблюдением. И её плодотворность оценивается главным образом по тем новым проблемам, которые она порождает.

*(К. Поппер. «Предположения и опровержения»)*

**9.1.** Как автор текста понимает научный рост? Какую роль в нём играют наблюдения и эксперименты? Какими свойствами, по мнению автора, обладает теория, которую изначально до экспериментальной проверки следует предпочесть другой теории в соответствии с критерием потенциальной прогрессивности? Назовите четыре свойства.

**Ответ:** \_\_\_\_\_

\_\_\_\_\_

\_\_\_\_\_

\_\_\_\_\_

---

---

---

---

---

---

---

---

---

---

---

---

**9.2.** Объясните смысл высказывания, что «наука начинается с проблем, а не с наблюдений» Может ли, по мнению автора, какая-либо теория решить все проблемы? Ответ поясните.

**Ответ:** \_\_\_\_\_

---

---

---

---

---

---

---

---

---

---

---

**9.3.** Какие две составляющие характера научного знания называет автор. Опишите сущность каждой из этих составляющих. Назовите по два метода научного познания, свойственных для каждой составляющей.

**Ответ:** \_\_\_\_\_

---

---

---

---

---

---

---

---

---

---

---

---

---

---

---

---

---

**Максимум за задание – 28 баллов.**

**10.** Перед вами высказывания известных отечественных и зарубежных мыслителей. Выберите то из них, которое станет темой вашего сочинения-эссе. Ваша задача – сформулировать проблему, поднимаемую автором, развёрнуто сформулировать своё собственное отношение к проблеме, поднятой в данном утверждении, и обосновать его теми аргументами, которые представляются вам наиболее существенными. Выбрав тему, обязательно укажите, с позиции какой базовой науки (культурологии, политологии, социологии, философии, экономики, юриспруденции) вы будете её рассматривать.

1. На рынке люди меняют яблоки на апельсины, а в политике – соглашаются платить налоги в обмен на блага, необходимые всем и каждому: от местной пожарной охраны до суда. (Дж. Бьюкенен)
2. Править – бессмысленно, а управлять – мудро. Правят, следовательно, потому, что не умеют управлять. (И. Зейме)
3. Желать свободы себе – значит желать свободы другим. (С. Бовуар)
4. Если бы то, чего человеку достаточно, удовлетворило его, он был бы вполне обеспечен. (Луциллий Гай)
5. Цивилизованная дикость – самая худшая из всех дикостей. (К. Вебер)
6. Нет ничего более разрушительного, как рациональная политика инвестиций в наш иррациональный мир. (Дж. М. Кейнс)
7. Оставлять богатство детям? Умны будут – без него обойдутся; а глупому сыну не в помощь богатство. Наличные деньги – не наличные достоинства. Золотой болван – всё болван. (Д.И. Фонвизин)

**Максимум за задание – 28 баллов.**

**Ответ:** \_\_\_\_\_

---

---

---

---

---

---

---

---













ВСЕРОССИЙСКАЯ ОЛИМПИАДА ШКОЛЬНИКОВ  
ПО ОБЩЕСТВОЗНАНИЮ. 2019–2020 уч. г.  
МУНИЦИПАЛЬНЫЙ ЭТАП. 11 КЛАСС

***Уважаемый участник!***

При выполнении работы внимательно читайте текст заданий.

Содержание ответа вписывайте в отведённые поля, записи ведите чётко и разборчиво.

За каждый правильный ответ вы можете получить определённое членами жюри количество баллов, не выше указанной максимальной оценки.

Сумма набранных баллов за все решённые вопросы – итог вашей работы. Максимальное количество баллов – 125.

Задания считаются выполненными, если вы вовремя сдали их членам жюри.

Время на выполнение работы – 240 минут (4 часа).

***Желаем успеха!***

**1.** Установите истинность или ложность суждения. Обозначьте «да» истинные суждения; «нет» – ложные суждения. Ответы внесите в таблицу.

**1.1.** Коэффициент Джини – это показатель, оценивающий уровень годовой инфляции в стране.

**1.2.** Внуки могут наследовать своим бабушкам и дедушкам только по завещанию или в случае смерти родителя, имевшего с ними родственную связь.

**1.3.** Согласно Конституции, единственным официальным наименованием нашей страны является «Российская Федерация».

**1.4.** Ислам, иудаизм и христианство являются авраамическими религиями.

**1.5.** Предсказания будущего астрологами могут быть примером выполнения наукой своей прогностической функции.

**Ответ.**

1.1	1.2	1.3	1.4	1.5

**Максимум за задание – 5 баллов.**

**2.** Предложите минимальное по объёму обобщающее понятие, вбирающее в себя все нижеперечисленные:

*Региональные отделения не менее чем в половине субъектов Российской Федерации, не менее 500 членов, расположение исполнительных органов на территории субъектов Российской Федерации.*

**Ответ:** \_\_\_\_\_

---

**Максимум за задание – 2 балла.**

**3.** Дайте краткое обоснование ряда (что объединяет перечисленные элементы) и укажите, какой из элементов является лишним по данному основанию.

*Возмещение убытков, компенсация морального вреда, дисквалификация, взыскание неустойки.*

**Ответ:** \_\_\_\_\_

---

**Максимум за задание – 3 балла.**

**4.** Решите логическую задачу. Во время урока учитель Владимир Ильич раздал школьникам самостоятельные работы. Один из школьников, Пётр, оказался озадачен выставленной ему оценкой. Он обратился к учителю, чтобы оспорить оценку, на что тот резонно заметил, что во фрагменте рассуждений, представленных Петром в его работе, пропущено заключение, которое теперь нужно восстановить. Вот этот фрагмент:

Ни один учебник не является бесполезным.  
Ничто полезное не является скучным.

«При этом помните, что в любом вашем суждении имеются части – логическое подлежащее и логическое сказуемое. Логическое подлежащее (субъект) – это то, о чём идёт речь в суждении; логическое сказуемое (предикат) – это то, что говорится о логическом подлежащем», – сказал учитель. «А ещё связь между логическим подлежащим и логическим сказуемым заключения обосновывается в посылках», – подхватил Пётр. «Именно так. И, как я понял из контекста остальной вашей работы, в вашем заключении речь должна идти о скучном (скучных вещах)», – отметил учитель, с чем согласился ученик.

Какое заключение должен восстановить Пётр в своем рассуждении? Ответ обоснуйте. Приведите цепочку рассуждений.

**Ответ:** \_\_\_\_\_

\_\_\_\_\_

\_\_\_\_\_

\_\_\_\_\_

\_\_\_\_\_

\_\_\_\_\_

\_\_\_\_\_

\_\_\_\_\_

\_\_\_\_\_

\_\_\_\_\_

\_\_\_\_\_

\_\_\_\_\_

\_\_\_\_\_

\_\_\_\_\_

\_\_\_\_\_

\_\_\_\_\_

\_\_\_\_\_

\_\_\_\_\_

\_\_\_\_\_

\_\_\_\_\_

\_\_\_\_\_

\_\_\_\_\_

\_\_\_\_\_

\_\_\_\_\_

\_\_\_\_\_

\_\_\_\_\_

\_\_\_\_\_

**Максимум за задание – 6 баллов.**

**5.** Решите правовую задачу.

Элина прогуливалась по улице и нашла стеклянную вазу. Как ответственный гражданин, Элина сразу же заявила о находке в полицию. В полиции Элине предложили хранить вещь дома, сказав, что если через 6 месяцев владелец вазы не найдётся, она станет принадлежать ей. Элина согласилась и понесла вазу к себе домой. Когда она подходила к дому, её сбил с ног мальчик на самокате, и она упала, а ваза разбилась. Элина только успела загрузить, как ей позвонили из полиции и сказали, что нашли владелицу находки. Элина ещё больше расстроилась, так как решила, что ей придётся оплачивать разбитую вазу. Насколько правильный совет дали Элине в полиции? Оправданы ли опасения Элины? Свои ответы обоснуйте.

**Ответ:** \_\_\_\_\_

\_\_\_\_\_

\_\_\_\_\_

\_\_\_\_\_

\_\_\_\_\_

\_\_\_\_\_

\_\_\_\_\_

\_\_\_\_\_

\_\_\_\_\_

\_\_\_\_\_

\_\_\_\_\_

\_\_\_\_\_

\_\_\_\_\_

\_\_\_\_\_

\_\_\_\_\_

\_\_\_\_\_

\_\_\_\_\_

\_\_\_\_\_

\_\_\_\_\_

\_\_\_\_\_

\_\_\_\_\_

\_\_\_\_\_

\_\_\_\_\_

\_\_\_\_\_

**Максимум за задание – 6 баллов.**

**6.** Решите экономическую задачу.

Перуанский экономист Эрнандо де Сото заметил, что в Перу в регионах с чётко защищёнными правами собственности средняя высота личных жилых домов выше. Предложите возможное объяснение обнаруженной закономерности.

**Ответ:** \_\_\_\_\_

\_\_\_\_\_

\_\_\_\_\_

\_\_\_\_\_

---

---

---

---

---

---

**Максимум за задание – 4 балла.**

7. Ознакомьтесь с представленными материалами и выполните задания.

Проблема исторической памяти становится всё более актуальной для нашей страны, поскольку является основой для исторической преемственности поколений и формирования патриотизма и чувства национальной гордости россиян. В сознании современных молодых людей восприятие и оценка удалённого по времени исторического события теряет личностный смысл, поэтому затрудняет формирование личной исторической памяти и нуждается в целенаправленном воздействии со стороны основных институтов социализации личности (семьи, образования, культуры, государства, средств массовой информации). <...>

В современном российском обществе ослабевают семейные традиции совместного празднования Дня Победы и поминания погибших членов семьи. С уходом из жизни поколения победителей (которыми в равной мере можно считать и тружеников тыла) сокращается возможность передачи исторической правды о войне от близких родственников из уст в уста. Без живого и доверительного общения с очевидцами и участниками Великой Отечественной войны, без семейного воспроизводства воспоминаний об этом героическом периоде затрудняется историческая социализация молодёжи.

*(Воронин Б.А. и др. Великая Отечественная война в оценках студентов Уральского государственного аграрного университета // АВУ. 2015. № 6 (136))*

В таблицах ниже представлены данные социологических опросов, проведённых ВЦИОМ (Всероссийским центром изучения общественного мнения) в разные годы. Статистическая погрешность не превышает 2,5 %. Метод опроса в 2018 году – телефонное интервью. В 2004–2014 гг. проводились квартирные опросы.

**Таблица 1**

<i>Знаете ли вы точную дату начала Великой Отечественной войны?</i>		
	<b>2007 г.</b>	<b>2018 г.</b>
22 июня 1941 года	65	69
Другая дата	29	25
Не знаю	0	3
Затрудняюсь ответить	6	3



**Таблица 2. Данные опроса за 2018 год**

<i>Знаете ли вы точную дату начала Великой Отечественной войны? (2018 г.)</i>					
	<b>18–24 года</b>	<b>25–34 года</b>	<b>35–44 года</b>	<b>45–59 лет</b>	<b>60 лет и старше</b>
22 июня 1941 года	40	46	70	83	80
Другая дата	43	42	22	15	19
Не знаю	12	5	3	1	0
Затрудняюсь ответить	5	7	5	1	1

**Таблица 3**

<i>Были ли среди ваших родственников участники Великой Отечественной войны? Если были, то знаете ли вы подробности их жизни в годы войны?</i>						
	<b>2004 г.</b>	<b>2005 г.</b>	<b>2007 г.</b>	<b>2010 г.</b>	<b>2014 г.</b>	<b>2018 г.</b>
Да, я много знаю об этом из рассказов моих близких, семейных архивов	50	46	45	34	42	35
Я знаю, что родственники воевали, но подробности мне неизвестны	31	31	32	32	31	37
Среди моих родственников были участники войны, но они погибли или пропали без вести, и о них мне ничего неизвестно	10	12	14	17	15	18
Никто из моих родственников не участвовал в войне	4	6	6	8	6	7
Я не знаю, участвовал ли кто-то из родственников в войне или нет	4	4	3	6	6	2
Затрудняюсь ответить	1	1	0	3	0	1

**Таблица 4**

<i>Доля опрошенных, которые в течение последнего года совершали это действие</i>			
	<b>2010 г.</b>	<b>2014 г.</b>	<b>2018 г.</b>
Смотрели фильмы о Великой Отечественной войне	85	86	88
Встречались с ветеранами	34	35	45
Читали книги о Великой Отечественной войне	32	30	23
Посещали места боевой славы, музеи, мемориалы	29	30	61
Посещали кладбища, захоронения погибших воинов	27	28	51

*Источник:* <https://wciom.ru/index.php?id=236&uid=9176>

**7.1.** Какие обстоятельства, по мнению автора текста, осложняют передачу исторической памяти о Великой Отечественной войне современной молодёжи? Назовите два обстоятельства. Используя личный социальный опыт и обществоведческие знания, назовите одно обстоятельство, не указанное в тексте.

**Ответ:** \_\_\_\_\_

\_\_\_\_\_

\_\_\_\_\_

\_\_\_\_\_

\_\_\_\_\_

\_\_\_\_\_

\_\_\_\_\_

\_\_\_\_\_

\_\_\_\_\_

\_\_\_\_\_

\_\_\_\_\_

**7.2.** Проанализируйте данные таблицы 1 и таблицы 2. Подтверждают ли они авторский тезис о росте актуальности проблемы исторической памяти для нашей страны? Ответ аргументируйте конкретными цифрами.

**Ответ:** \_\_\_\_\_

\_\_\_\_\_

\_\_\_\_\_

\_\_\_\_\_

\_\_\_\_\_

\_\_\_\_\_

\_\_\_\_\_

\_\_\_\_\_

\_\_\_\_\_

\_\_\_\_\_

---

---

---

---

---

**7.3.** Проанализируйте данные таблиц 1 и 2. Какая из групп населения наиболее репрезентативно отражает всё население в целом? Ответ аргументируйте конкретными цифрами.

**Ответ:** \_\_\_\_\_

---

---

---

---

---

---

---

---

---

---

---

**7.4.** Опираясь на данные таблицы 3, определите хронологическую динамику долей респондентов, выбирающих тот или иной ответ о своих воевавших родственниках. Ответ аргументируйте данными таблицы.

**Ответ:** \_\_\_\_\_

---

---

---

---

---

---

---

---

---

---

---

---

---

---

---

---

---

---

**7.5.** Опираясь на текст и ваш анализ в предыдущем пункте, объясните причину наблюдаемой динамики. Какая из всероссийских акций может повлиять на эту динамику?

**Ответ:** \_\_\_\_\_

---

---

---

---

---

---

---

---

---

---

---

---

---

---

---

**7.6.** Используя данные таблицы 4, укажите, роль каких средств и способов передачи исторической памяти о Великой Отечественной войне выросла за последние годы. Дайте объяснение данным фактам.

**Ответ:** \_\_\_\_\_

---

---

---

---

---

---

---

---

---

---

---

---

---

---

---

**7.7.** На основании всех проанализированных вами материалов сделайте общий вывод, какие отмечаются изменения в формах трансляции исторической памяти о Великой Отечественной войне за последние годы.

**Ответ:** \_\_\_\_\_

---


---



---

---

**Максимум за задание – 33 балла.**

8. Представленные изображения иллюстрируют два вида социальных общностей. Распределите в соответствии с ними изображения на две группы.

<p>А</p> 	<p>Б</p> 
<p>В</p> 	<p>Г</p>  <p>Умягчи наша злая сердца, Богородице, и напасти ненападящю нас угаси, и всякую тесноту души нашея разреши, на Тебя по святый образ взирающе, Твоим страданием и милосердием о нас умишляем и раны Твоя ювасяем, стружже наших, Ты терзавоюще, ужасаемся. Не дай нам, Мати Благосердая, в жестокосудии нашим и от жестокоудия ближних погибнути, Ты бо еси констину злых сердец умягчи.</p>



**Ответы:**

Группа 1: \_\_\_\_\_.

Изображения: \_\_\_\_\_.

Группа 2: \_\_\_\_\_.

Изображения: \_\_\_\_\_.

**Максимум за задание – 10 баллов.**

**9. Ознакомьтесь с представленными материалами и выполните задания.**

Известное нам сегодня научное образование упрощает «науку», упрощая её составные элементы. Сначала определяется и обособляется область исследования и задается её собственная «логика». Полное овладение такой «логикой» оказывается необходимым условием для работы в данной области: она делает действия исследователей более единообразными и вместе с тем стандартизирует процесс научного познания. Возникают устойчивые «факты», которые сохраняются, несмотря на все изменения. Религия человека, его философия или его чувство юмора не должны иметь никакой связи с его научной деятельностью. Его воображение ограничено, и даже язык не является его собственным. Это, в свою очередь, находит отражение в природе научных «фактов», которые воспринимаются как независимые от мнений, веры и основ культуры.

Таким образом, можно создать традицию, которая будет поддерживаться с помощью строгих правил и до некоторой степени станет успешной. Но желательно ли поддерживать такую традицию и исключать всё остальное? Должны ли мы передать ей все права в области познания, так что любой результат, полученный каким-либо другим методом, следует сразу же отбросить? Моим ответом будет твёрдое и решительное «нет!».

Для такого ответа есть два основания. Первое заключается в том, что мир, который мы хотим исследовать, представляет собой в значительной степени неизвестную сущность. Поэтому мы должны держать свои глаза открытыми и не ограничивать себя заранее. Одни эпистемологические предписания могут показаться блестящими в сравнении с другими эпистемологическими предписаниями или принципами, однако кто может гарантировать, что они указывают наилучший путь к открытию подлинно глубоких секретов природы, а не нескольких изолированных «фактов»?

Второе основание состоит в том, что описанное выше научное образование (как оно осуществляется в наших школах) несовместимо с позицией гуманизма. Оно вступает в противоречие с бережным отношением к индивидуальности, которое только и может создать всесторонне развитого человека и формирует человека исходя из того идеала рациональности, который случайно оказался модным в науке или в философии науки. Стремление увеличить свободу, жить полной, настоящей жизнью и соответствующее стремление раскрыть секреты природы и человеческого бытия приводят, следовательно, к отрицанию всяких универсальных стандартов и косных традиций.

Идея метода, содержащего жёсткие, неизменные и абсолютно обязательные принципы научной деятельности, сталкивается со значительными трудностями при сопоставлении с результатами научного исследования. При этом выясняется, что не существует правила, которое в то или иное время не было бы нарушено. Становится очевидным, что такие нарушения не случайны и не являются результатом недостаточного знания или невнимательности,

которых можно было бы избежать. Напротив, мы видим, что они необходимы для прогресса науки.

Такие события и достижения, как изобретение атомизма в античности, коперниканская революция, постепенное построение волновой теории света, оказались возможными лишь потому, что некоторые мыслители либо сознательно решили разорвать путы «очевидных» методологических правил, либо произвольно нарушали их.

*(П. Фейерабенд. «Против методологического принуждения»)*

**9.1.** Автор утверждает, что научное образование упрощает науку. На основании текста приведите три составляющие этого упрощения. Укажите характеристику научных фактов, приведённую в тексте.

**Ответ:** \_\_\_\_\_

---

---

---

---

---

---

---

---

---

---

---

---

**9.2.** Как автор относится к требованию следовать строгим методам в процессе научного познания? Приведите два аргумента, которыми он обосновывает свою позицию.

**Ответ:** \_\_\_\_\_

---

---

---

---

---

---

---

---

---

---

---

---



**9.3.** Автор текста указывает на необходимость нарушений правил и методов научной деятельности для прогресса науки. Приведите авторские аргументы этой позиции. Приведите три аргумента.

**Ответ:** \_\_\_\_\_

\_\_\_\_\_

\_\_\_\_\_

\_\_\_\_\_

\_\_\_\_\_

\_\_\_\_\_

\_\_\_\_\_

\_\_\_\_\_

\_\_\_\_\_

\_\_\_\_\_

\_\_\_\_\_

\_\_\_\_\_

\_\_\_\_\_

**9.4.** Используя обществоведческие знания, приведите три условия, необходимые для прогресса в современной науке.

**Ответ:** \_\_\_\_\_

\_\_\_\_\_

\_\_\_\_\_

\_\_\_\_\_

\_\_\_\_\_

\_\_\_\_\_

\_\_\_\_\_

\_\_\_\_\_

\_\_\_\_\_

\_\_\_\_\_

\_\_\_\_\_

\_\_\_\_\_

\_\_\_\_\_

**Максимум за задание – 28 баллов.**

**10.** Перед вами высказывания известных отечественных и зарубежных мыслителей. Выберите то из них, которое станет темой вашего сочинения-эссе. Ваша задача – сформулировать проблему, поднимаемую автором, развёрнуто сформулировать своё собственное отношение к проблеме, поднятой в данном утверждении, и обосновать его теми аргументами, которые представляются вам наиболее существенными. Выбрав тему, обязательно укажите, с позиции какой базовой науки (культурологии, политологии, социологии, философии, экономики, юриспруденции) вы будете её рассматривать.

1. На рынке люди меняют яблоки на апельсины, а в политике – соглашаются платить налоги в обмен на блага, необходимые всем и каждому: от местной пожарной охраны до суда. (Дж. Бьюкенен)
2. Править – бессмысленно, а управлять – мудро. Правят, следовательно, потому, что не умеют управлять. (И. Зейме)
3. Желать свободы себе – значит желать свободы другим. (С. Бовуар)
4. Если бы то, чего человеку достаточно, удовлетворило его, он был бы вполне обеспечен. (Луциллий Гай)
5. Цивилизованная дикость – самая худшая из всех дикостей. (К. Вебер)
6. Нет ничего более разрушительного, как рациональная политика инвестиций в наш иррациональный мир. (Дж. М. Кейнс)
7. Оставлять богатство детям? Умны будут – без него обойдутся; а глупому сыну не в помощь богатство. Наличные деньги – не наличные достоинства. Золотой болван – всё болван. (Д.И. Фонвизин)

**Максимум за задание – 28 баллов.**

**Ответ:** \_\_\_\_\_

\_\_\_\_\_

\_\_\_\_\_

\_\_\_\_\_

\_\_\_\_\_

\_\_\_\_\_

\_\_\_\_\_

\_\_\_\_\_

\_\_\_\_\_

\_\_\_\_\_

\_\_\_\_\_







