

ВСЕРОССИЙСКАЯ ОЛИМПИАДА ШКОЛЬНИКОВ
ПО ОБЖ. МУНИЦИПАЛЬНЫЙ ЭТАП
7–8 КЛАССЫ

Уважаемый участник!

При выполнении заданий Вам предстоит выполнить определённую работу, которую лучше организовать следующим образом:

- внимательно прочитайте задание;
- если Вы отвечаете на теоретический вопрос или решаете ситуационную задачу, обдумайте и сформулируйте конкретный ответ (ответ должен быть кратким, и его содержание следует вписать в отведённое поле; пишите чётко и разборчиво);
- при ответе на тестовые задания определите верный ответ и обведите кружком букву (буквы), соответствующую(-ие) выбранному Вами ответу.

За каждый правильный ответ Вы можете получить определённое членами жюри количество баллов, не выше указанной максимальной оценки.

Сумма набранных баллов за все решённые вопросы в двух форматах – итог Вашей работы. Максимальное количество баллов – 100.


Задания считаются выполненными, если Вы вовремя сдали их членам жюри.

Желаем успеха!

Тестовые задания

Определите один правильный ответ.

За правильный ответ начисляется 2 балла.


- 1. Что означает следующий символ, используемый в международной кодовой таблице сигналов бедствия?**
а) нужны медикаменты
б) нужны оружие и боеприпасы
в) нужны компас и карты
г) нужны продовольствие и вода
- 
- 2. На компасе Адрианова азимут на север равен**
а) 90°
б) 360°
в) 180°
г) 270°
 - 3. При утечке газ пропан**
а) поднимается вверх
б) опускается вниз
в) стелется по земле
г) растворяется в воздухе
 - 4. Как расшифровывается аббревиатура «МЧС»?**
а) Министерство Российской Федерации по делам гражданской обороны, чрезвычайным ситуациям и ликвидации последствий стихийных бедствий
б) Министерство России по делам гражданской обороны, чрезвычайным ситуациям и ликвидации последствий стихийных бедствий
в) Министерство Российской Федерации по чрезвычайным ситуациям и ликвидации последствий стихийных бедствий
г) Министерство России по делам гражданской обороны и ликвидации последствий стихийных бедствий
 - 5. Для чего применяется дезинсекция?**
а) для удаления радиоактивных веществ
б) для удаления опасных и токсических химических веществ
в) для уничтожения насекомых – переносчиков инфекционных заболеваний
г) для уничтожения грызунов – переносчиков инфекционных заболеваний

6. **Скорость урагана достигает**

- а) 110 км/ч
- б) 101 км/ч
- в) 62 км/ч
- г) 120 км/ч

7. **Вязка какого узла изображена на рисунке?**

- а) бабьего
- б) прямого
- в) фламандского
- г) дубового



8. **Верны ли приведённые суждения?**

- А) Никотин является опасным растительным ядом.
- Б) Никотин в малых дозах возбуждает, а в больших дозах тормозит деятельность клеток центральной нервной системы
- а) верно только А
- б) верно только Б
- в) верны оба суждения
- г) оба суждения неверны

9. **Какой признак указывает на повреждение спинного мозга при травме позвоночника?**

- а) рана в области позвоночника
- б) кровоизлияние в области позвоночника
- в) резкая боль в области позвоночника
- г) отсутствие движения в конечностях ниже места повреждения

10. **Какое мероприятие первой помощи выполняют при отсутствии у пострадавшего сознания (при наличии пульса и дыхания)?**

- а) приподнимают ноги
- б) проводят компрессии на грудную клетку
- в) выполняют сердечно-лёгочную реанимацию
- г) переводят пострадавшего в устойчивое боковое положение

Определите все правильные ответы.

За каждый правильный ответ начисляется 2 балла.

11. **Что из перечисленного относится к личному снаряжению в туристическом походе?**
а) рюкзак
б) палатка
в) тент
г) котелок
д) кружка
12. **Какое смысловое значение несёт красный цвет, используемый в знаках безопасности?**
а) непосредственная опасность
б) аварийная или опасная ситуация
в) возможная опасность
г) предписание во избежание опасности
д) указание
13. **К относительно безопасным бытовым химикатам можно отнести**
а) стиральные порошки
б) отбеливающие средства
в) мыло
г) растворители
д) препараты для борьбы с насекомыми
14. **По причинам возникновения чрезвычайные ситуации подразделяют на**
а) экологические
б) технологические
в) социальные
г) дорожные
д) криминальные
15. **При падении в толпе в первую очередь необходимо:**
а) как можно быстрее встать
б) постараться на четвереньках отползти в укрытие
в) защитить голову руками
г) защитить подручными предметами живот
д) поднять руку, привлекая внимание

16. **К видам наводнений относятся**
а) ветровой нагон
б) зажор
в) сильный тягун
г) низкие уровни воды
д) осенний тягун
17. **Какие действия запрещается выполнять при ожоге конечности с повреждением целостности кожи?**
а) отрывать прилипшую одежду
б) охлаждать, приложив холод через стерильную (чистую) ткань
в) охлаждать под струёй воды
г) накладывать нетугую повязку
д) давать питьё
18. **Какие календари профилактических прививок утверждены Министерством здравоохранения РФ?**
а) календарь путешественников
б) национальный календарь
в) профессиональный календарь
г) по эпидемическим показаниям
д) детский календарь
19. **Какие признаки характерны для гипотермии средней степени тяжести (температура тела 30–34 °С)?**
а) мышечное окоченение
б) озноб, мышечная дрожь
в) замедление сердечного ритма
г) учащение сердечного ритма
д) возбуждение, беспокойство
20. **Какие из перечисленных средств отсутствуют в аптечке первой помощи (автомобильной), но входят в состав аптечки для оказания первой помощи работникам?**
а) жгут кровоостанавливающий
б) медицинские перчатки
в) устройство для проведения искусственного дыхания «рот–устройство–рот»
г) покрывало спасательное изотермическое
д) маска медицинская трёхслойная

**Методика оценивания выполнения тестовых олимпиадных заданий
теоретического тура**

№ тестового задания	Максимальный балл	Порядок оценки тестовых заданий
1–10	2	За правильный ответ начисляется 2 балла. 0 баллов выставляется за неправильный ответ, а также если участником отмечены несколько ответов (в том числе правильный).
11–20	4	За каждый правильный ответ начисляется 2 балла. 0 баллов выставляется за неправильный ответ, а также если участником отмечены более двух ответов (в том числе правильные).
ИТОГО	60	Общий итоговый балл определяется суммой баллов, полученных за каждое тестовое задание.

Таблица ответов на тестовые задания теоретического тура

Номер теста	Верный ответ	Номер теста	Верный ответ
1	в	11	а, д
2	б	12	а, б
3	а	13	а, в
4	а	14	а, в
5	в	15	а, в
6	г	16	а, б
7	б	17	а, в
8	в	18	б, г
9	г	19	а, в
10	г	20	г, д

Максимум за тестовые задания 60 баллов.

Теоретические задания

Задание 1

Перечислите, состоящие из десяти пунктов, рекомендации полиции, которые помогут уберечься от воров-карманников.

Ответ:

1. Быть внимательным в переполненном транспорте, при посещении магазинов или других многолюдных мест.
2. Обращать внимание на то, чтобы портмоне (или кошельки) не выделялось из одежды и тем самым не привлекало к себе внимание.
3. Использовать нагрудные кошельки.
4. Следить за тем, чтобы сумка была застёгнута. В многолюдном месте прижимать её к себе.
5. Не класть сумку с деньгами в тележку для покупок.
6. Не хранить в кошельке записку с пин-кодом от кредитной карты и не указывать его на самой карте.
7. Обращать внимание на людей, которые пытаются подойти поближе, встают сзади или сбоку.
8. Выходя из дома, заглянуть в свой кошелёк и подсчитать, какой суммой располагаете.
9. Не брать с собой лишних денег.
10. Не пересчитывать содержимое кошелька публично.






Оценка задания. Максимальная оценка за правильно выполненное задание – **10 баллов**, при этом:

- за каждый правильно указанный пункт начисляется по **1 баллу** (допускаются иные формулировки пунктов, не искажающие их смысла);
- при отсутствии правильных ответов баллы не начисляются.

Задание 2

1. Укажите знаком «+» в крайнем левом или крайнем правом столбце, какие из ситуаций, изображённых на картинках, относятся к опасным, а какие к экстремальным?

Правильный ответ:

Опасная ситуация	Изображение	Экстремальная ситуация
		+
+		
		+
+		
		+

Оценка задания. Максимальная оценка за правильно выполненное задание – **10 баллов**, при этом:

- за каждое правильно указанное название начисляется по **2 балла**;
- при отсутствии правильных ответов баллы не начисляются.

Задание 3

Перечислите, состоящие из пяти пунктов, предупредительные инженерные мероприятия по защите от наводнений во время весеннего половодья.

Вариант ответа:

1. Строительство (отсыпка) новых и поддержание в рабочем состоянии существующих дамб.
2. Строительство (укрепление) берегозащитных (берегоукрепительных) сооружений.
3. Проведение предупреждающего подрыва льда.
4. Осуществление профилактического сброса воды из водохранилищ.
5. Строительство водохранилищ противопаводкового назначения для регулирования паводочного стока вод.

Оценка задания. Максимальная оценка за правильно выполненное задание – **10 баллов**, при этом:

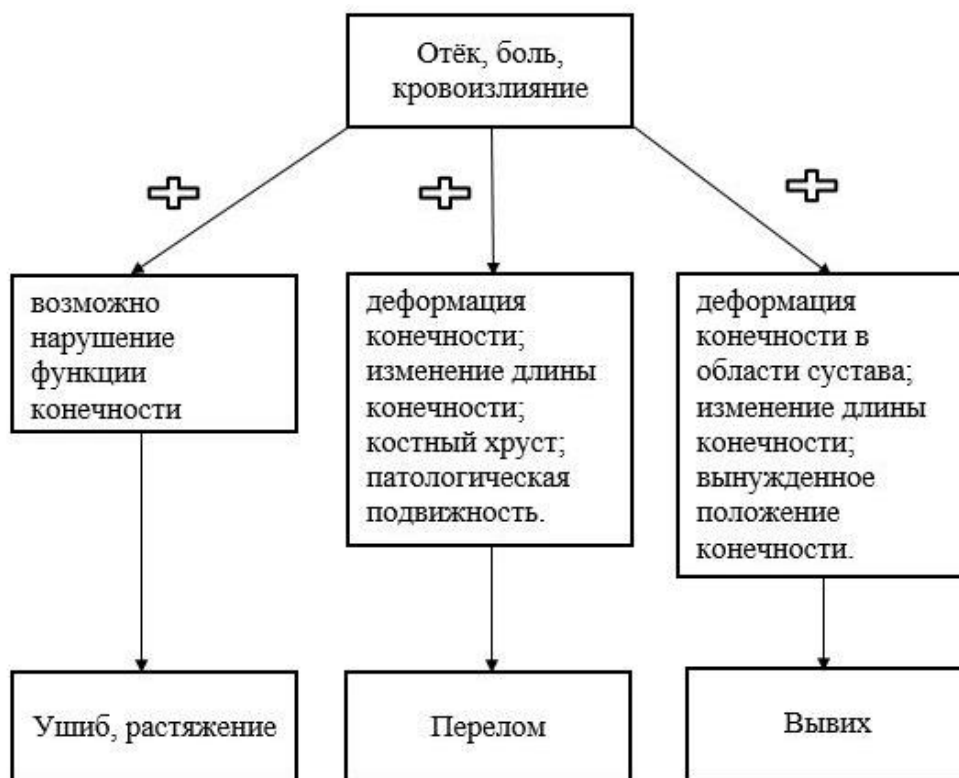
- за каждый правильно указанный пункт начисляется по **2 балла**;
(допускаются иные формулировки пунктов, не искажающие их смысла);
при отсутствии правильных ответов баллы не начисляются

Задание 4

Травмы конечностей встречаются достаточно часто. Общими их признаками являются отёк, боль, кровоизлияние.

А. Дополните схему. Укажите, какие повреждения можно заподозрить у пострадавшего, если к указанным признакам присоединяется ряд других признаков.

Ответ:



Б. При травмах конечностей применяется иммобилизация.

Укажите, какое количество суставов необходимо зафиксировать при переломе (вывихе):

1. предплечья и голени
2. плеча и бедра.

Б. Ответ:

1. Иммобилизуют минимум два сустава (выше и ниже места повреждения) при переломах (вывихах) предплечья и голени.
2. При переломах (вывихах) плеча и бедра фиксируют три сустава (один выше и два ниже места повреждения).

Оценка задания. Максимальная оценка за правильно выполненное задание – **10 баллов**, при этом:

- за каждый правильный ответ части А начисляется по **2 балла**;
- за каждый правильный ответ части Б начисляется по **2 балла** (ключевые слова подчёркнуты в варианте ответа, допускается иная формулировка ответа, не искажающая его смысла);
- при отсутствии правильных ответов баллы не начисляются.

Максимум за работу – 100 баллов.

**ВСЕРОССИЙСКАЯ ОЛИМПИАДА ШКОЛЬНИКОВ
ПО ОБЖ. МУНИЦИПАЛЬНЫЙ ЭТАП
9 КЛАСС**

Уважаемый участник!

При выполнении заданий Вам предстоит выполнить определённую работу, которую лучше организовать следующим образом:

- внимательно прочитайте задание;
- если Вы отвечаете на теоретический вопрос или решаете ситуационную задачу, обдумайте и сформулируйте конкретный ответ (ответ должен быть кратким, и его содержание следует вписать в отведённое поле; пишите чётко и разборчиво);
- при ответе на тестовые задания определите верный ответ и обведите кружком букву (буквы), соответствующую(-ие) выбранному Вами ответу.

За каждый правильный ответ Вы можете получить определённое членами жюри количество баллов, не выше указанной максимальной оценки.

Сумма набранных баллов за все решённые вопросы в двух форматах – итог Вашей работы. Максимальное количество баллов – 100.

Задания считаются выполненными, если Вы вовремя сдали их членам жюри.

Желаем успеха!

Тестовые задания


*Определите один правильный ответ.
За правильный ответ начисляется 2 балла.*

- 1. Одной из причин гибели людей при пожаре является отравление:**
 - а) двуокисью углерода
 - б) оксидом серы
 - в) альдегидами
 - г) оксидом углерода
- 2. На компасе Адрианова азимут на восток равен**
 - а) 90°
 - б) 360°
 - в) 180°
 - г) 270°
- 3. К каким загрязнителям относятся ксенобиотики?**
 - а) химическим
 - б) физическим
 - в) биологическим
 - г) информационным
- 4. Как расшифровывается аббревиатура «РСЧС»?**
 - а) Государственная система предупреждения и ликвидации чрезвычайных ситуаций
 - б) Единая государственная система по делам гражданской обороны и ликвидации чрезвычайных ситуаций
 - в) Единая государственная система предупреждения и ликвидации чрезвычайных ситуаций
 - г) Российская система предупреждения и ликвидации чрезвычайных ситуаций
- 5. Дегазация применяется для удаления**
 - а) радиоактивных веществ
 - б) опасных и токсических химических веществ
 - в) переносчиков инфекционных болезней
 - г) ядовитых и заболевших растений

6. **Рухнуло ветхое здание, из которого выселены все жильцы. Такая ситуация называется**
- а) чрезвычайной
 - б) экстремальной
 - в) опасной
 - г) аварийной
7. **Какому уровню террористической опасности соответствует «жёлтый» цвет?**
- а) постоянному
 - б) повышенному
 - в) высокому
 - г) критическому
8. **Какие пищевые вещества составляют основную часть суточного рациона человека?**
- а) белки
 - б) жиры
 - в) углеводы
 - г) витамины
9. **Какое мероприятие выполняется после проведения простых медицинских манипуляций, соответствующих состоянию пострадавшего?**
- а) контроль за состоянием пострадавшего
 - б) создание безопасных условий для оказания первой помощи
 - в) придание пострадавшему оптимального положения тела
 - г) передача пострадавшего бригаде скорой медицинской помощи
10. **Сколько и какие суставы нужно иммобилизовать при переломе плеча?**
- а) один (локтевой сустав)
 - б) два (плечевой и локтевой суставы)
 - в) два (локтевой и лучезапястный суставы)
 - г) три (плечевой, локтевой и лучезапястный суставы)

Определите все правильные ответы.
За каждый правильный ответ начисляется 2 балла.

11. **Что из перечисленного входит в носимый аварийный запас (НАЗ) с предметами первой необходимости?**
а) спички
б) котелок
в) туалетные принадлежности
г) обезвоженная сухая пища и витамины
д) слегка обожжённые кусочки ваты
12. **Высокий уровень шума способен вызвать у человека**
а) повышенное давление
б) головную боль
в) снижение иммунитета
г) боль в суставах
д) ухудшение координации
13. **Какое смысловое значение несёт синий цвет, используемый в знаках безопасности?**
а) непосредственная опасность
б) аварийная или опасная ситуация
в) возможная опасность
г) предписание во избежание опасности
д) указание
14. **Укажите минимальную и максимальную скорость ветра при буре по шкале Бофорта**
а) от 62 км/ч
б) от 60 км/ч
в) до 101 км/ч
г) до 120 км/ч
д) до 110 км/ч
15. **К опасным геологическим явлениям относятся**
а) магнитные бури
б) гололёд
в) землетрясения
г) оползни
д) обвалы

16. **При местной чрезвычайной ситуации**
а) количество пострадавших человек 11–50
б) прямой материальный ущерб до 100 минимальных зарплат
в) прямой материальный ущерб 101–300 минимальных зарплат
г) прямой материальный ущерб до 301–500 минимальных зарплат
д) количество пострадавших человек 51–500
17. **К основным видам террористической деятельности относятся**
а) криминальный терроризм
б) классовый терроризм
в) расовый терроризм
г) государственный терроризм
д) религиозный терроризм
18. **Какие нарушения в организме человека могут возникнуть при недостаточном поступлении йода с пищей?**
а) ухудшение памяти
б) снижение массы тела
в) увеличение массы тела
г) гиперактивность, суетливость
д) повышение температуры тела
19. **При каких травмах и (или) состояниях пострадавшему придают оптимальное положение тела, изображённое на рисунке?**
а) острая боль за грудиной
б) большая кровопотеря
в) отёк лёгких
г) травма живота
д) травма нижних конечностей
- 
20. **Какие признаки характерны для инфаркта миокарда?**
а) периодические покалывания в области сердца
б) постоянная боль за грудиной с распространением в левую половину грудной клетки
в) боль в области сердца при глубоком вдохе
г) боль под левой лопаткой при движении
д) бледность лица, холодный пот

**Методика оценивания выполнения тестовых олимпиадных заданий
теоретического тура**

№ тестового задания	Максимальный балл	Порядок оценки тестовых заданий
1–10	2	За правильный ответ начисляется 2 балла. 0 баллов выставляется за неправильный ответ, а также если участником отмечены несколько ответов (в том числе правильный).
11–20	4	За каждый правильный ответ начисляется 2 балла. 0 баллов выставляется за неправильный ответ, а также если участником отмечены более двух ответов (в том числе правильные).
ИТОГО	60	Общий итоговый балл определяется суммой баллов, полученных за каждое тестовое задание.

Таблица ответов на тестовые задания теоретического тура

Номер теста	Верный ответ	Номер теста	Верный ответ
1	г	11	а, д
2	а	12	а, б
3	а	13	г, д
4	в	14	а, в
5	б	15	г, д
6	г	16	а, в
7	в	17	а, д
8	в	18	а, в
9	в	19	а, в
10	г	20	б, д

Максимум за тестовые задания 60 баллов.

Теоретические задания

Задание 1

Перечислите, состоящие из пяти пунктов, рекомендации безопасного поведения при неблагоприятной экологической обстановке.

Вариант ответа:


1. Если дом, в котором Вы проживаете, находится рядом с территорией промышленных объектов, то при проветривании помещения необходимо учитывать направление ветра.
2. Если ветер дует от промышленной зоны, окна лучше держать закрытыми.
3. Не следует ходить пешком вдоль автомобильных магистралей с интенсивным движением.
4. Для прогулок и занятий физкультурой лучше выбирать парк, сквер и т. п.
5. Купаться можно только в установленных местах, где состояние воды проверено и не опасно для здоровья.

Оценка задания. Максимальная оценка за правильно выполненное задание – **10 баллов**, при этом:

- за правильный ответ по каждой из 5 позиций начисляется по **2 балла** (допускается иная формулировка ответа, не искажающая его смысла);
- при отсутствии правильных ответов баллы не начисляются.

Задание 2

Впишите в таблицу название вида костра.

	<u>Колодец</u>
	<u>Нодья</u>
	<u>Полинезийский</u>
	<u>Звёздочка</u>
	<u>Шалаш</u>

Оценка задания. Максимальная оценка за правильно выполненное задание – **10 баллов**, при этом:

- за каждое правильно указанное название начисляется по **2 балла**;
- при отсутствии правильных ответов баллы не начисляются.

Задание 3

Опишите, состоящие из десяти пунктов, рекомендуемые правила поведения, если Вы оказались в заложниках.

Вариант ответа:

1. Не допускать действий, которые могут спровоцировать террористов к применению оружия и привести к человеческим жертвам.
2. Быть готовым к применению террористами повязок на глаза, кляпов, наручников или верёвок.
3. Переносить лишения, оскорбления и унижения.
4. Не смотреть преступникам в глаза.
5. Не вести себя вызывающе.
6. Не пытаться оказывать сопротивление и т. п..
7. Если заставят выйти из помещения, говоря, что Вы взяты в заложники, не сопротивляться.
8. При необходимости выполнять требования преступников.
9. Не допускать истерики и паники.
10. Когда необходима медицинская помощь, говорить спокойно и кратко, не нервировать бандитов, ничего не предпринимать без разрешения.

Оценка задания. Максимальная оценка за правильно выполненное задание – **10 баллов**, при этом:

- за каждый правильно указанный пункт начисляется по **1 баллу** (допускаются иные формулировки пунктов, не искажающие их смысла);
- при отсутствии правильных ответов баллы не начисляются.

Задание 4

Прочитайте текст.

А. Впишите пропущенные слова и числа.

Ответ:

Вы идёте по улице с приятелем и видите лежащего человека без признаков сознания (признаки биологической смерти отсутствуют).

1) проверить наличие признаков жизни, к которым относятся:

- а) наличие (отсутствие) **сознания**;
- б) наличие (отсутствие) **пульса**;
- в) наличие (отсутствие) **дыхания**;

2) при отсутствии признаков жизни приступить к проведению сердечно-лёгочной реанимации, т. е. выполнить;

3) искусственное дыхание (**2** вдоха), предварительно обеспечив проходимость дыхательных путей;

4) при появлении признаков жизни после проведения сердечно-лёгочной реанимации или при первоначальном их наличии у пострадавшего перевести пострадавшего **в стабильное (устойчивое) боковое** положение;

5) сделать **30** давлений на грудину пострадавшего;

6) оценить обстановку, обеспечить безопасные условия для оказания первой помощи;

7) контролировать признаки жизни до приезда скорой медицинской помощи;

8) попросить приятеля вызвать скорую медицинскую помощь.

Б. Расположите действия по оказанию первой помощи в порядке их выполнения. Запишите цифры, которыми обозначены действия, в правильной последовательности.

Ответ: 61825347.

Оценка задания. Максимальная оценка за правильно выполненное задание – **10 баллов**, при этом:

- за каждый правильный ответ части А (заполнение одного пропуска в тексте) начисляется по **1 баллу**;
- за правильную последовательность действий части Б начисляется 4 балла;
- при отсутствии правильных ответов баллы не начисляются.

Максимум за работу – 100 баллов

**ВСЕРОССИЙСКАЯ ОЛИМПИАДА ШКОЛЬНИКОВ
ПО ОБЖ. МУНИЦИПАЛЬНЫЙ ЭТАП
10–11 КЛАССЫ**

Уважаемый участник!

При выполнении заданий Вам предстоит выполнить определённую работу, которую лучше организовать следующим образом:

- внимательно прочитайте задание;
- если Вы отвечаете на теоретический вопрос или решаете ситуационную задачу, обдумайте и сформулируйте конкретный ответ (ответ должен быть кратким, и его содержание следует вписать в отведённое поле; пишите чётко и разборчиво);
- при ответе на тестовые задания определите верный ответ и обведите кружком букву (буквы), соответствующую(-ие) выбранному Вами ответу.

За каждый правильный ответ Вы можете получить определённое членами жюри количество баллов, не выше указанной максимальной оценки.

Сумма набранных баллов за все решённые вопросы в двух форматах – итог Вашей работы. Максимальное количество баллов – 100.

Задания считаются выполненными, если Вы вовремя сдали их членам жюри.


Желаем успеха!

Тестовые задания

*Определите один правильный ответ.
За правильный ответ начисляется 2 балла.*

1. **Вязка какого узла изображена на рисунке?**

- а) «дубового»
- б) «прямого»
- в) «фламандского»
- г) «бабьего»



2. **В условиях пожара понижение содержания этого газа в воздухе на 3 % ведёт к ухудшению двигательных функций организма.**

- а) водород
- б) кислород
- в) азот
- г) гелий

3. **Как расшифровывается аббревиатура «ОКСИОН»?**

- а) Общественная комплексная система информирования и оповещения населения в местах массового пребывания людей
- б) Общероссийская кодовая система информирования и оповещения населения в местах массового пребывания людей
- в) Общероссийская комплексная система информирования и оповещения населения
- г) Общероссийская комплексная система информирования и оповещения населения в местах массового пребывания людей

4. **Дезактивация применяется для удаления**

- а) радиоактивных веществ
- б) опасных и токсических химических веществ
- в) переносчиков инфекционных болезней
- г) ядовитых и заболевших растений

5. **При наличии информации о совершённом террористическом акте либо о совершении действий, создающих непосредственную угрозу террористического акта, устанавливается**

- а) повышенный уровень опасности
- б) критический уровень опасности
- в) высокий уровень опасности
- г) постоянный уровень опасности

6. **Какой из перечисленных нормативных правовых актов раскрывает национальные интересы и стратегические национальные приоритеты Российской Федерации?**
- а) Военная доктрина Российской Федерации
 - б) Стратегия национальной безопасности Российской Федерации
 - в) Конституция Российской Федерации
 - г) Федеральный закон об обороне
7. **Получение начальных знаний в области обороны предусматривается в ходе**
- а) подготовки по военно-учётным специальностям солдат, матросов, сержантов и старшин по направлению военного комиссариата
 - б) обязательной подготовки гражданина к военной службе
 - в) обучения по дополнительным общеобразовательным программам, имеющим целью подготовку несовершеннолетних граждан к военной или иной государственной службе
 - г) обучения по программе военной подготовки в учебных военных центрах
8. **Верны ли утверждения?**
- А.** В шеренге военнослужащие размещены один возле другого на одной линии.
- Б.** Интервалы в шеренге может указывать командир.
- а) верно только А
 - б) верно только Б
 - в) верны оба утверждения
 - г) оба утверждения неверны
9. **Какие лекарственные препараты позволяют получить пассивный иммунитет против определённого инфекционного заболевания?**
- а) витамины
 - б) вакцины
 - в) адаптогены
 - г) сыворотки
10. **На какой(-ие) сегмент(-ы) конечности должна накладываться тугая повязка после освобождения нижней конечности от сдавливания?**
- а) на место повреждения кожи
 - б) на голень (до колена)
 - в) на голень (до колена) и стопу (до кончиков пальцев)
 - г) на стопу, голень, бедро (до паховой складки)

Определите все правильные ответы.

За каждый правильный ответ начисляется 2 балла.

11. **Какими транспортными средствами разрешено управление лицам, достигшим 18 лет?**
- а) автомобилем, разрешённая максимальная масса которого не превышает 3500 кг и число сидячих мест которого, помимо сиденья водителя, не превышает 8
 - б) автомобилем, разрешённая максимальная масса которого превышает 3500 кг
 - в) трамваем и троллейбусом
 - г) автомобилем, предназначенным для перевозки пассажиров и имеющим более 8 сидячих мест
 - д) автомобилем, сцепленным с прицепом, разрешённая максимальная масса которого превышает 750 кг
12. **К физическим загрязнителям окружающей среды относятся**
- а) ксенобиотики
 - б) шум
 - в) избыточная отрицательная информация
 - г) тепловое загрязнение
 - д) парабены
13. **Предвестником пурги являются**
- а) повышение температуры воздуха
 - б) понижение температуры воздуха
 - в) постепенное увеличение скорости ветра
 - г) резкое увеличение скорости ветра
 - д) понижение скорости ветра
14. **К опасным гидрологическим явлениям относятся**
- а) ранний ледостав
 - б) тайфуны
 - в) низкие уровни воды
 - г) цунами
 - д) смерчи

15. **В борьбе с терроризмом ВС РФ могут применяться для**
- а) пресечения международной террористической деятельности за пределами территории РФ
 - б) обеспечения полётов воздушных судов РФ
 - в) защиты граждан РФ за пределами территории РФ от вооружённого нападения на них
 - г) отражения вооружённого нападения на другое государство, обратившееся к РФ с соответствующей просьбой
 - д) обеспечения безопасности национального морского судоходства
16. **В целях обороны**
- а) устанавливается воинская обязанность граждан РФ
 - б) создаётся Федеральная служба войск национальной гвардии РФ
 - в) устанавливается воинская обязанность органов исполнительной власти РФ
 - г) создаются другие войска, воинские формирования и органы РФ
 - д) создаются Вооружённые Силы РФ
17. **Какие из перечисленных родов войск входят в состав Сухопутных войск Российской Федерации?**
- а) войска ПВО-ПРО
 - б) войска радиационной, химической и биологической защиты
 - в) войска связи
 - г) десантно-штурмовые бригады
 - д) мотопехотные войска
18. **Какие признаки, наблюдаемые у пострадавшего, характерны для острого нарушения мозгового кровообращения (инсульта)?**
- а) побледнение кожи лица
 - б) асимметрия лица
 - в) не может вспомнить своё имя (амнезия)
 - г) не может произнести своё имя (афазия)
 - д) боль за грудиной

19. **Какие функции выполняет витамин К в организме человека?**

- а) участвует в процессе свёртывания крови
- б) предупреждает образование тромбов
- в) участвует в росте и укреплении костной ткани
- г) повышает эластичность сосудов
- д) регулирует энергетический обмен в мышцах

20. **При каких травмах и (или) состояниях пострадавшему придают оптимальное положение тела, изображённое на рисунке?**



- а) травма живота
- б) травма головы
- в) травма грудной клетки
- г) травма позвоночника
- д) травма нижних конечностей

**Методика оценивания выполнения тестовых олимпиадных заданий
теоретического тура**

№ тестового задания	Максимальный балл	Порядок оценки тестовых заданий
1–10	2	За правильный ответ начисляется 2 балла. 0 баллов выставляется за неправильный ответ, а также если участником отмечены несколько ответов (в том числе правильный).
11–20	4	За каждый правильный ответ начисляется 2 балла. 0 баллов выставляется за неправильный ответ, а также если участником отмечены более двух ответов (в том числе правильные).
ИТОГО	60	Общий итоговый балл определяется суммой баллов, полученных за каждое тестовое задание.

Таблица ответов на тестовые задания теоретического тура

Номер теста	Верный ответ	Номер теста	Верный ответ
1	в	11	а, б
2	б	12	б, г
3	г	13	а, в
4	а	14	а, в
5	б	15	а, д
6	б	16	а, д
7	б	17	б, в
8	в	18	б, г
9	г	19	а, в
10	г	20	г, д

Максимум за тестовые задания 60 баллов.

Теоретические задания

Задание 1

Перечислите, состоящие из десяти пунктов, рекомендации безопасного поведения при общении с незнакомыми людьми.

Вариант ответа:

1. Не ходить в отдалённые и безлюдные места.
2. Не вступать в диалог с незнакомыми людьми на улице или в общественных местах.
3. Не принимать подарки или угощения от незнакомых лиц.
4. Не пускать незнакомых людей в квартиру.
5. Не садиться в машину с незнакомыми людьми.
6. Не входить с незнакомым человеком в лифт.
7. Научиться быть наблюдательным.
8. Избегать общения с человеком, находящимся в состоянии алкогольного опьянения.
9. Не давать позвонить незнакомому человеку по своему сотовому телефону.
10. Не входить с незнакомым человеком в подъезд.

Оценка задания. Максимальная оценка за правильно выполненное задание – **10 баллов**, при этом:

- за правильный ответ по каждой из позиций 1–10, указанных в варианте ответа, начисляется по **1 баллу** (допускаются иные формулировки ответа, не искажающие его смысла и другие варианты ответа, соответствующие сути задания);
- если задание не выполнено, баллы не начисляются.

Задание 2

Впишите в таблицу смысловое значение знаков безопасности.

Правильный ответ:

Запрещающий знак	Смысловое значение запрещающего знака
	Запрещается загромождать проходы и (или) складировать
	Опасно. Едкие и коррозионные вещества
	Медицинский кабинет
	Внимание. Автопогрузчик
	Запрещается работа (присутствие) людей, имеющих металлические имплантаты
	Осторожно. Холод

Всероссийская олимпиада школьников по ОБЖ
Муниципальный этап. 10–11 классы

	Запрещается использовать в качестве питьевой воды
	Работать в защитных наушниках
	Запрещается разбрызгивать воду
	Пожарный водосточник

Оценка задания. Максимальная оценка за правильно выполненное задание – **10 баллов**, при этом:

- за каждое правильно указанное смысловое значение начисляется по **1 баллу**;
- при отсутствии правильных ответов баллы не начисляются.

Задание 3

Укажите войсковые воинские звания высших офицеров Вооружённых Сил Российской Федерации и расположите их в порядке возрастания старшинства.

Ответ:

- 1) Генерал-майор
- 2) Генерал-лейтенант
- 3) Генерал-полковник
- 4) Генерал армии
- 5) Маршал Российской Федерации

Оценка задания

Максимальная оценка за правильно выполненное задание – **10 баллов**, при этом:

- за каждое правильно указанное войсковое воинское звание начисляется по **1 баллу**;
- за полное правильное расположение воинских званий в порядке старшинства начисляется **5 баллов**.
- при отсутствии правильных ответов баллы не начисляются.

Задание 4

Инфекционные болезни – это заболевания, вызываемые болезнетворными микроорганизмами, которые передаются от заражённого человека или животного к здоровому. Способ перемещения возбудителя инфекционного заболевания от источника инфекции в восприимчивый организм человека или животного называется механизмом передачи инфекции. Механизм передачи может быть реализован различными путями.

Заполните таблицу.

А) Дополните столбцы таблицы («Локализация возбудителя», «Механизм передачи инфекции», «Пути передачи инфекции») соответствующей информацией.

Б) Внесите номер инфекционного заболевания в зависимости от локализации возбудителя из предложенного ниже перечня в столбец таблицы «Номер инфекционного заболевания».

Инфекционные заболевания:

1. Грипп
2. Дизентерия
3. Микоз поверхностный
4. Клещевой энцефалит

Всероссийская олимпиада школьников по ОБЖ
Муниципальный этап. 10–11 классы

Локализация возбудителя	Механизм передачи инфекции	Пути передачи инфекции	Номер инфекционного заболевания
1. Желудочно-кишечный тракт	Фекально-оральный (желудочно-кишечный)	1. 2. 3.	
2. Дыхательная система		1. Капельный 2. Пылевой	
3.	Трансмиссивный	Укусы кровососущих насекомых	
4. Кожа и слизистые оболочки		1. Прямой 2. Непрямой	

Ответ:

Локализация возбудителя	Механизм передачи инфекции	Пути передачи инфекции	Номер инфекционного заболевания
1. Желудочно-кишечный тракт	Фекально-оральный (желудочно-кишечный)	<u>1. Пищевой</u> <u>2. Водный</u> <u>3. Контактно-бытовой</u>	<u>2</u>
2. Дыхательная система	<u>Воздушно-капельный</u> (аэрогенный)	1. Капельный 2. Пылевой	<u>1</u>
<u>3. Кровь</u>	Трансмиссивный	Укусы кровососущих насекомых	<u>4</u>
4. Кожа и слизистые оболочки	<u>Контактный</u>	1. Прямой 2. Непрямой	<u>3</u>

Оценка задания

Максимальная оценка за правильно выполненное задание – **10 баллов**, при этом:

- за каждый правильный ответ начисляется по **1 баллу**;
- при отсутствии правильных ответов баллы не начисляются.

Максимальная оценка за работу – 100 баллов.