

Всероссийская олимпиада школьников по ОБЖ
Муниципальный этап. 7–8 классы

Таблица ответов на тестовые задания теоретического тура

Номер теста	Верный ответ	Номер теста	Верный ответ
1	Г	11	О
2	В	12	О
3	Г	13	В
4	В	14	О
5	В О	15	О
6	Г	16	О
7	О	17	О
8	В	18	Г
9	Г	19	О
10	О	20	В

Максимум за тестовые задания 60 баллов.

Всероссийская олимпиада школьников по ОБЖ
Муниципальный этап. 7-8 классы

Теоретические задания

Задание 1






Перечислите, состоящие из десяти пунктов, рекомендации полиции, которые помогут уберечься от воров-карманников.

- 1) Следить за своими вещами.
- 2) Закрывать замком.
- 3) Не оставлять свои вещи где попало.
- 4) Не давать вещи незнакомым людям.
- 5) Носить ценные вещи в добротный кошелечек и во внутренний карман куртки, сумки и т.д.
- 6) Не оставлять ценные вещи без присмотра.
- 7) Смотреть за вещами когда идешь с ними погулять.
- 8) Держать свои вещи крепко чтобы никто не мог выхватить.
- 9) Не гулять в темное время суток там где мало людей и мало освещения.
- 10) Не носить с собой ценные вещи, а если и носить следить за собой.

Всероссийская олимпиада школьников по ОБЖ
Муниципальный этап. 7–8 классы

Задание 2

Укажите знаком «+» в крайнем левом или крайнем правом столбце, какие из ситуаций, изображённых на картинках, относятся к опасным, а какие к экстремальным?

Опасная ситуация	Изображение	Экстремальная ситуация
		+
+		
		+
+		
		+

Задание 3

Перечислите, состоящие из пяти пунктов, предупредительные инженерные мероприятия по защите от наводнений во время весеннего половодья.

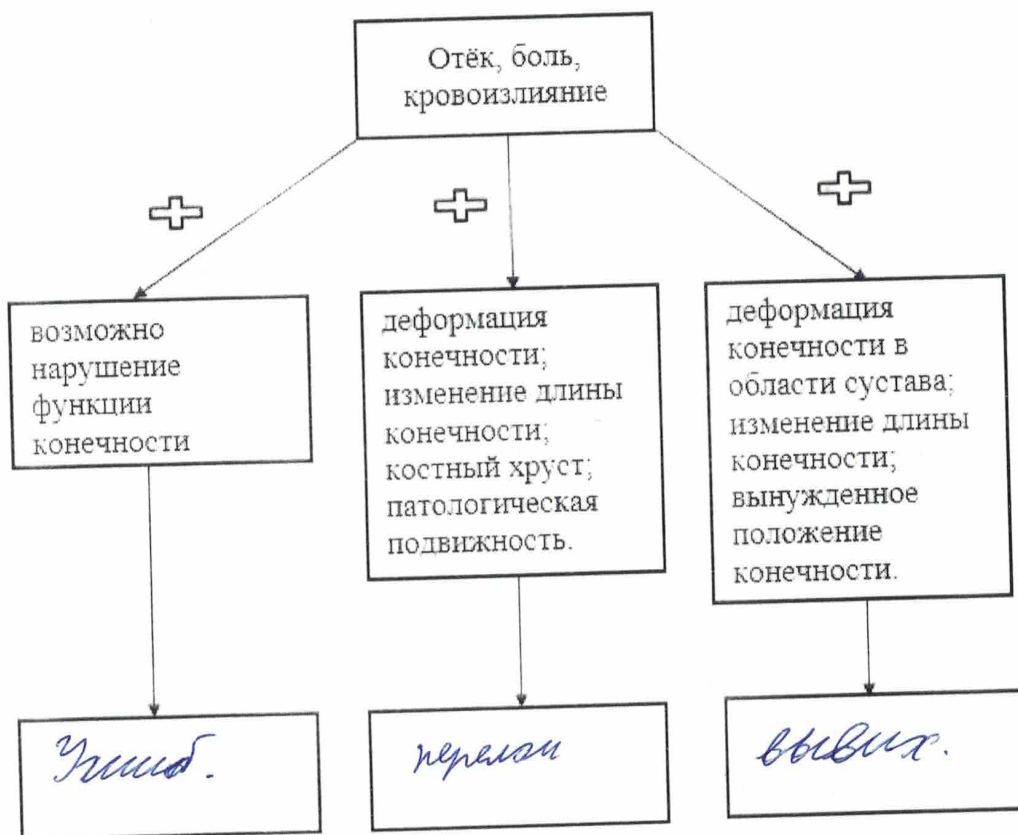
- 1) Проводить мероприятия в местах где есть замаскированные выходы
- 2) Проводить мероприятия в местах которые находятся вдали от водных источников
- 3) Иметь для всех участников мероприятия необходимые инструменты и медикаменты.
- 4) Иметь с собой запас еды и воды на несколько дней или недель
- 5) Если случилась наводнение нужно быстрее эвакуироваться на крышу здания чем выше от воды тем лучше

Всероссийская олимпиада школьников по ОБЖ
Муниципальный этап. 7-8 классы

Задание 4

Травмы конечностей встречаются достаточно часто. Общими их признаками являются отёк, боль, кровоизлияние.

А. Дополните схему. Укажите, какие повреждения можно заподозрить у пострадавшего, если к указанным признакам присоединяется ряд других признаков.



Б. При травмах конечностей применяется иммобилизация.

Укажите, какое количество суставов необходимо зафиксировать при переломе (вывихе)

1. предплечья и голени
2. плеча и бедра.

1) нужно зафиксировать руку и голень, руку 3 сустава, а ногу 2 сустава
2) нужно зафиксировать плечевой и локтевой сустав, бедро нужно зафиксировать 3 сустав

Максимум за работу – 100 баллов.

Тестовые задания

*Определите один правильный ответ.
За правильный ответ начисляется 2 балла.*

1. **Одной из причин гибели людей при пожаре является отравление:**
 - а) двуокисью углерода
 - б) оксидом серы
 - в) альдегидами
 - г) оксидом углерода

2. **На компасе Адриана азимут на восток равен**
 - а) 90°
 - б) 360°
 - в) 180°
 - г) 270°

3. **К каким загрязнителям относятся ксенобиотики?**
 - а) химическим
 - б) физическим
 - в) биологическим
 - г) информационным

4. **Как расшифровывается аббревиатура «РСЧС»?**
 - а) Государственная система предупреждения и ликвидации чрезвычайных ситуаций
 - б) Единая государственная система по делам гражданской обороны и ликвидации чрезвычайных ситуаций
 - в) Единая государственная система предупреждения и ликвидации чрезвычайных ситуаций
 - г) Российская система предупреждения и ликвидации чрезвычайных ситуаций

5. **Дегазация применяется для удаления**
 - а) радиоактивных веществ
 - б) опасных и токсических химических веществ
 - в) переносчиков инфекционных болезней
 - г) ядовитых и заболевших растений


6. Рухнуло ветхое здание, из которого выселены все жильцы. Такая ситуация называется
- а) чрезвычайной
 - б) экстремальной
 - в) опасной
 - г) аварийной
7. Какому уровню террористической опасности соответствует «жёлтый» цвет?
- а) постоянному
 - б) повышенному
 - в) высокому
 - г) критическому
8. Какие пищевые вещества составляют основную часть суточного рациона человека?
- а) белки
 - б) жиры
 - в) углеводы
 - г) витамины
9. Какое мероприятие выполняется после проведения простых медицинских манипуляций, соответствующих состоянию пострадавшего?
- а) контроль за состоянием пострадавшего
 - б) создание безопасных условий для оказания первой помощи
 - в) придание пострадавшему оптимального положения тела
 - г) передача пострадавшего бригаде скорой медицинской помощи
10. Сколько и какие суставы нужно иммобилизовать при переломе плеча?
- а) один (локтевой сустав)
 - б) два (плечевой и локтевой суставы)
 - в) два (локтевой и лучезапястный суставы)
 - г) три (плечевой, локтевой и лучезапястный суставы)

Определите все правильные ответы.

За каждый правильный ответ начисляется 2 балла.

11. **Что из перечисленного входит в носимый аварийный запас (НАЗ) с предметами первой необходимости?**
- а) спички
 - б) котелок
 - в) туалетные принадлежности
 - г) обезвоженная сухая пища и витамины
 - д) слегка обожжённые кусочки ваты
12. **Высокий уровень шума способен вызвать у человека**
- а) повышенное давление
 - б) головную боль
 - в) снижение иммунитета
 - г) боль в суставах
 - д) ухудшение координации
13. **Какое смысловое значение несёт синий цвет, используемый в знаках безопасности?**
- а) непосредственная опасность
 - б) аварийная или опасная ситуация
 - в) возможная опасность
 - г) предписание во избежание опасности
 - д) указание
14. **Укажите минимальную и максимальную скорость ветра при буре по шкале Бофорта**
- а) от 62 км/ч
 - б) от 60 км/ч
 - в) до 101 км/ч
 - г) до 120 км/ч
 - д) до 110 км/ч
15. **К опасным геологическим явлениям относятся**
- а) магнитные бури
 - б) гололёд
 - в) землетрясения
 - г) оползни
 - д) обвалы

16. При местной чрезвычайной ситуации
- а) количество пострадавших человек 11–50
 - б) прямой материальный ущерб до 100 минимальных зарплат
 - в) прямой материальный ущерб 101–300 минимальных зарплат
 - г) прямой материальный ущерб до 301–500 минимальных зарплат
 - д) количество пострадавших человек 51–500
17. К основным видам террористической деятельности относятся
- а) криминальный терроризм
 - б) классовый терроризм
 - в) расовый терроризм
 - г) государственный терроризм
 - д) религиозный терроризм
18. Какие нарушения в организме человека могут возникнуть при недостаточном поступлении йода с пищей?
- а) ухудшение памяти
 - б) снижение массы тела
 - в) увеличение массы тела
 - г) гиперактивность, суетливость
 - д) повышение температуры тела
19. При каких травмах и (или) состояниях пострадавшему придают оптимальное положение тела, изображённое на рисунке?
- а) острая боль за грудиной
 - б) большая кровопотеря
 - в) отёк лёгких
 - г) травма живота
 - д) травма нижних конечностей



20. Какие признаки характерны для инфаркта миокарда?

- а) периодические покалывания в области сердца
- б) постоянная боль за грудиной с распространением в левую половину грудной клетки
- в) боль в области сердца при глубоком вдохе
- г) боль под левой лопаткой при движении
- д) бледность лица, холодный пот






Таблица ответов на тестовые задания теоретического тура

Номер теста	Верный ответ	Номер теста	Верный ответ
1	г	11	г, а
2	а	12	а, б, г
3	в	13	г
4	б, г	14	б, в
5	в	15	б, в, г
6	г	16	б
7	б	17	б, в, г
8	г	18	г
9	а	19	б
10	г	20	а, б, г

Максимум за тестовые задания 60 баллов.

Задание 2

Впишите в таблицу название вида костра.

	долог ^{ик}
	
	
	
	шант

Задание 3

Опишите, состоящие из десяти пунктов, рекомендуемые правила поведения, если Вы оказались в заложниках.

- 1) Не паникуйте и старайтесь не привлекать лишнего внимания.
- 2) Если захватили ~~вас~~ ^{вас} в заложники, то постарайтесь успокоиться.
- 3) Попытайтесь найти средства связи.
- 4) Если получили какой-то извещения ^{не} по номеру (102) и опишите ситуацию.
- 5) Постарайтесь узнать примерный адрес и передать по властям что вы вас держат в заложниках.
- 6) Если вы и ваши пленники, то постарайтесь хоть что-то привлекать внимание людей вокруг.
- 7) Если вы ^{ты} оказались в лесу или куда-то за городом и вы не знаете конкретно в какой именно ситуации, то постарайтесь узнать сколько людей вас держат.
- 8) При первой возможности ^{или} постарайтесь бежать и бежать не по дороге или тропинкам, а в местах где вы не сможете попасть на транспорте, а также при возможности привлеките внимание ^{или т.д.} окружающих.
- 9) При высокой уверенности, что вы в безлюдном месте лучше бежать к дороге или к дереву или к дереву и первое время к дороге лучше не идти.
- 10) Ну и конечно нужно постараться выжить и передать в ваше ситуации, а если ^{только} вы советам вам кабриолта ^{кабриолта}.

Задание 4

Прочитайте текст.

А. Впишите пропущенные слова и числа.

Вы идёте по улице с приятелем и видите лежащего человека без признаков сознания (признаки биологической смерти отсутствуют).

1) проверить наличие признаков жизни, к которым относятся:

- а) наличие (отсутствие) Пульса;
- б) наличие (отсутствие) Реакции на какие либо действия Кожной ^{реакции};
- в) наличие (отсутствие) Реакции на внешние раздражители;

2) при отсутствии признаков жизни приступить к проведению сердечно-лёгочной реанимации, т. е. выполнить: искусственное дыхание или массаж сердца

3) искусственное дыхание (___ вдоха), предварительно обеспечив проходимость дыхательных путей;

4) при появлении признаков жизни после проведения сердечно-лёгочной реанимации или при первоначальном их наличии у пострадавшего перевести пострадавшего в ^{эту} лежачее зафиксированное ~~на спине~~ положение;

5) сделать сильные ___ давлений на грудину пострадавшего;

6) оценить обстановку, обеспечить безопасные условия для оказания первой помощи; Оградить пострадавшего от внешнего давления и помешательств от окружающих людей

7) контролировать признаки жизни до приезда скорой медицинской помощи;

8) попросить приятеля вызвать скорую медицинскую помощь.

Б. Расположите действия по оказанию первой помощи в порядке их выполнения. Запишите цифры, которыми обозначены действия, в правильной последовательности.

Ответ: ~~5, 2, 3, 4, 7, 1, 8, 6~~ 1, 8, 6, 2, 3, 4, 7

Максимум за работу – 100 баллов

**ВСЕРОССИЙСКАЯ ОЛИМПИАДА ШКОЛЬНИКОВ
ПО ОБЖ. МУНИЦИПАЛЬНЫЙ ЭТАП
9 КЛАСС**

Уважаемый участник!

При выполнении заданий Вам предстоит выполнить определённую работу, которую лучше организовать следующим образом:

- внимательно прочитайте задание;
- если Вы отвечаете на теоретический вопрос или решаете ситуационную задачу, обдумайте и сформулируйте конкретный ответ (ответ должен быть кратким, и его содержание следует вписать в отведённое поле; пишите чётко и разборчиво);
- при ответе на тестовые задания определите верный ответ и обведите кружком букву (буквы), соответствующую(-ие) выбранному Вами ответу.

За каждый правильный ответ Вы можете получить определённое членами жюри количество баллов, не выше указанной максимальной оценки.

Сумма набранных баллов за все решённые вопросы в двух форматах – итог Вашей работы. Максимальное количество баллов – 100.

Задания считаются выполненными, если Вы вовремя сдали их членам жюри.

Желаем успеха!

Всероссийская олимпиада школьников по ОБЖ
Муниципальный этап. 9 класс

Таблица ответов на тестовые задания теоретического тура

Номер теста	Верный ответ	Номер теста	Верный ответ
1	а	11	а
2	б	12	б, в, г
3	б	13	з
4	з	14	б
5	б	15	б, в, г
6	з	16	а, б
7	б	17	б, г
8	б	18	з
9	а	19	а
10	б	20	б, г

Максимум за тестовые задания 60 баллов.

Тестовые задания

Определите один правильный ответ.
За правильный ответ начисляется 2 балла.

- 1. Одной из причин гибели людей при пожаре является отравление:**
 - а) двуокисью углерода
 - б) оксидом серы
 - в) альдегидами
 - г) оксидом углерода
- 2. На компасе Адрианова азимут на восток равен**
 - а) 90°
 - б) 360°
 - в) 180°
 - г) 270°
- 3. К каким загрязнителям относятся ксенобиотики?**
 - а) химическим
 - б) физическим
 - в) биологическим
 - г) информационным
- 4. Как расшифровывается аббревиатура «РСЧС»?**
 - а) Государственная система предупреждения и ликвидации чрезвычайных ситуаций
 - б) Единая государственная система по делам гражданской обороны и ликвидации чрезвычайных ситуаций
 - в) Единая государственная система предупреждения и ликвидации чрезвычайных ситуаций
 - г) Российская система предупреждения и ликвидации чрезвычайных ситуаций
- 5. Дегазация применяется для удаления**
 - а) радиоактивных веществ
 - б) опасных и токсических химических веществ
 - в) переносчиков инфекционных болезней
 - г) ядовитых и заболевших растений

6. Рухнуло ветхое здание, из которого выселены все жильцы. Такая ситуация называется
- а) чрезвычайной
 - б) экстремальной
 - в) опасной
 - г) аварийной
7. Какому уровню террористической опасности соответствует «жёлтый» цвет?
- а) постоянному
 - б) повышенному
 - в) высокому
 - г) критическому
8. Какие пищевые вещества составляют основную часть суточного рациона человека?
- а) белки
 - б) жиры
 - в) углеводы
 - г) витамины
9. Какое мероприятие выполняется после проведения простых медицинских манипуляций, соответствующих состоянию пострадавшего?
- а) контроль за состоянием пострадавшего
 - б) создание безопасных условий для оказания первой помощи
 - в) придание пострадавшему оптимального положения тела
 - г) передача пострадавшего бригаде скорой медицинской помощи
10. Сколько и какие суставы нужно иммобилизовать при переломе плеча?
- а) один (локтевой сустав)
 - б) два (плечевой и локтевой суставы)
 - в) два (локтевой и лучезапястный суставы)
 - г) три (плечевой, локтевой и лучезапястный суставы)

Определите все правильные ответы.
За каждый правильный ответ начисляется 2 балла.

11. **Что из перечисленного входит в носимый аварийный запас (НАЗ) с предметами первой необходимости?**
- а) спички
 - б) котелок
 - в) туалетные принадлежности
 - г) обезвоженная сухая пища и витамины
 - д) слегка обожжённые кусочки ваты
12. **Высокий уровень шума способен вызвать у человека**
- а) повышенное давление
 - б) головную боль
 - в) снижение иммунитета
 - г) боль в суставах
 - д) ухудшение координации
13. **Какое смысловое значение несёт синий цвет, используемый в знаках безопасности?**
- а) непосредственная опасность
 - б) аварийная или опасная ситуация
 - в) возможная опасность
 - г) предписание во избежание опасности
 - д) указание
14. **Укажите минимальную и максимальную скорость ветра при буре по шкале Бофорта**
- а) от 62 км/ч
 - б) от 60 км/ч
 - в) до 101 км/ч
 - г) до 120 км/ч
 - д) до 110 км/ч
15. **К опасным геологическим явлениям относятся**
- а) магнитные бури
 - б) гололёд
 - в) землетрясения
 - г) оползни
 - д) обвалы

16. При местной чрезвычайной ситуации

- а) количество пострадавших человек 11–50
- б) прямой материальный ущерб до 100 минимальных зарплат
- в) прямой материальный ущерб 101–300 минимальных зарплат
- г) прямой материальный ущерб до 301–500 минимальных зарплат
- д) количество пострадавших человек 51–500

17. К основным видам террористической деятельности относятся

- а) криминальный терроризм
- б) классовый терроризм
- в) расовый терроризм
- г) государственный терроризм
- д) религиозный терроризм

18. Какие нарушения в организме человека могут возникнуть при недостаточном поступлении йода с пищей?

- а) ухудшение памяти
- б) снижение массы тела
- в) увеличение массы тела
- г) гиперактивность, суетливость
- д) повышение температуры тела

19. При каких травмах и (или) состояниях пострадавшему придают оптимальное положение тела, изображённое на рисунке?

- а) острая боль за грудиной
- б) большая кровопотеря
- в) отёк лёгких
- г) травма живота
- д) травма нижних конечностей



20. Какие признаки характерны для инфаркта миокарда?

- а) периодические покалывания в области сердца
- б) постоянная боль за грудиной с распространением в левую половину грудной клетки
- в) боль в области сердца при глубоком вдохе
- г) боль под левой лопаткой при движении
- д) бледность лица, холодный пот

Теоретические задания


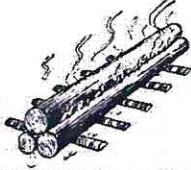
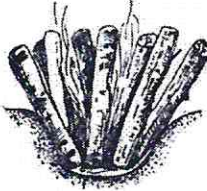


Задание 1

Перечислите, состоящие из пяти пунктов, рекомендации безопасного поведения при неблагоприятной экологической обстановке.

- 1) Избегать неблагоприятных внешних факторов (уходить на работу через закрытую дверь, использовать маски, проветривать)
- 2) Избегать не использовать разлившуюся воду (использовать таблетки для обеззараживания воды)
- 3) Не использовать разлившиеся продукты (мыть их под горячей водой, лучше варить овощи)
- 4) Нужно также протирать пол влажной тряпкой (если рядом есть какой-либо завод)
- 5) (сделать дома больше растений (они будут чистить воздух вокруг себя))

Задание 2

Впишите в таблицу название вида костра.

	"Колода"
	"Кодва"
	"Ожогкигид"
	"Звездный"
	"Шалаш"

Задание 3

Опишите, состоящие из десяти пунктов, рекомендуемые правила поведения, если Вы оказались в заложниках.

- 1) Никогда не просить помощи или же террористам
- 2) Держаться дальше от двери или окна
- 3) Если увидите соседнюю полицию, то не бежать к нему, т.к. террорист может открыть по вам огонь
- 4) Не совершать любые резкие движения
- 5) Минимизировать лишние разговоры
- 6) Если вас ранит, то нужно стараться не двигаться
- 7) Не допускать применения оружия против вас
- 8) Закрыть голову руками и лечь на пол головой вниз.
- 9) Не вешаться на уловки террористов.
- 10) Быть себе спокойно.

Задание 4

Прочитайте текст.

А. Впишите пропущенные слова и числа.

Вы идёте по улице с другом и видите лежащего человека без признаков сознания (признаки биологической смерти отсутствуют).

1) проверить наличие признаков жизни, к которым относятся:

а) наличие (отсутствие) пульса _____;

б) наличие (отсутствие) дыхания _____;

в) наличие (отсутствие) сердцебиения _____;

2) при отсутствии признаков жизни приступить к проведению сердечно-лёгочной реанимации, т. е. выполнить;

3) искусственное дыхание (5 вдоха), предварительно обеспечив проходимость дыхательных путей;

4) при появлении признаков жизни после проведения сердечно-лёгочной реанимации или при первоначальном их наличии у пострадавшего перевести пострадавшего на спину положение;

5) сделать 10 давлений на грудину пострадавшего;

6) оценить обстановку, обеспечить безопасные условия для оказания первой помощи;

7) контролировать признаки жизни до приезда скорой медицинской помощи;

8) попросить друга вызвать скорую медицинскую помощь.

Б. Расположите действия по оказанию первой помощи в порядке их выполнения. Запишите цифры, которыми обозначены действия, в правильной последовательности.

Ответ: 1, 4, 2, 5, 3, 6, 8, 7.

Максимум за работу – 100 баллов

Всероссийская олимпиада школьников по ОБЖ
Муниципальный этап. 10–11 классы







Таблица ответов на тестовые задания теоретического тура

Номер теста	Верный ответ	Номер теста	Верный ответ
1	б	11	аб
2	б	12	бг
3	г	13	бг
4	ба	14	бг
5	б	15	аг
6	б	16	аг
7	б	17	абгг
8	а	18	бг
9	б	19	абг
10	г	20	гг

Максимум за тестовые задания 60 баллов.

Задание 2

Впишите в таблицу смысловое значение знаков безопасности.

Запрещающий знак	Смысловое значение запрещающего знака
	<i>запрещено загромождать проезд</i>
	
	<i>мед. кабинет</i>
	
	
	<i>оследедство снежного участка дорои или обильна снега</i>

Всероссийская олимпиада школьников по ОБЖ
Муниципальный этап. 10–11 классы

	<p>запрещено питьевую воду</p>
	<p>работа в защитных наушниках</p>
	
	<p>использовать воду для пожарных машин</p>

Задание 3

Укажите войсковые воинские звания высших офицеров Вооружённых Сил Российской Федерации и расположите их в порядке возрастания старшинства.

Младший лейтенант, Старший лейтенант,
Капитан, Майор, Подполковник, Полковник,

Задание 4

Инфекционные болезни – это заболевания, вызываемые болезнетворными микроорганизмами, которые передаются от заражённого человека или животного к здоровому. Способ перемещения возбудителя инфекционного заболевания от источника инфекции в восприимчивый организм человека или животного называется механизмом передачи инфекции. Механизм передачи может быть реализован различными путями.

Заполните таблицу.

А) Дополните столбцы таблицы («Локализация возбудителя», «Механизм передачи инфекции», «Пути передачи инфекции») соответствующей информацией.

Б) Внесите номер инфекционного заболевания в зависимости от локализации возбудителя из предложенного ниже перечня в столбец таблицы «Номер инфекционного заболевания».

Инфекционные заболевания:

1. Грипп
2. Дизентерия
3. Микоз поверхностный
4. Клещевой энцефалит

Локализация возбудителя	Механизм передачи инфекции	Пути передачи инфекции	Номер инфекционного заболевания
1. Желудочно-кишечный тракт	Фекально-оральный (желудочно-кишечный)	1. пищевым 2. бытовой контакт	2
2. Дыхательная система		1. Капельный Пылевой	1
	Трансмиссивный	Укусы кровососущих насекомых	4
4. Кожа и слизистые оболочки		1. Прямой 2. Непрямой	3

Максимальная оценка за работу – 100 баллов.

Таблица ответов на тестовые задания теоретического тура

Номер теста	Верный ответ	Номер теста	Верный ответ
1	В	11	АБ
2	Б	12	БГ
3	В	13	АВ
4	А	14	АВГ
5	Б	15	АГ
6	Б	16	АГ
7	Б	17	АБВ
8	В	18	БГ
9	Г	19	АВГ
10	Г	20	ГГ

Максимум за тестовые задания 60 баллов.

Теоретические задания







Задание 1


Перечислите, состоящие из десяти пунктов, рекомендации безопасного поведения при общении с незнакомыми людьми.

1. Никогда не вступай в разговор с незнакомым человеком на улице
2. Не соглашайтесь никогда не идти с незнакомым человеком.
3. Не садись в машину к незнакомому человеку, как бы он тебя не уговаривал и то бы не предлагал
4. Будьте осторожны и внимательны, не вводите незнакомца на агрессивное поведение
5. Никогда не верьте незнакомцу
6. Если незнакомцу обещает тебе что-то купить или подарить, скажи, что тебе ничего не нужно
7. Если незнакомцу кажется, взял тебя за руку или потакает, убегите, вырвайтесь и убегайте, громко кричи и зови на помощь, бегайтесь, царапайтесь, кусайтесь.
8. Нельзя незнакомому человеку сообщать важную о себе информацию: адрес, имя, родные, номер телефона
9. Бить спокойно и осторожно, то бы при любой опасности бить готовым.
10. Старайся как можно быстрее закончить разговор с незнакомцем.

Задание 2

Впишите в таблицу смысловое значение знаков безопасности.

Запрещающий знак	Смысловое значение запрещающего знака
	Запрещается загромождать проход и (или) складировать
	Опасно. Электрические и коррозионные вещества
	Аптека Медицинский кабинет
	Автопозвожиг. Производятся погрузочно-разгрузочные работы
	Запрещается людей, шмелей и металлические инструменты
	Гололедная опасность дороги. ⊗ Запрещает быструю езду и резкие старты

	Запрещается использовать в качестве питьевой воде
	Работать в защитных очках
	Запрещается разбрызгивать воду
	Место нахождения пожарного водоема или трубы для пожарной машины

Задание 3

Укажите войсковые воинские звания высших офицеров Вооружённых Сил Российской Федерации и расположите их в порядке возрастания старшинства.

Рядовой, ефрейтор, младший сержант, сержант, старший сержант, старшина, прапорщик, старший прапорщик, младший лейтенант, лейтенант, старший лейтенант, капитан, майор, подполковник, полковник, генерал-майор, генерал-лейтенант, генерал-полковник, генерал-армии, маршал

Задание 4

Инфекционные болезни – это заболевания, вызываемые болезнетворными микроорганизмами, которые передаются от заражённого человека или животного к здоровому. Способ перемещения возбудителя инфекционного заболевания от источника инфекции в восприимчивый организм человека или животного называется механизмом передачи инфекции. Механизм передачи может быть реализован различными путями.

Заполните таблицу.

А) Дополните столбцы таблицы («Локализация возбудителя», «Механизм передачи инфекции», «Пути передачи инфекции») соответствующей информацией.

Б) Внесите номер инфекционного заболевания в зависимости от локализации возбудителя из предложенного ниже перечня в столбец таблицы «Номер инфекционного заболевания».

Инфекционные заболевания:

1. Грипп
2. Дизентерия
3. Микоз поверхностный
4. Клещевой энцефалит

Локализация возбудителя	Механизм передачи инфекции	Пути передачи инфекции	Номер инфекционного заболевания
1. Желудочно-кишечный тракт	Фекально-оральный (желудочно-кишечный)	Алиментарный, водный, контактный, воздушно-капельный	2
2. Дыхательная система	Аэрозольный (Аэрогенный)	1. Капельный Пылевой	1
Кровь	Трансмиссивный	Укусы кровососущих насекомых	4
4. Кожа и слизистые оболочки	Контактный	1. Прямой 2. Непрямой	3

Максимальная оценка за работу – 100 баллов.