

Таблица ответов на тестовые задания теоретического тура

Номер теста	Верный ответ	Номер теста	Верный ответ
1	A	11	Д
2	A	12	A
3	A	13	B
4	B	14	A
5	B	15	A
6	Г	16	Д
7	A	17	B, B
8	B	18	B
9	Г	19	A, B, B
10	A	20	B

Максимум за тестовые задания 60 баллов.

Теоретические задания






Задание 1

Перечислите, состоящие из десяти пунктов, рекомендации полиции, которые помогут уберечься от воров-карманников.

1. держите все ценные вещи во внутренней кармане.
2. ложите вещи глубоко в карман
3. Бойте толпы, не показывайте количество наличных людей.
4. гуляйте карманную породу собак (например михгаха)
5. сумку всегда закрывайте на замок
6. не носите в задний карман телефон, деньги.
7. не ходите сильно в людных местах.
8. не носите сильно много вещей.
9. не подходите к подозрительным лицам
10. при входе в магазин - спрячьте сумку в ящик хранения.

Задание 2

Укажите знаком «+» в крайнем левом или крайнем правом столбце, какие из ситуаций, изображённых на картинках, относятся к опасным, а какие к экстремальным?

Опасная ситуация	Изображение	Экстремальная ситуация
+		
+		
		+
+		
		+

Задание 3

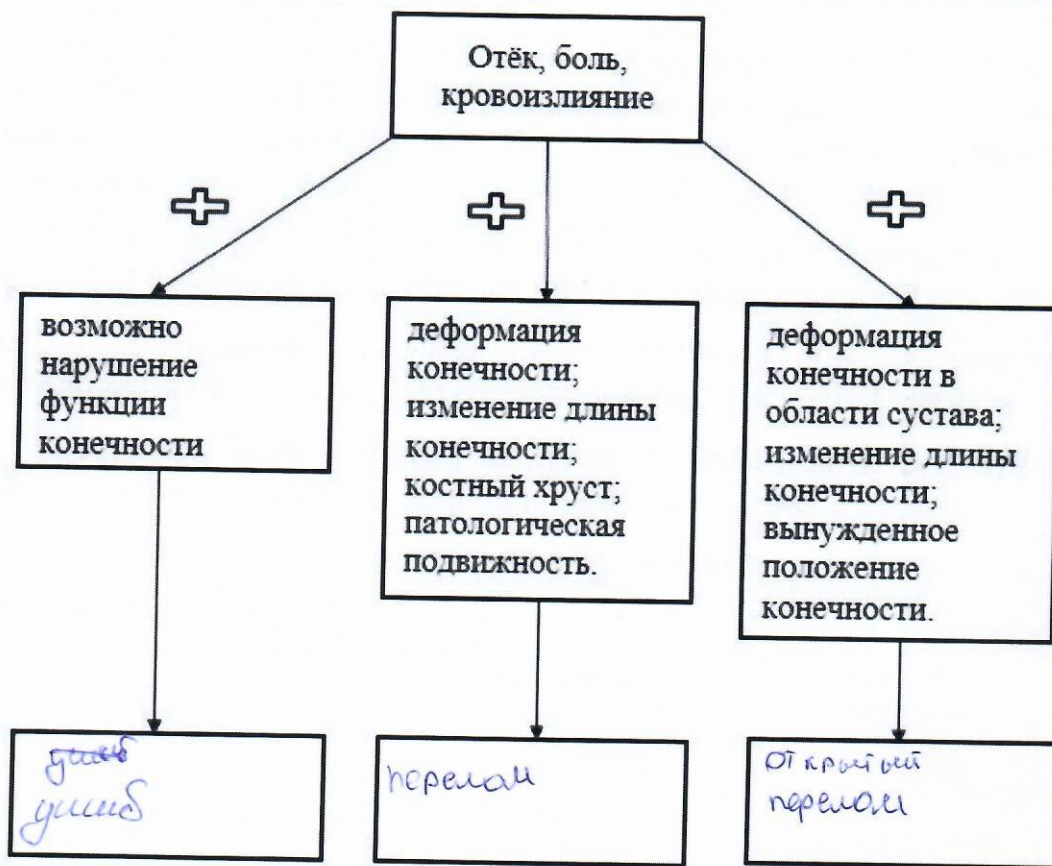
Перечислите, состоящие из пяти пунктов, предупредительные инженерные мероприятия по защите от наводнений во время весеннего половодья.

1. Взорвать лёд зимой и весной не будет наводнения.
2. расчистить берега на 1-2 метра шириной.
3. поменять русло реки
4. поставить дамбы
5. осушить реку

Задание 4

Травмы конечностей встречаются достаточно часто. Общими их признаками являются отёк, боль, кровоизлияние.

А. Дополните схему. Укажите, какие повреждения можно заподозрить у пострадавшего, если к указанным признакам присоединяется ряд других признаков.



Б. При травмах конечностей применяется иммобилизация.

Укажите, какое количество суставов необходимо зафиксировать при переломе (вывихе)

1. предплечья и голени
2. плеча и бедра.

при вывихе суставов необходимо зафиксировать две конечности сустава

Максимум за работу – 100 баллов.

Всероссийская олимпиада школьников по ОБЖ
Муниципальный этап. 7–8 классы

ОБЖ-8-8

Таблица ответов на тестовые задания теоретического тура

Номер теста	Верный ответ	Номер теста	Верный ответ
1	г	11	а
2	б	12	г
3	а	13	б
4	в	14	а
5		15	б
6	г	16	а, б
7	а	17	а, б
8	б	18	г
9	г	19	б, в
10	а	20	б, г, д

Максимум за тестовые задания 60 баллов.

ОБЖ-8-8
Теоретические задания

Задание 1






Перечислите, состоящие из десяти пунктов, рекомендации полиции, которые помогут уберечься от воров-карманников.

1. Не носить ценные вещи в карманы (длинно, коротко, юбка)
2. Иметь себя защитить.
3. Не ходить через карманы тайные карманы в одиночку (особенно ночью).
4. Аккуратно обращаться с ценными вещами (телефон, деньги, украшения и т.д.)
5. Деньги лучше держать ^{на} в банковской карте если крупная сумма денег.

Задание 2

Укажите знаком «+» в крайнем левом или крайнем правом столбце, какие из ситуаций, изображённых на картинках, относятся к опасным, а какие к экстремальным?

ОБЖ - 8-8

Опасная ситуация	Изображение	Экстремальная ситуация
+		
+		
		+
+		
		+

ОБЖ - 8-8

Всероссийская олимпиада школьников по ОБЖ
Муниципальный этап. 7-8 классы

Задание 3

Перечислите, состоящие из пяти пунктов, предупредительные инженерные мероприятия по защите от наводнений во время весеннего половодья.

- 1) Строят плотины
- 2) кидают мешки с песком
- 3) Убирают снег который еще не успел растаять.
- 4) Делают насыпи из земли
- 5)

Таблица ответов на тестовые задания теоретического тура

Номер теста	Верный ответ	Номер теста	Верный ответ
1	б	11	б
2	а	12	б
3	а	13	б
4	б	14	а
5	б	15	б
6	г	16	а
7	а	17	г
8	а	18	б, в
9	г	19	а
10	а	20	б, г

Максимум за тестовые задания 60 баллов.

Теоретические задания






Задание 1

Перечислите, состоящие из десяти пунктов, рекомендации полиции, которые помогут уберечься от воров-карманников.

- 1) Всегда застегивайте карманы в общедоступных местах
- 2) Держите подальше от подозрительных людей
- 3) Лучше всего положить деньги в боковой карман
- 4) Всегда проверяйте карманы в случае пропажи.
- 5) Лучше всего сидеть у стены и прижимать все в грудной карман.
- 6) В случае обнаружения пропажи звоните - 02
- 7) Не держите в кармане слишком много денег
- 8) Не держите в кармане дорогие вещи
- 9) Постарайтесь всегда держать руку в кармане
- 10) Будьте очень внимательны в общедоступных местах

Задание 2

Укажите знаком «+» в крайнем левом или крайнем правом столбце, какие из ситуаций, изображённых на картинках, относятся к опасным, а какие к экстремальным?

Опасная ситуация	Изображение	Экстремальная ситуация
+		
+		
		+
+		
		+

Задание 3

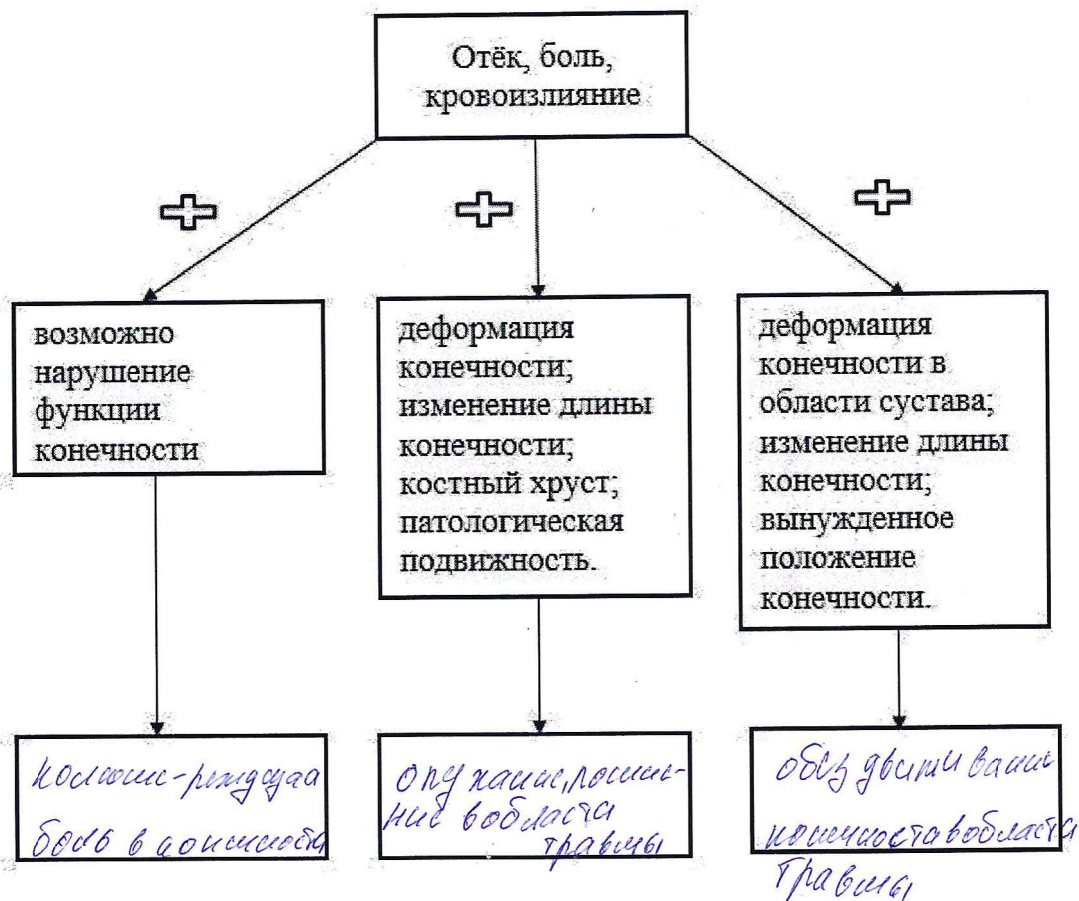
Перечислите, состоящие из пяти пунктов, предупредительные инженерные мероприятия по защите от наводнений во время весеннего половодья.

- 1) Регулируйте уровень воды с помощью гидротехнических сооружений
- 2) создайте искусственные пороги
- 3) плотины, дамбы
- 4) укрепление берегов
- 5) осушение болот.

Задание 4

Травмы конечностей встречаются достаточно часто. Общими их признаками являются отёк, боль, кровоизлияние.

А. Дополните схему. Укажите, какие повреждения можно заподозрить у пострадавшего, если к указанным признакам присоединяется ряд других признаков.



Б. При травмах конечностей применяется иммобилизация.

Укажите, какое количество суставов необходимо зафиксировать при переломе (вывихе)

1. предплечья и голени
2. плеча и бедра.

1. Для предплечья и голени зафиксировать плечо и бедро, для стопы колено и бедро

2. Для плеча и бедра зафиксировать плечо и бедро, для предплечья и голени

Максимум за работу – 100 баллов.

Таблица ответов на тестовые задания теоретического тура

Номер теста	Верный ответ	Номер теста	Верный ответ
1	П	11	АГ
2		12	АБ
3	В	13	ГД
4	П	14	БА
5	Б	15	ВД
6	Г	16	АБ
7	В	17	АГ
8	В	18	АА
9	П	19	
10	Г	20	ВД

Максимум за тестовые задания 60 баллов.

Теоретические задания






Задание 1

Перечислите, состоящие из пяти пунктов, рекомендации безопасного поведения при неблагоприятной экологической обстановке.

1. ~~Нельзя~~ носить маски на улице.
2. Мыться после каждого выхода на улицу.
3. Не выходить на улицу без саночной томо-
ходности.

Задание 2

Впишите в таблицу название вида костра.

	Костер из дров
	
	
	
	

Задание 3

Опишите, состоящие из десяти пунктов, рекомендуемые правила поведения, если Вы оказались в заложниках.

1. Выполнять всё что вам велют
2. Сохранять спокойствие
- 3.

Задание 4

Прочитайте текст.

А. Впишите пропущенные слова и числа.

Вы идёте по улице с другом и видите лежащего человека без признаков сознания (признаки биологической смерти отсутствуют).

1) проверить наличие признаков жизни, к которым относятся:

- а) наличие (отсутствие) сердцебиения _____;
- б) наличие (отсутствие) дыхания _____;
- в) наличие (отсутствие) нормальной температуры _____;

2) при отсутствии признаков жизни приступить к проведению сердечно-лёгочной реанимации, т. е. выполнить;

3) искусственное дыхание (2 вдоха), предварительно обеспечив проходимость дыхательных путей;

4) при появлении признаков жизни после проведения сердечно-лёгочной реанимации или при первоначальном их наличии у пострадавшего перевести пострадавшего на бок _____ положение;

5) сделать неделительные надавливания на грудину пострадавшего;

6) оценить обстановку, обеспечить безопасные условия для оказания первой помощи;

7) контролировать признаки жизни до приезда скорой медицинской помощи;

8) попросить друга вызвать скорую медицинскую помощь.

Б. Расположите действия по оказанию первой помощи в порядке их выполнения. Запишите цифры, которыми обозначены действия, в правильной последовательности.

Ответ: 1253816253487.

Максимум за работу – 100 баллов

Таблица ответов на тестовые задания теоретического тура

Номер теста	Верный ответ	Номер теста	Верный ответ
1	Г	11	а, г, д.
2	а	12	Б
3	В	13	г
4	Г	14	а, г
5	а	15	В, Г, д
6	Г	16	В
7	В	17	а
8	а, в, г	18	г
9	а	19	а
10	д	20	В

Максимум за тестовые задания 60 баллов.

Теоретические задания

Задание 1

Перечислите, состоящие из пяти пунктов, рекомендации безопасного поведения при неблагоприятной экологической обстановке.

- 1 Стоять в стороне от машин, носить шапку
- 2 Избегать мест, где воздух наиболее загрязнен
- 3 Делать поверхностные и глубокие вдохи.
- 4 Вместо химических средств лучше применять седе
- 5 Иметь в доме много растений для фильтрации воздуха, поставить фильтр для очистки питьевой воды.

ОБЖ-9-4

Задание 2

Впишите в таблицу название вида костра.

	Колода
	Маяк
	Полукруглый
	Звездочки
	Мочал

Задание 3

Опишите, состоящие из десяти пунктов, рекомендуемые правила поведения, если Вы оказались в заложниках.

1. Не кричать, чтобы не вызвать стресса.
2. Не воевать и не впадать в панику.
3. Вести себя тихо и спокойно.
4. Следовать его указаниям.
5. Дать знак, что тебя удерживают силой.
6. Оценить обстановку, не совершать необдуманные действия.
7. Меньше двигаться, чтобы сохранить силы, при возможности попросить воды.
8. Успокоить себя, помнить, что основная цель выжить, не рисковать.
9. Подготовиться к возможным шарадам и физическим испытаниям.
10. Не вести себя вызывающе, чтобы преступники не применили физическую силу и оружие.

Задание 4

Прочитайте текст.

А. Впишите пропущенные слова и числа.

Вы идёте по улице с другом и видите лежащего человека без признаков сознания (признаки биологической смерти отсутствуют).

- 1) проверить наличие признаков жизни, к которым относятся:
 - а) наличие (отсутствие) Пульса;
 - б) наличие (отсутствие) Дыхание;
 - в) наличие (отсутствие) Сердцебиения;
- 2) при отсутствии признаков жизни приступить к проведению сердечно-лёгочной реанимации, т. е. выполнить;
- 3) искусственное дыхание (3 вдоха), предварительно обеспечив проходимость дыхательных путей;
- 4) при появлении признаков жизни после проведения сердечно-лёгочной реанимации или при первоначальном их наличии у пострадавшего перевести пострадавшего в сидячее положение (на спину) положение;
- 5) сделать 4 давлений на грудину пострадавшего;
- 6) оценить обстановку, обеспечить безопасные условия для оказания первой помощи;
- 7) контролировать признаки жизни до приезда скорой медицинской помощи;
- 8) попросить друга вызвать скорую медицинскую помощь.

Б. Расположите действия по оказанию первой помощи в порядке их выполнения. Запишите цифры, которыми обозначены действия, в правильной последовательности.

Ответ: 6, 1, 2, 3, 5, 1, 6, 1, 2, 3, 5, 4, 7.

Максимум за работу – 100 баллов

Тестовые задания

*Определите один правильный ответ.
За правильный ответ начисляется 2 балла.*

1. Вязка какого узла изображена на рисунке?

- а) дубового
- б) прямого
- в) фламандского
- г) бабьего



2. В условиях пожара понижение содержания этого газа в воздухе на 3 % ведёт к ухудшению двигательных функций организма.

- а) водород
- б) кислород
- в) азот
- г) гелий

3. Как расшифровывается аббревиатура «ОКСИОН»?

- а) Общественная комплексная система информирования и оповещения населения в местах массового пребывания людей
- б) Общероссийская кодовая система информирования и оповещения населения в местах массового пребывания людей
- в) Общероссийская комплексная система информирования и оповещения населения
- г) Общероссийская комплексная система информирования и оповещения населения в местах массового пребывания людей

4. Дезактивация применяется для удаления

- а) радиоактивных веществ
- б) опасных и токсических химических веществ
- в) переносчиков инфекционных болезней
- г) ядовитых и заболевших растений

5. При наличии информации о совершённом террористическом акте либо о совершении действий, создающих непосредственную угрозу террористического акта, устанавливается

- а) повышенный уровень опасности
- б) критический уровень опасности
- в) высокий уровень опасности
- г) постоянный уровень опасности

6. Какой из перечисленных нормативных правовых актов раскрывает национальные интересы и стратегические национальные приоритеты Российской Федерации?
- а) Военная доктрина Российской Федерации
 - б) Стратегия национальной безопасности Российской Федерации
 - в) Конституция Российской Федерации
 - г) Федеральный закон об обороне
7. Получение начальных знаний в области обороны предусматривается в ходе
- а) подготовки по военно-учётным специальностям солдат, матросов, сержантов и старшин по направлению военного комиссариата
 - б) обязательной подготовки гражданина к военной службе
 - в) обучения по дополнительным общеобразовательным программам, имеющим целью подготовку несовершеннолетних граждан к военной или иной государственной службе
 - г) обучения по программе военной подготовки в учебных военных центрах
8. Верны ли утверждения?
- А. В шеренге военнослужащие размещены один возле другого на одной линии.
- Б. Интервалы в шеренге может указывать командир.
- а) верно только А
 - б) верно только Б
 - в) верны оба утверждения
 - г) оба утверждения неверны
9. Какие лекарственные препараты позволяют получить пассивный иммунитет против определённого инфекционного заболевания?
- а) витамины
 - б) вакцины
 - в) адаптогены
 - г) сыворотки
10. На какой(-ие) сегмент(-ы) конечности должна накладываться тугая повязка после освобождения нижней конечности от сдавливания?
- а) на место повреждения кожи
 - б) на голень (до колена)
 - в) на голень (до колена) и стопу (до кончиков пальцев)
 - г) на стопу, голень, бедро (до паховой складки)

Определите все правильные ответы.

За каждый правильный ответ начисляется 2 балла.

11. **Какими транспортными средствами разрешено управление лицам, достигшим 18 лет?**
- а) автомобилем, разрешённая максимальная масса которого не превышает 3500 кг и число сидячих мест которого, помимо сиденья водителя, не превышает 8
 - б) автомобилем, разрешённая максимальная масса которого превышает 3500 кг
 - в) трамваем и троллейбусом
 - г) автомобилем, предназначенным для перевозки пассажиров и имеющим более 8 сидячих мест
 - д) автомобилем, сцепленным с прицепом, разрешённая максимальная масса которого превышает 750 кг
12. **К физическим загрязнителям окружающей среды относятся**
- а) ксенобиотики
 - б) шум
 - в) избыточная отрицательная информация
 - г) тепловое загрязнение
 - д) парабены
13. **Предвестником пурги являются**
- а) повышение температуры воздуха
 - б) понижение температуры воздуха
 - в) постепенное увеличение скорости ветра
 - г) резкое увеличение скорости ветра
 - д) понижение скорости ветра
14. **К опасным гидрологическим явлениям относятся**
- а) ранний ледостав
 - б) тайфуны
 - в) низкие уровни воды
 - г) цунами
 - д) смерчи

15. **В борьбе с терроризмом ВС РФ могут применяться для**
- а) пресечения международной террористической деятельности за пределами территории РФ
 - б) обеспечения полётов воздушных судов РФ
 - в) защиты граждан РФ за пределами территории РФ от вооружённого нападения на них
 - г) отражения вооружённого нападения на другое государство, обратившееся к РФ с соответствующей просьбой
 - д) обеспечения безопасности национального морского судоходства
16. **В целях обороны**
- а) устанавливается воинская обязанность граждан РФ
 - б) создаётся Федеральная служба войск национальной гвардии РФ
 - в) устанавливается воинская обязанность органов исполнительной власти РФ
 - г) создаются другие войска, воинские формирования и органы РФ
 - д) создаются Вооружённые Силы РФ
17. **Какие из перечисленных родов войск входят в состав Сухопутных войск Российской Федерации?**
- а) войска ПВО-ПРО
 - б) войска радиационной, химической и биологической защиты
 - в) войска связи
 - г) десантно-штурмовые бригады
 - д) мотопехотные войска
18. **Какие признаки, наблюдаемые у пострадавшего, характерны для острого нарушения мозгового кровообращения (инсульта)?**
- а) побледнение кожи лица
 - б) асимметрия лица
 - в) не может вспомнить своё имя (амнезия)
 - г) не может произнести своё имя (афазия)
 - д) боль за грудиной

19. **Какие функции выполняет витамин К в организме человека?**

- а) участвует в процессе свёртывания крови
- б) предупреждает образование тромбов
- в) участвует в росте и укреплении костной ткани
- г) повышает эластичность сосудов
- д) регулирует энергетический обмен в мышцах

20. **При каких травмах и (или) состояниях пострадавшему придают оптимальное положение тела, изображённое на рисунке?**



- а) травма живота
- б) травма головы
- в) травма грудной клетки
- г) травма позвоночника
- д) травма нижних конечностей

Всероссийская олимпиада школьников по ОБЖ
Муниципальный этап. 10-11 классы *РБМ-11-4*

Таблица ответов на тестовые задания теоретического тура

Номер теста	Верный ответ	Номер теста	Верный ответ
1	<i>а</i>	11	<i>а</i>
2	<i>б</i>	12	<i>г</i>
3	<i>б</i>	13	<i>г</i>
4	<i>б</i>	14	<i>б г</i>
5	<i>а</i>	15	<i>а б г</i>
6	<i>б</i>	16	<i>б</i>
7	<i>б</i>	17	<i>а б в г</i>
8	<i>а</i>	18	<i>а б г</i>
9	<i>б</i>	19	<i>б</i>
10	<i>г</i>	20	<i>г</i>

Максимум за тестовые задания 60 баллов.

Теоретические задания







Задание 1

Перечислите, состоящие из десяти пунктов, рекомендации безопасного поведения при общении с незнакомыми людьми.

- Держаться на расстоянии метра и более от незнакомого человека.
- Не позволять прикасаться до себя, брать за руку.
- Не сообщать ни о чем с незнакомцами.
- Не давать свои контакты, документы, номера карт и т.д.
- Убедиться что незнакомец не вооружен и настроен дружелюбно.
- ~~Всегда~~ Всегда быть наготове при возможности опасной ситуации.
-

Задание 2

Впишите в таблицу смысловое значение знаков безопасности.

Запрещающий знак	Смысловое значение запрещающего знака
	<i>не ставить заграждение</i>
	<i>опасное химическое вещество</i>
	<i>медицинское учреждение</i>
	<i>работает погрузчик</i>
	
	<i>Толалёд</i>

	<i>не использовать воду в качестве питья</i>
	<i>работать в наушниках</i>
	<i>не использовать воду под давлением</i>
	<i>забор воды.</i>

Задание 3

Укажите войсковые воинские звания высших офицеров Вооружённых Сил Российской Федерации и расположите их в порядке возрастания старшинства.

майор, подполковник, полковник, генерал, генерал-майор, генерал-лейтенант, генерал армии.

Задание 4

Инфекционные болезни – это заболевания, вызываемые болезнетворными микроорганизмами, которые передаются от заражённого человека или животного к здоровому. Способ перемещения возбудителя инфекционного заболевания от источника инфекции в восприимчивый организм человека или животного называется механизмом передачи инфекции. Механизм передачи может быть реализован различными путями.

Заполните таблицу.

А) Дополните столбцы таблицы («Локализация возбудителя», «Механизм передачи инфекции», «Пути передачи инфекции») соответствующей информацией.

Б) Внесите номер инфекционного заболевания в зависимости от локализации возбудителя из предложенного ниже перечня в столбец таблицы «Номер инфекционного заболевания».

Инфекционные заболевания:

1. Грипп
2. Дизентерия
3. Микоз поверхностный
4. Клещевой энцефалит

Локализация возбудителя	Механизм передачи инфекции	Пути передачи инфекции	Номер инфекционного заболевания
1. Желудочно-кишечный тракт	Фекально-оральный (желудочно-кишечный)	<i>контактно-воздушно, через воду (или испражнения фекалии в воду)</i>	<i>2</i>
2. Дыхательная система	<i>воздушно-капельный</i>	1. Капельный Пылевой	<i>1</i>
<i>кровеносная система</i>	Трансмиссивный	Укусы кровососущих насекомых	<i>4</i>
4. Кожа и слизистые оболочки	<i>воздушно-капельный, прикосновение</i>	1. Прямой 2. Непрямой	<i>3</i>

Максимальная оценка за работу – 100 баллов.